

1) Aşağıdaki cümlelerin hangisinde yazım hatası yapılmıştır?

- A) Gaye'nin kedisi sütü çok seviyor.  
B) Babam konyadan şeker getirdi.  
C) Dayımlarla Manavgat'a gezmeye gittik.

2) Ardanın babası İzmir'e toplantıya gitmiş.

Yukarıdaki cümlede hangi kelimedeki yazım yanlışı yapılmıştır?

- A) İzmir'e B) Ardanın C) babası

3) Aşağıdakilerden hangisi sadece cümlenin başındaysa ilk harfi büyük yazılır?

- A) Ağaç B) Zeynep C) Nevşehir

4) Kemal'in babası ona Sivastan Duman isimli yavru köpek getirmiş.

Yukarıdaki cümlede hangi kelimedeki yazım yanlışı yapılmıştır?

- A) Duman  
B) Kemal'in  
C) Sivastan

5) Aşağıdaki cümlelerin hangisinin sonuna nokta konmaz?

- A) Eyvah , ocağı açık unuttum ( )  
B) Dün annene yardım ettin mi ( )  
C) Ödevimi yapınca parka gideceğim ( )

6) Pelin ve 5 arkadaşı ellerindeki boncukları bir kutuya koymuşlar. Her birinin elinde 18 tane boncuk vardı.

Yukarıdaki ifadeye göre kutuda kaç tane boncuk vardır?

- A) 108 B) 90 C) 98

7) Kağan, hikaye kitabından 7 gün boyunca her gün 9 sayfa okumuş. Geriye 28 sayfa kalmış.

Yukarıdaki ifadeye göre hikaye kitabı toplam kaç sayfadır?

- A) 81 B) 87 C) 91

8) Ablamın 150 lirası vardı. Her gün 15 lira harcamış. Sekiz gün sonunda ablamın kaç lirası kalmıştır?

- A) 40 B) 30 C) 20

9) Bir köylü 10 gün boyunca her gün kümes-  
ten 34 tane yumurta toplamış. Topladığı  
yumurtaların 295 tanesini pazarda satmış.  
Buna göre geriye kaç tane yumurta kal-  
mıştır?

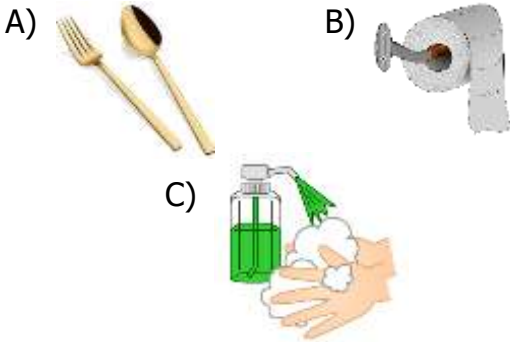
- A) 45      B) 35      C) 55


10) Yandaki bölme işleminde bö-  
lüm kaç bulunur?


$$\begin{array}{r} 84 \quad 3 \\ | \\ \hline \end{array}$$

- A) 26      B) 24      C) 28

11) Aşağıdakilerden hangisini kişisel bakımı-  
yaparken kullanmayız?






12)  Banyo yaparken suyu yeteri kadar kulla-  
nırım.

 İşim bitince saç kurutma makinesini ka-  
patırım.

 Yemek yerken çok peçete kullanırım.

Yukarıdakilerden hangisi kaynakları verimli  
kullanan bir çocuğun davranışı **değildir**?

- A)       B)       C) 

13) Mert : Dişlerimi fırçalarken musluğu açık bı-  
rakırım.

Suna : Diş macununu fırçaya bol miktarda sı-  
karım.

Oya : Ellerimi yıkarken musluğu az açarım.

Yukarıdaki davranışlarda bulunan çocuklar-  
dan hangisini yaptığı davranışın yanlış olma-  
sından dolayı uyarır?

- A) Suna      B) Oya      C) Mert


14) I – Aldığımız ürünlerin son kullanma tarihine  
bakmalıyız.


II- Reklamları dikkate alarak alışveriş yap-  
malıyız.


III- Gereksiz alışveriş yapmamak için liste  
hazırlamalıyız.

Bilinçli bir tüketicinin davranışları düşünül-  
düğünde yukarıdaki ifadelerden kaç tanesi  
doğrudur?

- A) 3      B) 1      C) 2

15)  Kalitesi için önemlidir  
Eda

 Bütçemiz için önemlidir.  
Uğur

 Sağlığımız için önemlidir.  
Ecrin

Öğretmen öğrencilere gıdalar için son kullanma tarihinin neden önemli olduğunu sormuş. Buna göre hangi çocuk doğru cevaplamıştır?

A) Uğur      B) Ecrin      C) Eda

16) erik – kalem – tuz - kaşık - pirinç

Yukarıdaki maddelerden hangileri katı oldukları halde sıvılar gibi içine koyuldukları kabın şeklini alırlar?

A) erik - kalem  
B) tuz - kaşık  
C) tuz - pirinç

17) Belirli bir şekilleri yoktur ve buldukları ortama hemen yayılırlar.

Yukarıda belirtilen özellik hangi haldeki maddelere aittir?

A) sıvı      B) gaz      C) katı

18) Aşağıdaki maddelerden hangisi doğada üç halde de bulunur?

A) taş      B) doğalgaz      C) su

19) benzin – bulgur – su buharı  
tahta - sirke

Yukarıdaki aynı haldeki maddeler eşleştirildiğinde hangi madde **eşsiz** kalır?

A) su buharı  
B) bulgur  
C) sirke

20) Aşağıdakilerden hangisi sıvı maddelere ait bir özellik **değildir**?

A) Akıcıdırlar.  
B) Sıkıştırılabilirler.  
C) Konuldukları kabın şeklini alırlar.

## CEVAP ANAHTARI

TÜRKÇE	MATEMATİK	HAYAT BİL.	FEN BİLİM.
1) B	6) A	11) A	16) C
2) B	7) C	12) B	17) B
3) A	8) B	13) A	18) C
4) C	9) A	14) C	19) A
5) C	10) C	15) B	20) B