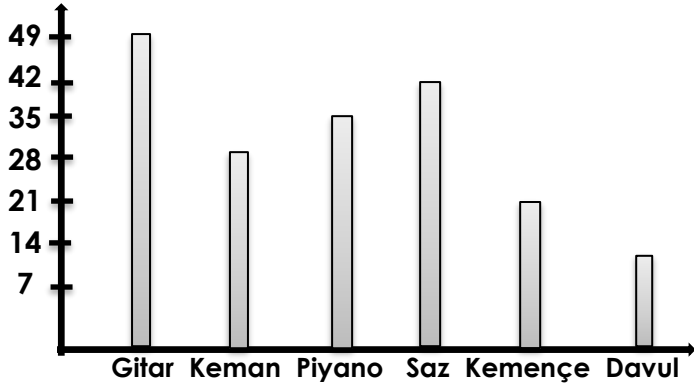


Adı:.....

Soyadı:.....

SÜTUN GRAFİK ETKİNLİĞİ - 2

Veli imzası



1. Grafiğe bir isim verin.

.....

2. Keman çalanlar, davul çalanlardan kaç fazladır?.....

3. Kaç piyano çalan olursa kemeçe çalanların iki katı olur?.....

4. Saz ve gitar çalanların toplamı keman çalanlardan kaç fazladır?.....

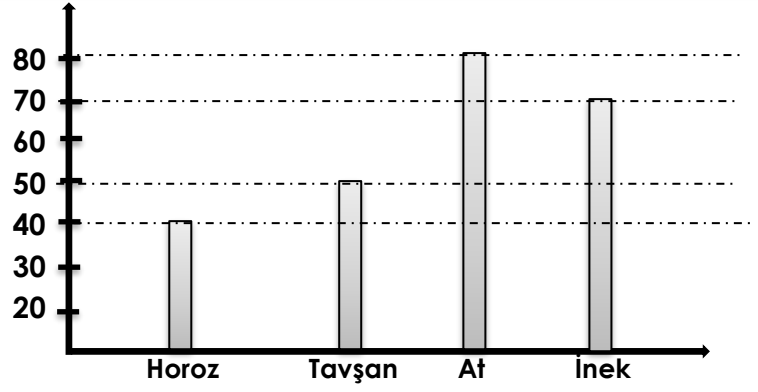
5. Telli çalgı çalanların sayısı kaçtır?.....

6. Toplam kaç çalgı çalan kişi vardır?.....

Grafiğin sıklık ve çetele tablosunu aşağıya çizin

--

--



1. Grafiğe bir isim verin.

.....

2. Atlarla ineklerin toplamı horozlardan kaç fazladır?.....

3. Kaç inek daha olursa horozların iki katı olur?.....

4. Çiftlikteki hayvanların 48 tanesi kaçarsa kaç hayvan kalır?.....

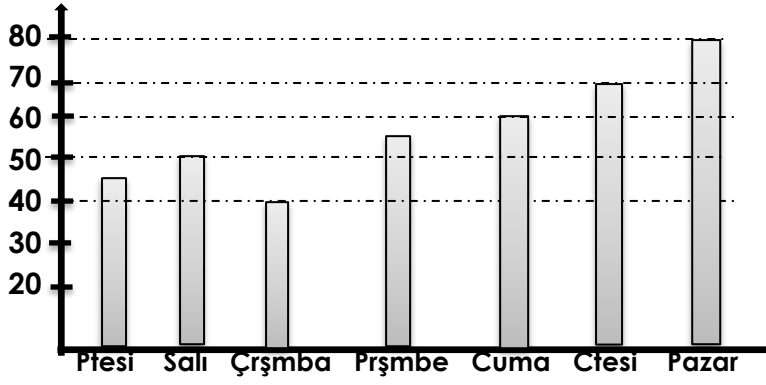
5. Dört ayaklı hayvanlar, iki ayaklılardan kaç fazladır?

6. Toplam kaç hayvan vardır?.....

Grafiğin sıklık ve çetele tablosunu aşağıya çizin

--

--



1. Grafiğe bir isim verin.

.....

2. Grafiğe göre hafta içi kaç sayfa okumuştur?

.....

3. En fazla okuduğu ile en az okuduğu gün arasındaki fark kaçtır?.....

4. Kitabın bitmesine daha 40 sayfa olduğuna göre kitabın yarısı kaç sayfadır?.....

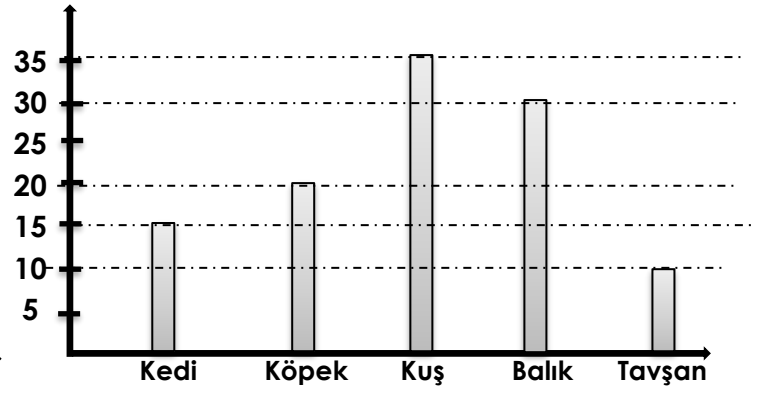
5. Perşembe kaç sayfa daha okusaydı cumanın iki katı olurdu?

6. Toplam kaç sayfa okumuştur?.....

Grafiğin sıklık ve çetele tablosunu aşağıya çizin

--

--



1. Grafiğe bir isim verin.

.....

2. Sınıfta en çok sevilen ve en az sevilen hayvanın arasındaki fark kaçtır?

3. Kuşların üç katı, kedilerin üç katından kaç fazladır?.....

4. Tavşanların 5 katı olabilmesi için kaç köpek daha olmalıdır?.....

5. Kaç kuş daha olsaydı balıkların 4 katı olurdu?

6. Toplam kaç öğrenci vardır?.....

Grafiğin sıklık ve çetele tablosunu aşağıya çizin

--

--