

Adı:.....

Soyadı:.....

SÜTUN GRAFİK ETKİNLİĞİ - 3

Veli imzası



1. En çok ve en az toplanan meyve hangisidir?
.....

2. Elma ve şeftalinin toplamı, muzlardan kaç fazladır?.....

3. Eriklerin kilosu 9 TL olduğuna göre erikten kaç TL kazanırsınız?.....

4. Muzlardan 8000 TL kazandığımıza göre muzun kilosu kaç TL'dir?.....

5. Elmaların 285 kilosu satıldı. 125 kilosu çürüdü. Kaç kg elma kaldı?

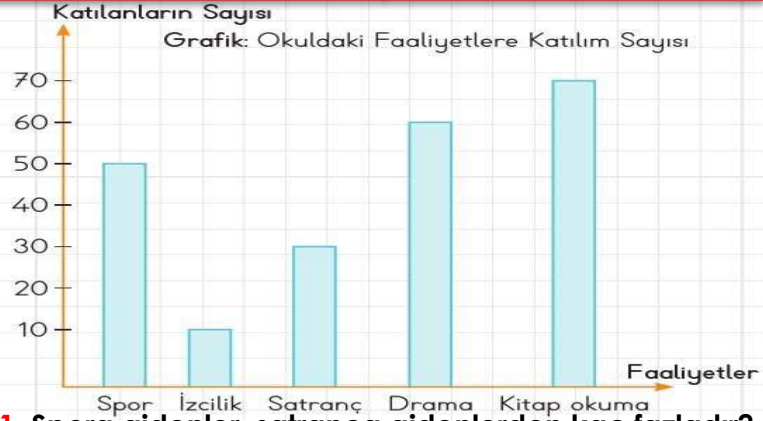
6. Muzlar, kirazlardan kaç kg fazladır?.....

7. Toplam kaç kilo meyve toplanmıştır?.....

Grafiğin sıklık ve çetele tablosunu aşağıya çizin

--

--



1. Spora gidenler, satranca gidenlerden kaç fazladır?
.....

2. Kaç spora giden daha olsaydı en fazla yapılan faaliyet olurdu?.....

3. Drama ile satrancın eşit olması için dramadan kaç kişi satranca geçmelidir?.....

4. Spor ile izciliğin eşit olması için spordan kaç kişi izciliğe geçmelidir?.....

5. Kitap okumaya gidenlerle spora gidenlerin toplamı kaçtır?

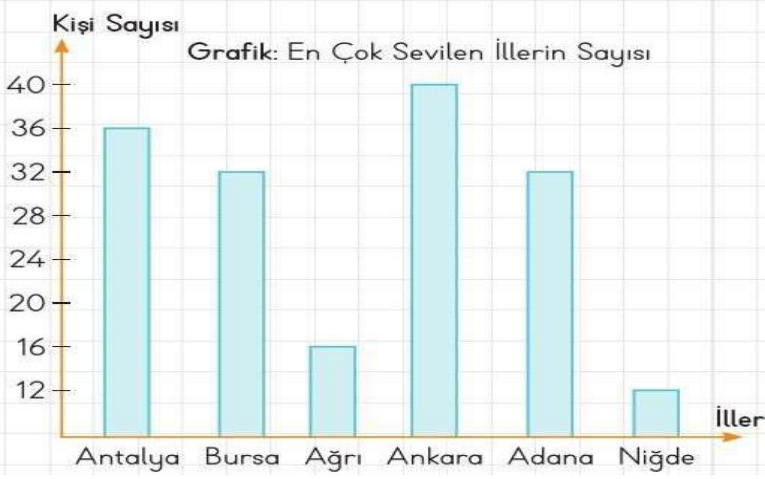
6. En çok ile en azın farkı kaçtır?.....

7. Toplam kaç öğrenci vardır?.....

Grafiğin sıklık ve çetele tablosunu aşağıya çizin

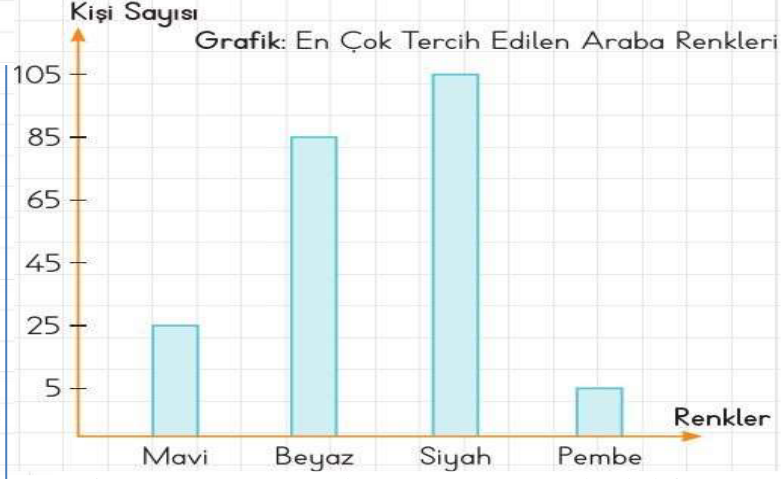
--

--



1. Ankara sevenler Ağrı sevenlerden kaç fazladır?
.....
2. Eşit olarak sevilen şehirler hangisidir?
.....
3. Kaç Antalya seven daha olsaydı Ağrı sevenlerin üç katı olurdu?.....
4. Kaç Bursa seven daha olsaydı Niğde sevenlerin beş katı olurdu?.....
5. Bursa ve Adana sevenlerin toplamı Ankara sevenlerden kaç fazladır?
6. İlleri çoktan aza doğru sıralayın.....
7. Anket kaç kişiye uygulanmıştır?.....

Grafiğin sıklık ve çetele tablosunu aşağıya çizin



1. En fazla ve en az sevilen renkler hangileridir?
.....
2. Siyah sevenler, pembe sevenlerin kaç katıdır?
.....
3. Siyah sevenlerin üç katı, mavi sevenlerin üç katından kaç fazladır?.....
4. Kaç beyaz seven daha olsaydı mavi sevenlerin beş katı olurdu?.....
5. Kaç kuş daha olsaydı balıkların 4 katı olurdu?
.....
6. Siyah sevenler, beyazlardan kaç fazladır ?.....
7. Anket kaç kişiye uygulanmıştır?.....

Grafiğin sıklık ve çetele tablosunu aşağıya çizin