

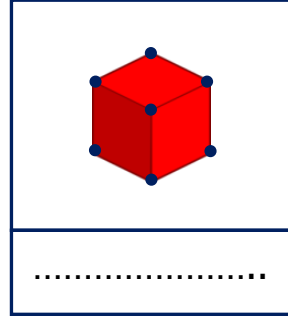
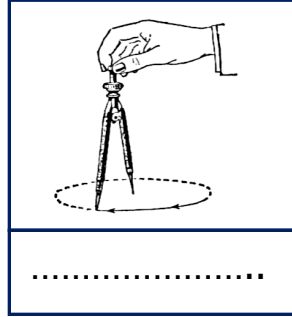
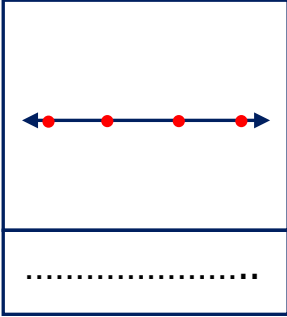

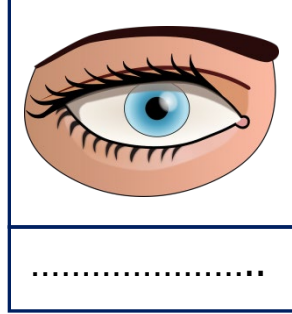
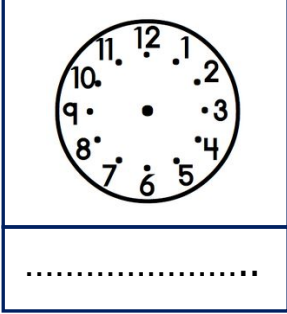


Adı Soyadı :

Numarası :

Konu: Nokta

Aşağıdaki görsellerde nokta modellerini belirleyerek altlarına yazınız.




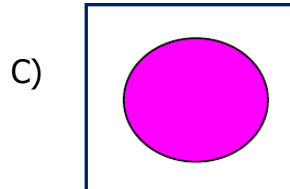
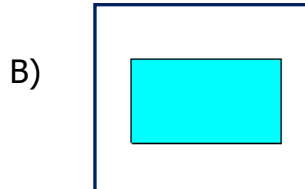
Ertesi gece, tilki eline bir doktor çantası alıp kümese gelmiş.

.....

Aşağıdaki cümlelerin doğru olanlarının başına "D", yanlış olanlarının başına "Y" yazınız.

- () Noktalar farklı büyüklükte olabilirler.
- () Noktaları isimlendirirken küçük harf kullanırsınız.
- () Alfabemizde bütün harflerde nokta vardır.
- () Tahta üzerine çakılan çivinin bıraktığı iz noktaya örnektir.
- () İnsanların buluşma noktaları olamaz.
- () Köşeli geometrik cisimlerin kenarları birer noktadır.
- () Yağmurun yaprakta bıraktığı iz noktaya örnektir.

Aşağıdaki geometrik şekillerden hangisinin noktası yoktur?



Türkiye haritasında nokta ile gösterilen şehirlerin adlarını yerlere yazınız.



RİZE

İSTANBUL

HAKKARİ

ANKARA

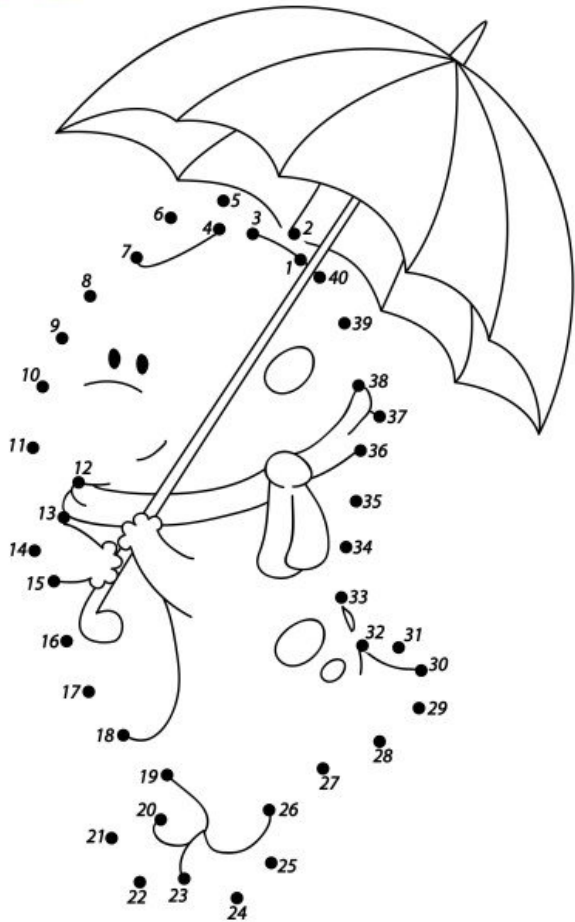
İSTANBUL

İZMİR

ANTALYA

AĞRI

Aşağıdaki noktaları 1'den başlayarak sırasıyla birleştiriniz. Resmi boyayınız.



Hazineye ulaşmak için yedi harften oluşan ismin noktalarını birleştirerek hazineye ulaşabilirsiniz.

