

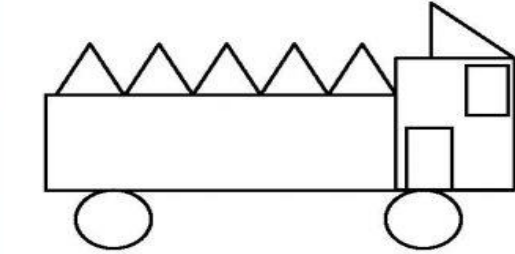
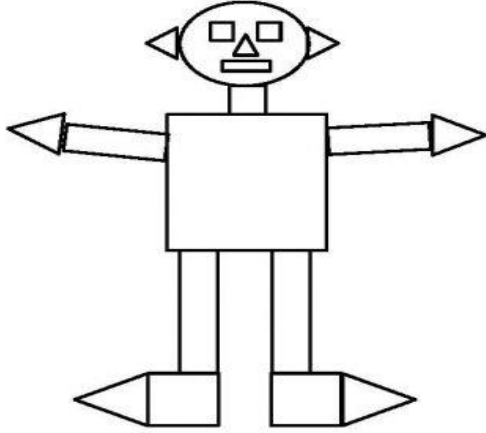


Yapılardaki geometrik şekillerin sayılarını bulalım.

GEOMETRİK ŞEKİLLER

→ Aşağıdaki geometrik şekillerin sayılarını tabloya yazalım ve renklerine göre boyayalım.



www.SeyitAhmetUzun.com

Doğru veya yanlış olanları boyayıp şifreyi çözüünüz.

D	Y	
B	P	Doktor, reçeteye ilaç yazar.
R	P	Doktorun yazdığı ilaçları eczaneden alırız.
E	A	Hemşire bizi muayene eder, tedavi eder.
V	Y	Kan alma, aşı yapma, ateş ölçme hemşirenin görevidir.
Ö	O	Acil tıp teknisyenleri hastaları muayene ederler.
Ç	C	Doktordan başka birisi reçeteye ilaç yazamaz.
O	Ö	Acil tıp teknisyeni kaza yerine gidip ilk müdahaleyi yapar.
Ç	C	Hemşireler, hastaları ameliyat edebilirler.
U	Ü	Doktor olabilmek için tıp fakültesini bitirmek gerekir.
Ğ	G	Diş sağlığımız için diş hekimine gideriz.
U	Ü	Diş hekimi kanal tedavisi, dolgu, diş çekimi yapar.
N	M	Hemşire olabilmek için tıp fakültesini bitirmek gerekir.

--	--	--	--	--	--	--	--

--	--	--	--	--	--	--	--