

Bir zaman bir padişah, iki adama, her birisine emaneten birer çiftlik verir ki, içinde fabrika, makine, at, silâh gibi her şey var. Fakat fırtınalı bir savaş zamanı olduğundan hiçbir şey kararında kalmaz; ya mahvolur veya değişir gider. Padişah, o iki askere, merhametinden, bir elçisini gönderdi. Gayet merhametkâr bir ferman ile onlara diyordu: "Elinizde olan emanetimi bana satınız; ta sizin için koruyum, boşuna yok olmasın. Hem savaş bittikten sonra size daha güzel bir surette iade edeceğim. Hem güya o emanet malınızdır; pek büyük bir fiyat size vereceğim. Hem o makine ve fabrikadaki aletler benim namımla ve benim tezgâhımda işlettirilecek; hem fiyatı, hem ücretleri birden bine yükselecek. Bütün o kârı size vereceğim. Hem de siz, âciz ve fakirsiniz. O koca işlerin masrafını karşılayamazsınız. Bütün masrafı ben karşılarım. Bütün kazanç ve menfaati size vereceğim. Hem de terhis zamanına kadar elinizde bırakacağım. İşte beş mertebe kâr içinde kâr! "Eğer bana satmazsanız, zaten görüyorsunuz ki, hiç kimse elindeki muhafaza edemiyor. Herkes gibi elinizden çıkacaktır. Hem boşuna gidecek; hem o yüksek fiyattan mahrum kalacaksınız. Hem o nazik, kıymetli aletler, mizanlar, istimal edilecek şahane madenler ve işler bulmadığından, bütün bütün kıymetten düşecekler. Hem idare ve muhafaza zahmeti ve külfeti başınıza kalacak. Hem emanette ihanet cezasını göreceksiniz. İşte beş derece zarar içinde zarar.

Günün Özdeyişi

10 tane örneklendirme cümlesi yazın.

.....

.....

.....

.....

.....

.....

.....

.....

.....

.....

.....

Metinle ilgili sorulara cevap verin.

1. Padişah, iki adama ne vermiş?

.....

.....

2. Padişah, iki adamdan ne istemiş?

.....

.....

3. Çitliliğin içinde neler varmış?

.....

.....

Metinle ilgili iki soru yazıp cevaplayın.

1.? ?

.....

.....

2.? ?

.....

.....

Verilen kelimelerle bir öykü oluşturun.

Bamsı

orman

av

at

ok

Dede Korkut

.....

.....

.....

.....

.....

.....

.....

.....


.....

.....

.....

MATEMATİK – FEN BİLİMLERİ – SOSYAL BİLGİLER

Verilen bütünleri istenilen kesirlere ayırınız.



$\frac{3}{4}$

$\frac{2}{5}$

$\frac{4}{8}$



$\frac{3}{6}$

$\frac{5}{7}$

$\frac{2}{3}$

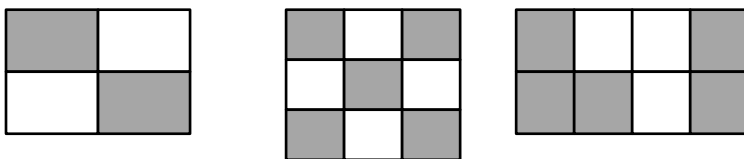
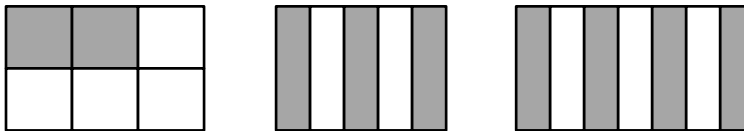
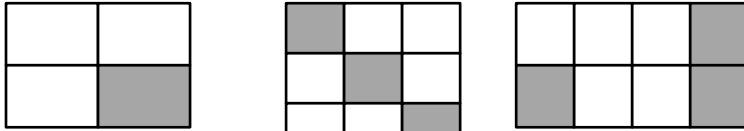


$\frac{5}{6}$

$\frac{3}{7}$

$\frac{2}{9}$

Verilen şekillerin kesirlerini yazınız.



Doğru olan ifadeleri kırmızıya, yanlış olanları maviye boyayalım.

Kütle ölçü birimi kilogramdır.

Boş kabın kütlesi, darı kütledir.

Kap ve içindeki madde nin kütlesi brüt kütledir.

Brütten dara çıkarsa net kütle kalır.

Boş kabın kütlesi net kütledir.

Silginin kütlesi gram ile ölçülür.

Arabanın kütlesi gram ile ölçülür.

Kalemin kütlesi kilogram ile ölçülür.

İnsanların kütlesi kilogram ile ölçülür.

Madde miktarına kütle denir.

Kütle ölçü birimi gramdır.

Sıvı maddelerin kütlesini direk ölçemeyiz.

Doğru olan ifadeleri kırmızıya, yanlış olanları maviye boyayalım.

Bilgisayar sadece eğitim alanında kullanılır.

Telefon iletişim alanında kullanılır.

Arabalar ulaşım alanında kullanılır.

MR cihazı sağlık alanında kullanılır.

Yazıcı eğitim alanında kullanılır.

Fırın sağlık alanında kullanılır.

Ocak yemek alanında kullanılır.

Projeksiyon eğitim alanında kullanılır.

Telsiz iletişim alanında kullanılır.

Uçak sadece ulaşım alanında kullanılır.

Stetoskop sağlık alanında kullanılır.

Füzeler savunma alanında kullanılır.