



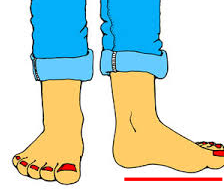
Adı Soyadı :

Numarası :

Çalışma Kağıdı 1

Konu: Uzunlukları ölçelim

Aşağıdaki görsellerde standart olmayan ölçme birimlerini noktalı yerlere yazınız.



.....






.....

.....

.....

.....

Tabloda belirtilen uzunlukların standart olmayan ölçme birimlerinden hangileri ile ölçülebilir.
Kutulara "X" işareti koyalım.

Uzunluklar	Karış 	Ayak 	Adım 	Parmak 	Kulaç 
Sıranın boyu					
Kilimin uzunluğu					
Silginin uzunluğu					
Odanın uzunluğu					
Tahtanın uzunluğu					

Aşağıdaki nesnelerin uzunluklaarını belirtilen ölçme aracıyla ölçünüz ve sonuçları tabloya yazınız.

Ölçüm Yapılacak Nesneler	Ölçme Aracı	Ölçüm Sonucu
Ders kitabı	Ataş
Kapının boyu	İp
Öğretmen masası	Kalem
Kalem kutusu	Ataş

Aşağıdaki nesnelerin ölçümünü hangi standart olmayan ölçme aracıyla eşleştirebiliriz.

