

# ALFABEMİZ

1. Etkinlik: Aşağıda alfabemizde verilmeyen harfleri yazalım.

A	B	...	...	...	E	...	...	...	...	I	İ	...	...	...
1	2	3	4	5	6	7	8	9	10	11	12	13	14	15

M	...	...	...	...	R	S	...	...	...	Ü	V	...	...
16	17	18	19	20	21	22	23	24	25	26	27	28	29

2. Etkinlik: Aşağıda alfabetik sırası verilen harfleri yazalım. Ortaya çıkan kelimeleri okuyalım

K	E	Ç	İ
14	6	4	12

...	...	...
22	26	24

...	...	...	...	...
24	1	27	25	14

...	...	...	...
28	25	21	24

...	...	...	...	...
2	1	15	11	14

...	...	...	...	...
9	18	23	1	7

...	...	...	...
19	21	8	26

...	...	...	...	...
20	12	15	19	24

...	...	...	...	...
22	1	2	25	17

...	...	...	...
6	14	23	12

...	...	...	...	...
5	26	9	26	17

...	...	...	...	...
3	6	27	12	29

...	...	...	...	...	...
22	6	27	12	17	4

...	...	...	...	...	...	
23	6	7	24	1	15	12

...	...	...	...	...	...
7	25	24	2	18	15

...	...	...	...	...	...	
20	1	5	12	23	1	10

# ALFABEMİZ

1. Etkinlik: Alfabetik sırada aşağıda verilen harflerden sonra gelen harfleri yazalım .

C → Ç

F → ....

L → ....

R → ....

Y → ....

T → ....

H → ....

N → ....

D → ....

Ü → ....

J → ....

A → ....

G → ....

İ → ....

M → ....

Ö → ....

2. Etkinlik: Alfabetik sırada aşağıda verilen harflerden sonra gelen harfleri yazalım .

P → R

.... → O

.... → Z

.... → Ş

.... → Ü

.... → Ç

.... → F

.... → T

.... → Y

.... → L

.... → H

.... → E

.... → M

.... → V

.... → C

.... → I

3. Etkinlik: Aşağıda verilen harflerin öncesi ve sonrasındaki harfleri yazalım .

.... D ....

.... K ....

.... Y ....

.... T ....

.... F ....

.... N ....

.... Ü ....

.... Ç ....

.... B ....

.... R ....

.... Ğ ....

.... O ....

.... İ ....

.... Ş ....

.... L ....

.... V ....





## UZUNLUK ÖLÇME

⦿ Aşağıdaki varlıkların uzunluklarını hangi birimle ölçmek daha uygun olur? Uygun seçeneğin çiçeğini boyayalım.



silgi

karış

parmak



akıllı tahta

parmak

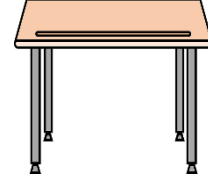
kulaç



halı

ayak

kulaç



sıra

kulaç

karış



bahçe duvarı

adım

ayak



defter

parmak

ayak



balkon

ayak

parmak



iki ağaç arası

kulaç

adım





## UZUNLUK ÖLÇME

🐞 Aşağıdaki varlıkların uzunluklarını hangi birimle daha çabuk ölçeriz? Uygun seçeneğin çiçeğini boyoyalım.



sehpa

karış

adım



kalem

parmak

kulaç



kurdele

ayak

kulaç



yastık

adım

karış



iki pota arası

ayak

adım



çay kaşığı

parmak

ayak



kibrit kutusu

parmak

karış



sınıfımızın boyu

parmak


adım






## TARTMA

⦿ Aşağıda verilen ölçümlerde noktalı yerlere "ağırdır, hafiftir" kelimelerinden doğru olanını yazınız.




Karpuz , kavundan .....

Kavun , karpuzdan .....



Patates , kavundan .....

Kavun , patatesten .....



Kabak , patatesten .....

Patates , kabaktan .....



Kabak , domatesten .....

Domates , kabaktan .....



Biber , domatesten .....

Domates , biberden .....




## TARTMA

⦿ Aşağıda verilen ölçümlerde noktalı yerlere "ağırdır, hafiftir" kelimelerinden doğru olanını yazınız.



Ayakkabı , çantadan .....

Çanta , ayakkabıdan .....



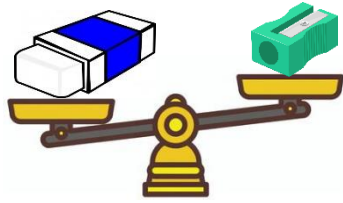
Kitap , defterden .....

Defter , kitaptan .....



Kalem , kalemlikten .....

Kalemlik , kaleminden .....



Silgi , açacaktan .....

Açacak , silgiden .....



Kalemlik , suluktan .....

Suluk , kalemlikten .....



## TARTMA

 Aşağıda verilen iki hayvandan ağır olanının kutusunu maviye, hafif olanını kırmızıya boyayınız.

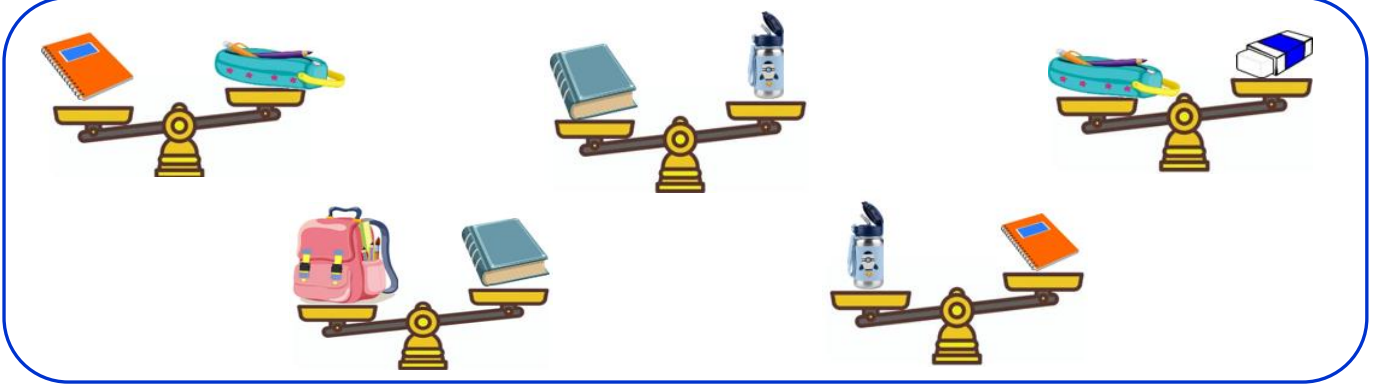






## TARTMA

⊗ Aşağıda verilen ölçüm sonuçlarına göre noktalı yerlere doğru kelimeleri yazınız.  
( ağırdır , hafiftir , silgi , çanta , suluk , kitap , defter , kalemlik )




- \* ..... en ağır eşyadır.
- \* ..... en hafif eşyadır.
- \* Kitap , suluktan .....
- \* Kalemlik , defterden .....
- \* Defter , ..... ve .....den ağırdır.
- \* Suluk, ..... ve .....tan hafiftir.
- \* ..... en hafif ikinci eşyadır.
- \* ..... en ağır ikinci eşyadır.
- \* Suluk , silgiden .....
- \* Kalemlik , kitaptan .....
- \* ..... , kitaptan hafif, defterden ağırdır.
- \* ..... , çantadan hafif, suluktan ağırdır.
- \* .....den hafif 2 tane eşya vardır.
- \* .....tan ağır 2 tane eşya vardır.
- \* Defter, suluk ve kalemlik eşyalarından en hafifi .....tir.
- \* Defter, suluk ve kalemlik eşyalarından en ağırı .....tur.





## TARTMA

🐞 Aşağıda verilen varlıkları ağırdan hafife doğru numaralandırarak sıralayınız.





TARTMA

⦿ Aşağıda verilen varlıkları hafiften ağıra doğru numaralandırarak sıralayınız.

1. Row of objects for sorting: a pitcher, a glass, a fork, and a pot. Each object has a small square box below it for labeling.

2. Row of animals for sorting: a turtle, an elephant, a crocodile, and a giraffe. Each animal has a small square box below it for labeling.

3. Row of school items for sorting: a backpack, a notebook, a pair of scissors, and a book. Each item has a small square box below it for labeling.

4. Row of animals for sorting: a rabbit, a tiger, a fox, and a wolf. Each animal has a small square box below it for labeling.