



5 N 1 K SORULARI

✿ Aşağıdaki cümlelerde altı çizili kelimenin cevap olacağı soruyu boyayınız.

✿ Ablam **hasta olduğu için** okula gidemedi.

Nasıl gidemedi ?

Niçin gidemedi ?

Kim gidemedi ?



✿ Melih okula **yürüyerek** gider.

Nasıl gider ?

Kim gider ?

Nereye gider ?



✿ Demet **yatmadan önce** bir bardak süt içer.

Ne içer ?

Kim içer ?

Ne zaman içer ?

✿ Azmi **kütüphaneden** ödünç kitap almış.

Kim almış ?

Ne almış ?

Nereden almış ?



✿ **Sinem** okuldaki törende şiir okudu .

Nerede okudu ?

Ne okudu ?

Kim okudu ?

✿ Fatih **dere**de balık tutmuş.

Nerede tutmuş ?

Kim tutmuş ?

Ne tutmuş ?



✿ Betül **yüzme bilmediği için** denize girmedi.

Kim girmedi ?

Niçin girmedi ?

Nereye girmedi ?

✿ Gökhan geç kalınca **sessizce** sınıfa girmiş.

Nasıl girmiş ?

Kim girmiş ?

Nereye girmiş ?



✿ Pelin **hafta sonu** yüzme kursuna yazılmış.

Kim yazılmış ?

Ne zaman yazılmış ?

Nereye yazılmış ?

✿ Ozan , Jale'yi **parkta** sallanırken görmüş.

Kim görmüş ?

Nasıl görmüş ?

Nerede görmüş ?





OLAYLARIN OLUŞ SIRASI

* Aşağıdaki metinde boş bırakılan yerlere "önce, sonra, daha sonra, sonunda , en sonunda" ifadelerinden uygun olanı yazınız.

..... çantamı açtım. defterimi çıkarıp masama koydum.
..... hangi resmi yapacağıma karar verdim. istediğim resmi
yaptım. yaptığım resmi anneme ve babama gösterdim.



..... sepeti alıp kümese gittim. kümesin kapısını açıp girdim.
..... yumurtaları sepete koydum. kümesten çıkıp kapıyı
kapattım. yumurtaları mutfağa götürdüm.



..... hangi filmi izleyeceğimizi kararlaştırdık. biletlerimizi al-
dık. hep birlikte filmi izledik. sinemadan çıkıp ye-
mek yedik. arabaya binip eve gittik.



..... babam kanepeyi kaldırdı. annem halıyı topladı.
..... babam halıyı balkona çıkardı. annem halıyı balkon-
da yıkadı. halıyı balkon demirlerine astık.



..... pazardan alınacakları yazdım. annem pazar arabasını
aldı. annemle birlikte pazara gittik. Pazardan sebze
ve meyve aldık. aldıklarımızı pazar arabasına koyup eve geldik.





EŞEK İLE KURT

Bir varmış bir yokmuş, evvel zaman içinde dağların ardında ormanın içinde bir eşek yaşarmış. Çok susadığında tertemiz ve serin bir dereye gider su içermiş. Bu eşek yine bir gün çok susamış ve dere kenarına giderek su içmeye başlamış. Birden arkasından bir gürültü duymuş ve başının derde gireceğini anlamış. Gelen gürültü kurttan geliyormuş. Kurt eşeği avlamak için atağa geçmeyi planlıyormuş. Eşek ise kaçacak yeri olmadığını fark edince aç kurdu önlemek için bir plan hazırlamış.

Birden topallayarak sancı sesleri çıkarmaya başlamış. Aç kurt eşeğin yanına giderek sormuş. Neyin var eşek kardeş, daha sana saldırmadım bile nedir bu çığlıklarının sebebi, demiş. Eşek ise anlatmaya başlamış. "Ayağıma çok büyük ve sivri bir diken girdi ve bu diken canımı çok acıtıyor, sen de beni yersen muhtemelen mideni delebilir," demiş. Bunun üstüne kurt düşünmüş. Madem bu eşeği yiyeceğim bari dikenini çıkarıp öyle yiyeyim, demiş.

Bunun ardından kurt, eşeğin arkasına geçerek dikenini aramaya başlamış. Bu sırada da eşeği nasıl yiyeceğini hayal ediyormuş. Eşeğin arkasına geçince ayağını kaldırmasını söyleyip iyice incelemek istemiş. Karnı da çok açmış pek mantıklı düşünemiyormuş.

Eşek ayağını kaldırır kaldırmaz ayaklarıyla kurdun dişlerine çok sert bir şekilde çifte atmış. Kurt geriye doğru fırlarken dişlerinin her biri yamulmuş. Kurt söze başlamış. "Ben bu çifteyi gerçekten hak ettim çünkü doktorluk benim neyime, ben bir kasabım," demiş. Karnı aç bir şekilde eşeğin yanından ayrılmış. Yaptığı hatanın farkına varıp bir daha bilmediğim işlere kalkışmayacağını söylemiş.



Aşağıdaki soruları metne uygun bir şekilde cevaplayınız.

1. Eşek nerede yaşarmış?

.....

2. Eşek niçin dere kenarına gitmiş?

.....

3. Kurt ne planlıyormuş ?

.....

4. Eşek kurttan kurtulmak için nasıl bir plan yapmış?

.....

5. Eşek ayağını kaldırır kaldırmaz ne yapmış?

.....

6. Kurt niçin mantıklı düşünemiyormuş?


.....

MEVSİM MEYVELERİ VE SEBZELERİ

1. Etkinlik: Aşağıda verilen sebze ve meyve isimlerini uygun mevsimlere yazınız. Bazı sebze ve meyveler iki mevsimde olabilir ancak yetiştiği mevsime dikkat edelim.



ayva - kiraz - ıspanak - pırasa - karpuz - erik - nar - kayısı - kabak
domates - çilek - elma - patlıcan - havuç - biber - mandalina - portakal
şeftali - dut - salatalık - üzüm - kivi - lahana - armut - karnabahar
incir - turp - çağla - taze fasulye - greyfurt - bezelye - kırmızı biber



İlkbahar


Yaz


Sonbahar


Kış


2. Etkinlik: Aşağıda verilen cümlelerdeki noktalı yerleri doğru şekilde dolduralım .


ilkbahar – para – sonbahar – mevsim – meyveler – yaz – sağlıklıdır - kış

 Mevsiminde yetişen daha lezzetlidir.

 Portakal mevsiminin meyvesidir.

 Karpuz mevsiminin meyvesidir.




 Dut mevsiminin meyvesidir.

 Ayva mevsiminin meyvesidir.

 Mevsiminde yetişen sebze ve meyveler daha

 Her meyve ve sebzenin yetiştiği bir vardır.

 Mevsiminde alınan sebze ve meyvelere daha az ederiz.



KIYAFET SEÇERKEN

1. Etkinlik: Aşağıdaki kıyafet ve ayakkabıları uygun olduğu mevsime göre boyayınız .
İlkbahar: Yeşil Yaz : Kırmızı Sonbahar: Sarı Kış : Mavi



- 2.Etkinlik: Aşağıdaki resimlerin altına uygun mevsimleri yazınız .



.....

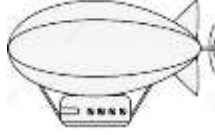
.....

.....

.....

ULAŞIM TÜRLERİ VE ARAÇLARI

1. Etkinlik: Aşağıdaki taşıtların türünü "kara yolu , deniz yolu , demir yolu , hava yolu" şeklinde yazınız.

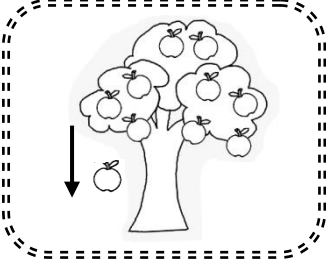


2. Etkinlik: Aşağıdaki cümlelerden doğru olanların çiçeklerini maviye, yanlış olanlarını kırmızıya boyayalım.


- ✿ Gemi kara yolunda giden bir taşıttır.
- ✿ En güvenilir ulaşım demir yoludur.
- ✿ Trenleri makinist kullanır.
- ✿ Kamyon kara yolunda giden bir taşıttır.
- ✿ Tramvayı kaptan kullanır.
- ✿ Helikopter hava yolunda giden bir taşıttır.
- ✿ Gemileri kullananlara şoför denir.
- ✿ İnsan, hayvan ve yük taşımaya yarayan araçlara taşıt denir.
- ✿ Uçakları kullanan kişilere pilot denir.
- ✿ Otobüs demir yolunda giden bir taşıttır.
- ✿ Otomobilleri kullananlara vatman denir.
- ✿ Vapur deniz yolunu kullanır.

YER, YÖN VE HAREKET BELİRTELİM

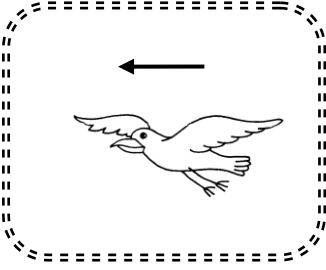
1. Etkinlik: Aşağıdaki görsellerdeki hareketlerden doğru olanının çiçeğini boyayınız.



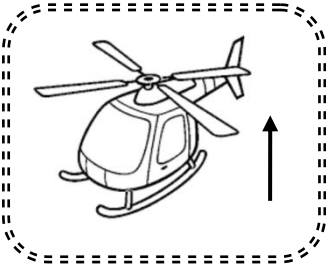
- ☼ Sağdan sola doğru hareket.
- ☼ Soldan sağa doğru hareket.
- ☼ Yukarıdan aşağıya doğru hareket.
- ☼ Aşağıdan yukarı doğru hareket.



- ☼ Sağdan sola doğru hareket.
- ☼ Soldan sağa doğru hareket.
- ☼ Yukarıdan aşağıya doğru hareket.
- ☼ Aşağıdan yukarı doğru hareket.



- ☼ Sağdan sola doğru hareket.
- ☼ Soldan sağa doğru hareket.
- ☼ Yukarıdan aşağıya doğru hareket.
- ☼ Aşağıdan yukarı doğru hareket.




- ☼ Sağdan sola doğru hareket.
- ☼ Soldan sağa doğru hareket.
- ☼ Yukarıdan aşağıya doğru hareket.
- ☼ Aşağıdan yukarı doğru hareket.

www.mebders.com zmocit58 zm

2. Etkinlik: Fareyi peynire götürmek için cümlelerdeki boşlukları doğru kelimelerle doldurunuz.

sağa sola aşağıya yukarıya



- 1.) 5 kare doğru ilerlemeli.
- 2.) 3 kare doğru ilerlemeli.
- 3.) 2 kare doğru ilerlemeli.
- 4.) 2 kare doğru ilerlemeli.
- 5.) 2 kare doğru ilerlemeli.
- 6.) 5 kare doğru ilerlemeli.
- 7.) 3 kare doğru ilerlemeli.
- 8.) 1 kare doğru ilerlemeli.
- 9.) 3 kare doğru ilerlemeli.
- 10.) 2 kare doğru ilerlemeli.
- 11.) 1 kare doğru ilerlemeli.

YER , YÖN VE HAREKET BELİRTELİM

1. Etkinlik: Boşlukları orta kutudaki Ayşe'ye göre doldurunuz.



✿ Ayşe bir kutu sağa giderse ulaşır.

✿ Ayşe bir kutu yukarı giderse ulaşır.

✿ Ayşe iki kutu aşağı giderse ulaşır.

✿ Ayşe önce bir kutu aşağı , sonra bir kutu sağa giderse ulaşır.

✿ Ayşe önce bir kutu yukarı , sonra bir kutu sola giderse ulaşır.

✿ Ayşe iki kutu giderse kelebeğe ulaşır.

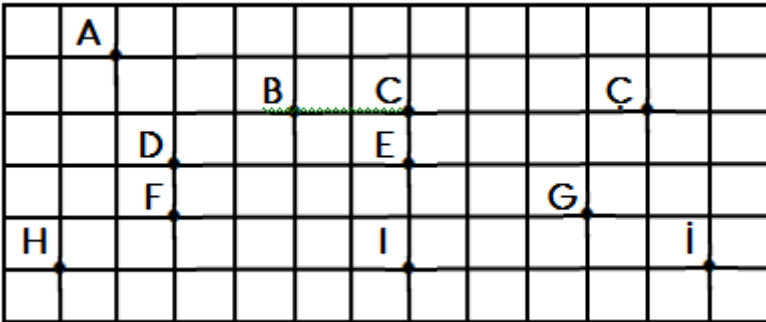
✿ Ayşe önce bir kutu , sonra bir kutu giderse bisiklete ulaşır.

✿ Ayşe önce iki kutu , sonra bir kutu giderse kuşa ulaşır.

✿ Ayşe önce iki kutu , sonra bir kutu giderse ağaca ulaşır.

2. Etkinlik: Boşlukları noktaların konumuna göre örnekteki gibi doldurunuz.

sağında , solunda , aşağısında , yukarısında



✿ C noktası, B noktasının .2.. birim sağında

✿ F noktası, D noktasının birim

✿ H noktası, I noktasının birim

✿ Ç noktası, C noktasının birim

✿ B noktası, Ç noktasının birim

✿ A noktası, D noktasının birim , birim

✿ G noktası, E noktasının birim , birim

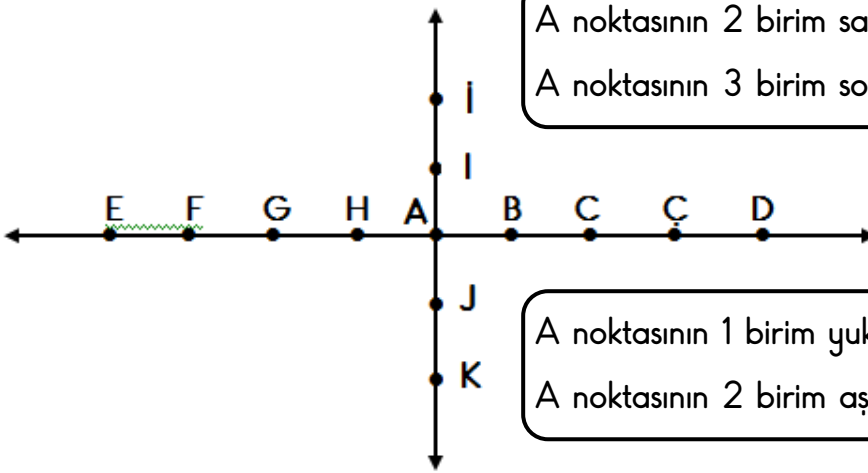
✿ H noktası, F noktasının birim , birim

✿ F noktası, B noktasının birim , birim



YER, YÖN VE HAREKET BELİRTELİM

1. Etkinlik: Aşağıdaki soruları sayı doğrusuna göre cevaplayınız.



A noktasının 2 birim sağında hangi nokta vardır?
A noktasının 3 birim solunda hangi nokta vardır?

A noktasının 1 birim yukarısında hangi nokta vardır?
A noktasının 2 birim aşağısında hangi nokta vardır?

G noktasının 4 birim sağında hangi nokta vardır?

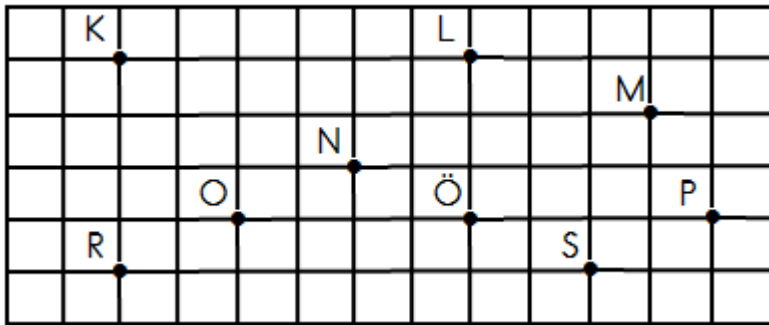
D noktasının 2 birim solunda hangi nokta vardır?

İ noktasının 3 birim aşağısında hangi nokta vardır?

K noktasının 4 birim yukarısında hangi nokta vardır?



2. Etkinlik: Aşağıdaki soruları cevaplayınız.



Ö noktasının 4 birim sağında hangi nokta vardır?

L noktasının 3 birim aşağısında hangi nokta vardır?

O noktasının 2 birim sağında , 1 birim yukarısında hangi nokta vardır?

S noktasının 2 birim solunda , 1 birim yukarısında hangi nokta vardır?

N noktasının 4 birim solunda , 2 birim aşağısında hangi nokta vardır?

L noktasının 3 birim sağında , 1 birim aşağısında hangi nokta vardır?

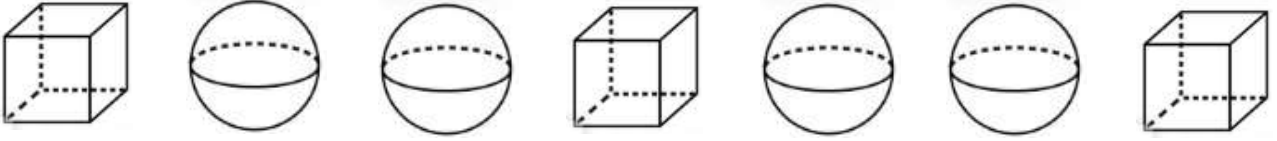
P noktasının 8 birim solunda hangi nokta vardır?

K noktasının 6 birim sağında hangi nokta vardır?

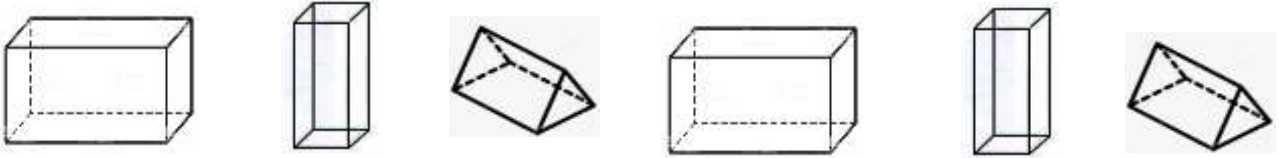


GEOMETRİK ÖRÜNTÜLER

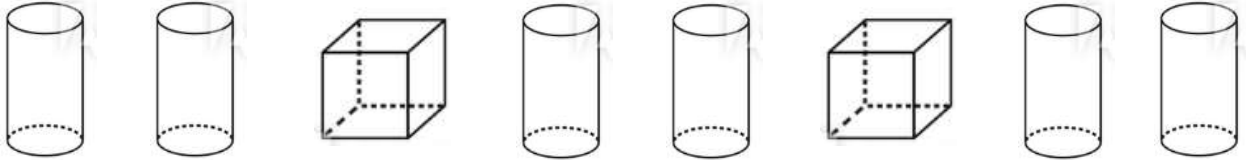
1. Etkinlik: Aşağıdaki örüntülerin kuralını yazalım . Geometrik cisimleri kurala uygun olarak boyayalım.



Kural :



Kural :

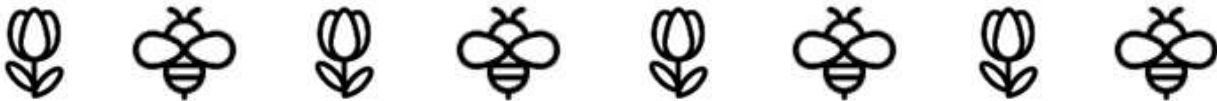


Kural :

2. Etkinlik: Aşağıdaki örüntülerin kuralını yazalım .




Kural :



Kural :



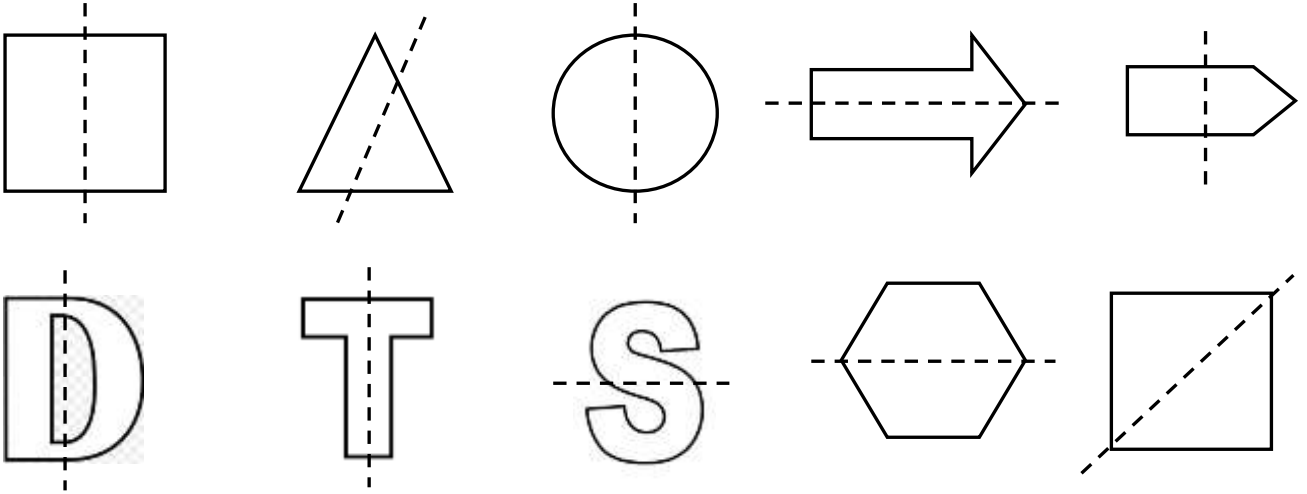
Kural :



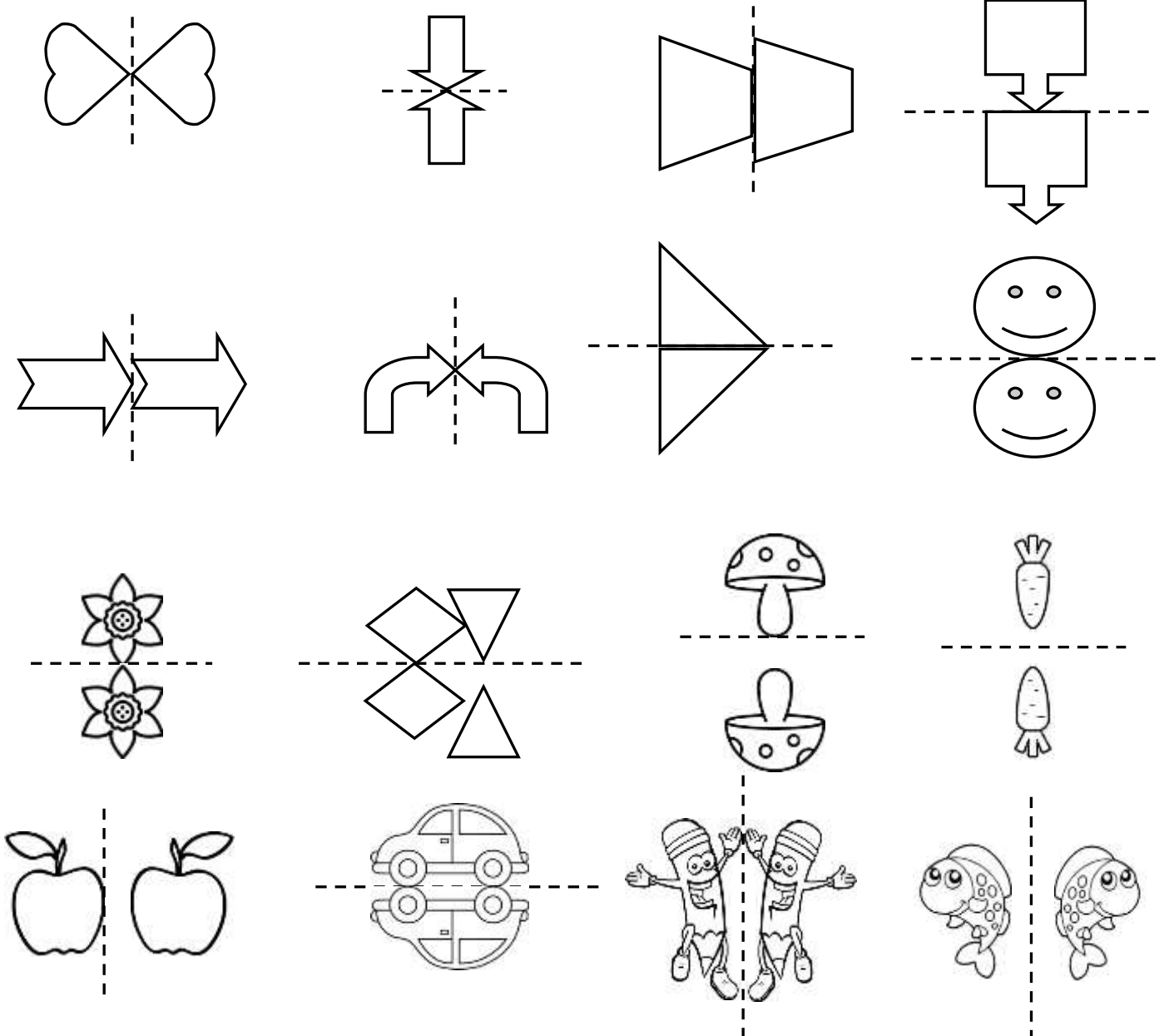
Kural :

SİMETRİK ŞEKİLLER

1. Etkinlik: Aşağıdaki harf ve şekillerden belirtilen şekilde katlandığında iki eş parçaya ayrılabilenleri boyayalım .

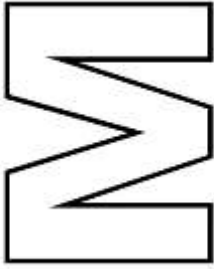

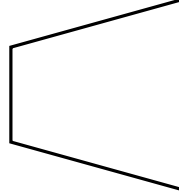

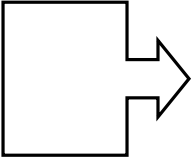


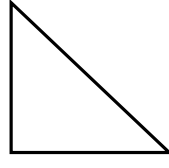
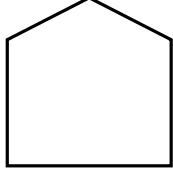


2. Etkinlik: Aşağıdaki şekillerden ve resimlerden simetrik olanları boyayalım .




SİMETRİK ŞEKİLLER

1. Etkinlik: Aşağıdaki şekillerin simetri çizgilerini çizerek iki eş parçaya ayıralım .



2. Etkinlik: Aşağıdaki eş parçalar eşleyelim ve aynı renge boyayalım.

1



2



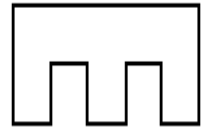
3



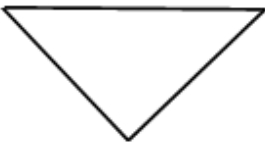
4



5



...



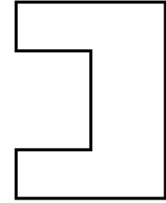
6



...



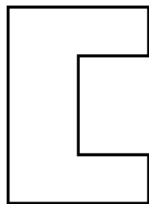
7



...



...



...



...



...

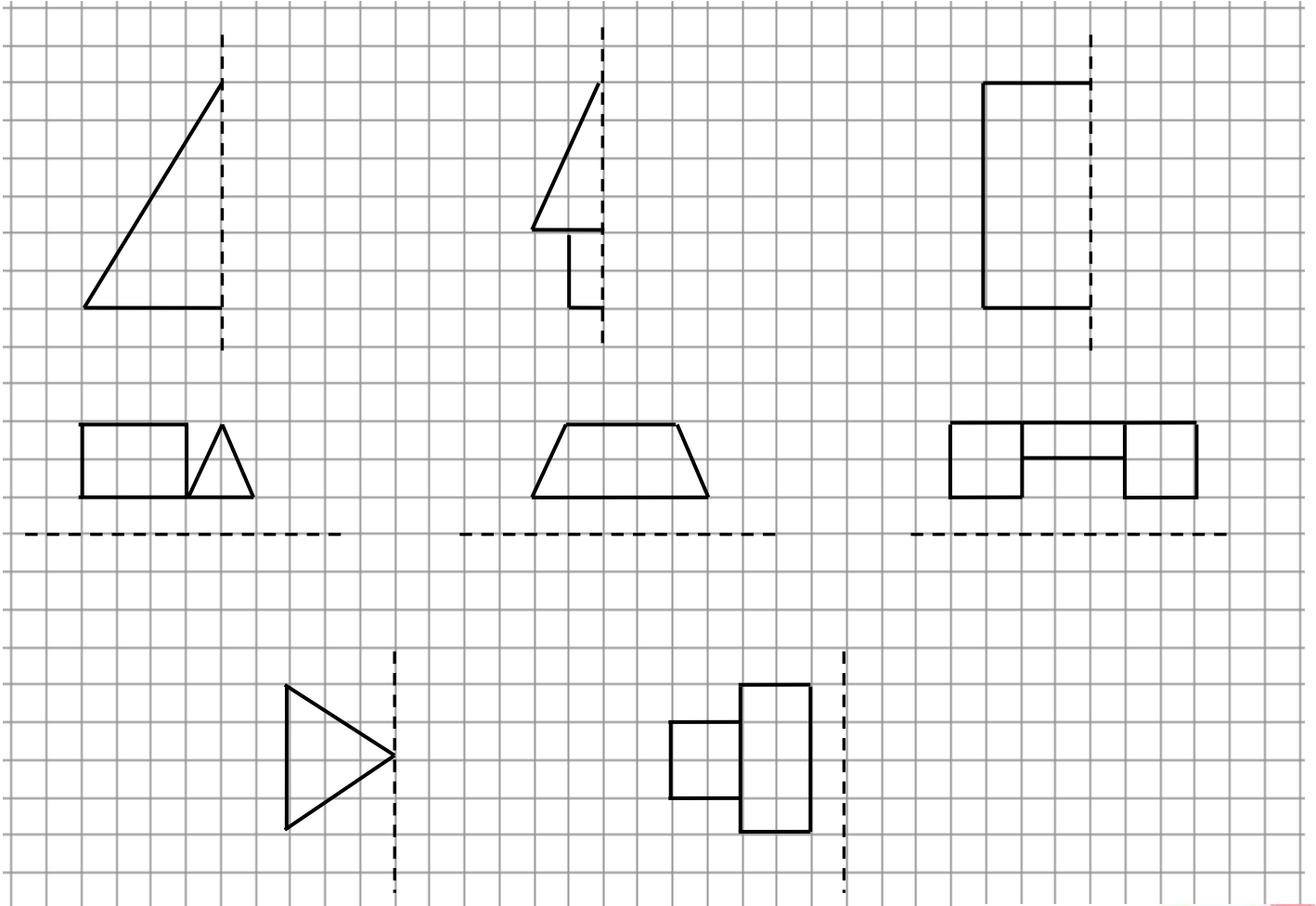


SİMETRİK ŞEKİLLER

1. Etkinlik: Aşağıdaki harflerden 2 eş parçaya ayrılabilir olanları boyayalım.



2. Etkinlik: Aşağıdaki şekillerin katlama doğrularına göre diğer yarılarını çiziniz.



GEOMETRİK ÖRÜNTÜLER

1. Etkinlik: Aşağıdaki örüntülerde boş bırakılan yerlere uygun şekli çizelim.

