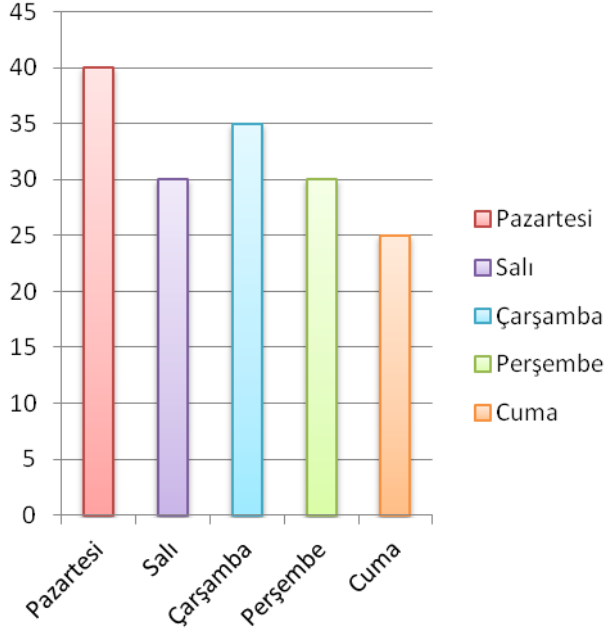
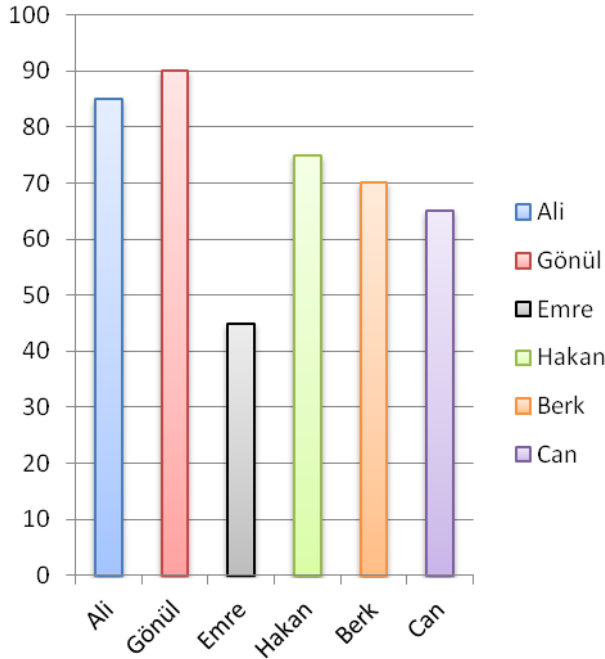


Kitap Okuma Grafiği



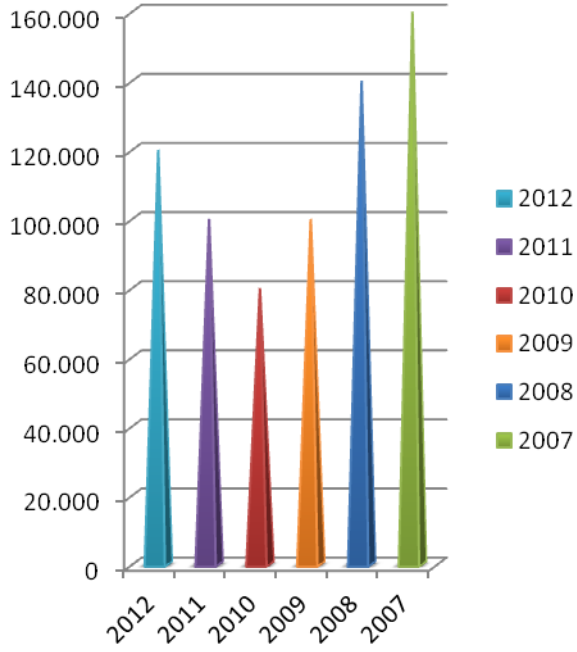
1. Öğrenci en çok hangi gün kitap okumuştur?
2. Öğrenci en az hangi gün kitap okumuştur?
3. Öğrenci hangi günlerde kitap okuma sayısını düşürmüştür?
4. Öğrenci toplam kaç sayfa okumuştur?
5. Öğrenci hangi günlerde eşit sayıda kitap okumuştur?

Not Grafiği



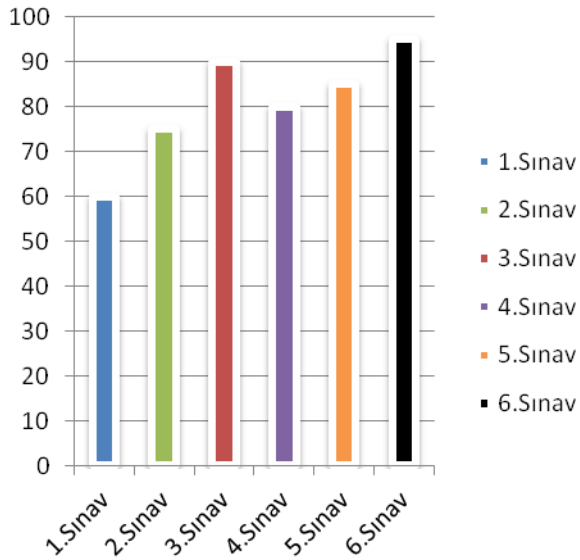
1. En yüksek notu hangi öğrenci almıştır?
2. En düşük notu hangi öğrenci almıştır?
3. Sınavda 3. olan öğrenci kimdir?
4. Sınavın not ortalaması kaçtır?
5. Hangi öğrenciler 4 ve 4'ten yüksek almıştır?
6. Grafiğe göre en fazla yanlışı kim yapmıştır?

Satılan Araç Grafiği



1. Grafiğe göre en çok araç hangi yıl satılmıştır?
2. Grafiğe göre, otomotiv sektöründe en kötü yıl hangisi olmuştur?
3. Grafiğe göre son 6 yılda toplam kaç araç satılmıştır?
4. Grafiğe göre, 2010 yılında araç satışında ne kadar düşüş yaşanmıştır?
5. Grafiğe göre en karlı yıl hangi yıl olmuştur?

Sınav Notu Grafiği



1. Grafiğe göre, öğrenci en yüksek notu hangi sınavda almıştır?
2. Öğrenci en düşük notu hangi sınavda almıştır?
3. Öğrencinin not ortalaması kaçtır?
4. En çok yanlış hangi sınavda yapmıştır?
5. En çok doğruyu hangi sınavda yapmıştır?