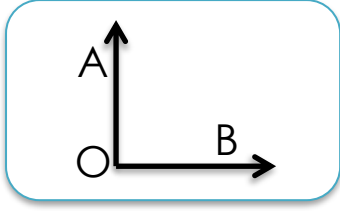


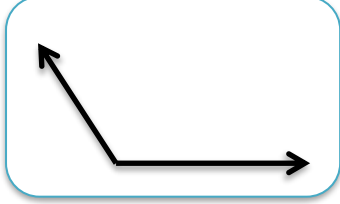
4.SINIF – MATEMATİK – AÇILARI ÖLÇME ETKİNLİĞİ



Açının ismi
AOB açısı

Açının türü
Dik açı

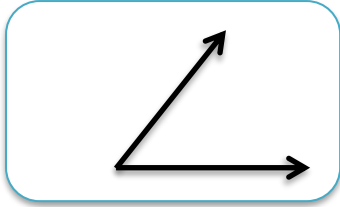
Açının ölçüsü
90°



Açının ismi
.....

Açının türü
.....


Açının ölçüsü
.....



Açının ismi
.....

Açının türü
.....

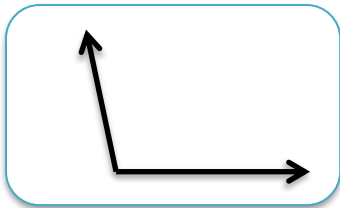
Açının ölçüsü
.....



Açının ismi
.....

Açının türü
.....


Açının ölçüsü
.....



Açının ismi
.....

Açının türü
.....


Açının ölçüsü
.....



Açının ismi
.....

Açının türü
.....

Açının ölçüsü
.....

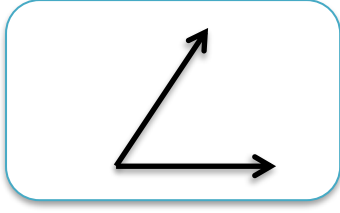


Açının ismi
.....

Açının türü
.....

Açının ölçüsü
.....

Yukarıdaki açılarının ölçülerini iletki ile ölçüp bulunuz.



Açının ismi
AOB açısı



Açının türü
Dik açı



Açının ölçüsü
90°



Açının ismi
.....



Açının türü
.....



Açının ölçüsü
.....



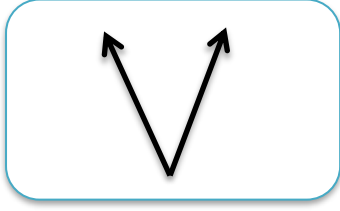
Açının ismi
.....



Açının türü
.....



Açının ölçüsü
.....




Açının ismi
.....



Açının türü
.....



Açının ölçüsü
.....




Açının ismi
.....



Açının türü
.....



Açının ölçüsü
.....




Açının ismi
.....



Açının türü
.....



Açının ölçüsü
.....



Açının ismi
.....



Açının türü
.....



Açının ölçüsü
.....

Yukarıdaki açıların ölçülerini iletki ile ölçüp bulunuz.