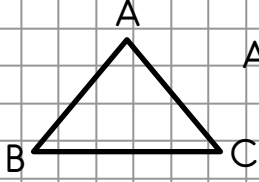


Kenarlarına Göre Üçgen Çeşitleri

Eşkenar Üçgen

Üç kenar uzunluğu birbirine eşit olan üçgenlere eş kenar üçgen denir.

Eşkenar üçgenlerin, kenar arasındaki üç açı ölçüsü de birbirine eşittir. Örnek:

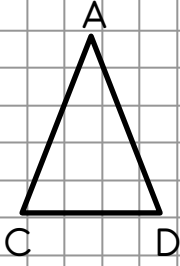


ABC üçgeni bir eşkenar üçgendir. Çünkü bütün kenarları birbirine eşittir.

İkizkenar Üçgen

İki kenar uzunluğu birbirine eşit olan üçgenlere ikizkenar üçgen denir.

İkizkenar üçgende, tabandaki iki açının ölçüsü birbirine eşittir.

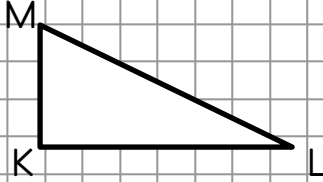


ACD üçgeni, bir ikizkenar üçgendir.

AD kenarı ile AC kenarı birbirine eşittir.

Çeşitkenar Üçgen

Bütün kenar uzunlukları birbirinden farklı olan üçgenlere çeşitkenar üçgen denir.



KLM üçgeninin bütün kenar uzunlukları birbirinden farklıdır.

KLM üçgeni, bir çeşitkenar üçgendir.

Kenar uzunlukları verilen üçgenleri çizin ve türünü yazın.

$$[KL] = [KM] = [LM] = 3 \text{ cm}$$

$$[AB] = [BC] = 4 \text{ cm}$$

$$[CA] = 2 \text{ cm}$$

$$[PR] = 3 \text{ cm} \quad [PS] = 4 \text{ cm} \quad [RS] = 2 \text{ cm}$$