

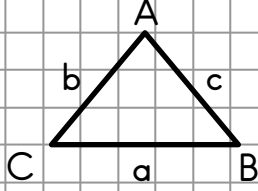
## Üçgen, Kare ve Dikdörtgeni İsimlendirme

### Üçgen

Üç kenarı, üç köşesi olan geometrik şekillere üçgen denir.

Üçgeni isimlendirirken her bir köşesine bir büyük harf veririz. Aynı harf iki kere kullanılmaz.

Bir köşeden başlayarak saat yönünün tersinden ya da saat yönüyle okunur ve yazılır. Örnek:



$\widehat{ABC}$  üçgeni

$\widehat{ACB}$  üçgeni

$\widehat{BCA}$  üçgeni

$\widehat{BAC}$  üçgeni

$\widehat{CAB}$  üçgeni

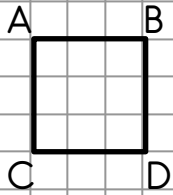
$\widehat{CBA}$  üçgeni

Üçgeni isimlendirirken üstüne küçük bir üçgen konur. Üçgenin köşelerinin karşısındaki kenar, aynı harfin küçüğü ile adlandırılır. Ya da iki köşenin ortasındaki kenar, o köşelerdeki harflerle isimlendirilir. [AB] kenarı, [AC] kenarı, [CB] kenarı

### Kare

4 kenarı, 4 köşesi olan, bütün kenarları birbirine eşit olan geometrik şekillere kare denir.

Kareyi isimlendirirken her köşesine büyük harf veririz. ABDC karesi. BDCA karesi vb...




İsim verirken bir köşeden karşısındaki köşeye atlanmaz. İki köşe arasında kalan kenar köşelerin ismi ile adlandırılır. [AB], [BD], [DC], [CA] kenarı...

### Dikdörtgen

4 kenarı 4 köşesi olan karşılıklı kenarları birbirine eşit olan geometrik şekillere dikdörtgen denir.

Dikdörtgeni isimlendirirken her köşesine büyük harf veririz. ABDC, BDCA dikdörtgeni...



KLNM dikdörtgeni,

LNMK dikdörtgeni

NMKL dikdörtgeni

MKLN dikdörtgeni

KMNL dikdörtgeni,

MNLK dikdörtgeni

NLKM dikdörtgeni

LKMN dikdörtgeni

Aşağıdaki geometrik şekilleri isimlendirin.

