

Barış Manço, 2 Ocak 1943 tarihinde, Rikkat ve Hakkı Manço çiftinin dördüncü çocukları olarak Moda'da dünyaya geldi. Annesi Rikkat Hanım, Türk Sanat Müziği sanatçısıydı. Aileden gelen yeteneğiyle özellikle ortaokul öğrenimini aldığı yaşlarda müzikle ilgilenmeye başladı. Lise yılları Galatasaray Lisesi'nde başladı. Müzik hayatına Galatasaray Lisesi'nde adım atan Barış Manço'nun arkadaşlarıyla birlikte kurduğu ilk grubun adı "Kafadarlar", ikincisi ise "Harmoniler"di. Daha sonra Şişli Terakki Lisesi'ne geçiş yaptı. Lise yılları bittiğinde Belçika Kraliyet Güzel Sanatlar Akademisi'nde 1963 - 1971 yılları arasında resim, grafik ve iç mimari eğitimi aldı. 1966 yılında Paris'te iki 45'lik plak çıkardı. 1970 yılında Türkiye'ye döndüğünde Fuat Güner ve Mazhar Alanson ile birlikte "Kaygısızlar" adlı grubu kurdu. Araman şarkılara tepki göstererek Anadolu'dan beslenen pop folk tarzında müzik yapmaya başladı. Onuncu plağı "Dağlar Dağlar" ile büyük bir çıkış yaptı, albüm beş ayda 700 bin adet satışa ulaştı. "Dağlar Dağlar" çalışması, sanatçıya Altın Plak Ödülü'nü de kazandırdı. 1971 yılında Moğollar ile çalıştı. Aynı yıl Kurtalan Ekspres'i kurdu. 1978'de Lale Manço ile evlendi, Doğukan ve Batkan adında iki erkek çocuğu oldu.

Günün Özdeyişi

Anlamını bilmediğiniz kelimeleri sözlükte bulup yazınız, cümle içinde kullanınız.

:.....

Cümle:.....

:.....

Cümle:.....

Metinle ilgili sorulara cevap verin.

1. Barış Manço, ne zaman dünyaya gelmiş?

.....

2. Barış Manço'nun anne babası kimmiş?

.....

3. Barış Manço, kimlerle çalışmış?

.....

Metinle ilgili iki soru yazıp cevaplayın.

1.?

.....

2.?

.....

Barış Manço'nun bir şarkısını yazın.

.....

.....

.....

.....

.....

.....

.....

.....

.....

.....

.....

.....

.....

.....

Günün Sözü: Göç eden kuşlar gibi, gidip gelir umutlarım, umudun ötesinde ne ola? **Barış Manço**

MATEMATİK - FEN BİLİMLERİ - HAYAT BİLGİSİ

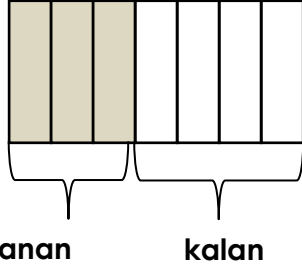
Verilen problemleri çözünüz.

84 TL paramın $\frac{3}{7}$ 'sini harcadım. Kaç TL param kaldı?
tamamı

1.Tamamı:.....

Harcanan:.....

Kalan:



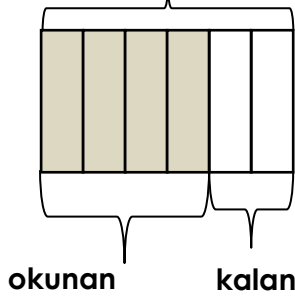
Çözüm:

Kitabımın $\frac{4}{6}$ 'sını okudum. 80 sayfa okuduğuma göre kaç sayfam kaldı?
tamamı

1.Tamamı:.....

Okunan:.....

Kalan:



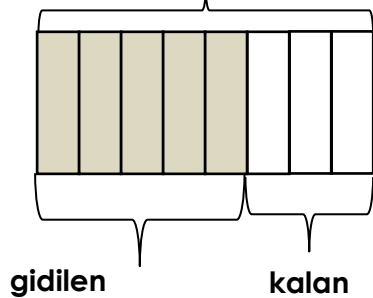
Çözüm:

Yolun $\frac{5}{8}$ 'sini gittim. 90 km kaldığına göre kaç km yol gittim?
tamamı

1.Tamamı:.....

Gidilen:.....

Kalan:



Çözüm:

Doğru olan (D); yanlış olanlara (Y) yazın.

(...)Ses, kaynağından uzaklaştıkça şiddetini artırır.

(...)Ses, kaynağından uzaklaştıkça şiddetini azalır.

(...)Ses kaynağına yaklaştıkça şiddeti artar.

(...)Ses kaynağına uzaklaştıkça şiddeti azalır.

(...)Sesin şiddetini artıran aletler vardır.

(...)Hoparlör, sesin şiddetini artırmaya yarar.

(...)Sesin şiddeti hiçbir şekilde değişmez.

(...)Bütün ses kaynakların şiddeti aynıdır.

(...)Kulağımız her türlü sesi duyar.

(...)Kulağımız belli sesler duyar.

(...)Bir düdükle uçağın sesi aynı değildir.

(...)Mikrofon, bir ses kaynağıdır.

(...)Ses, gazlarda daha hızlı yayılır.

(...)Ses, katılarda daha hızlı yayılır.

(...)Ses, sıvılarda daha hızlı yayılır.

Doğru olan (D); yanlış olanlara (Y) yazın.

(...)En tehlikeli doğal afet depremdir.

(...)112 Acil Çağrı Merkezinin numarasıdır.

(...)Acil durum eğitimi almamız.

(...)Her binanın yangın merdiveni olmalıdır.

(...)Heimlich manevrasını her insan öğrenmelidir.

(...)Bir büyüğümüzü telefon numarasını bilmeliyiz.

(...)Acil durum kartları hazırlamamız.

(...)Yangın merdivenlerinin yerini bilmeliyiz.

(...)Deprem çantası hazırlamamız.

(...)Doğal afetlere karşı hazır olmalıyız.

(...)Ailemizle acil durum konusunda konuşmalıyız.

(...)Acil durum numaralarını ezberlemeliyiz.

(...)Her okulda acil çıkış kapısı olmalıdır.

(...)Okulumuzda acil çıkış yerlerini bilmeliyiz.

Günün Sözü: Göç eden kuşlar gibi, gidip gelir umutlarım, umudun ötesinde ne ola? **Barış Manço**