

1.SINIF ÇIKARMA İŞLEMİ

@gunes_ogretmenle_etkinlikler

$5 - 3 = \text{☁}$

$19 - 3 = \text{☁}$

$4 - 2 = \text{☁}$

$18 - 4 = \text{☁}$

$3 - 1 = \text{☁}$

$17 - 6 = \text{☁}$

$6 - 3 = \text{☁}$

$16 - 2 = \text{☁}$

$9 - 4 = \text{☁}$

$5 - 0 = \text{☁}$

$6 - 4 = \text{☁}$

$14 - 4 = \text{☁}$

$7 - 3 = \text{☁}$

$15 - 2 = \text{☁}$

$10 - 2 = \text{☁}$

$17 - 7 = \text{☁}$

$10 - 5 = \text{☁}$



$18 - 8 = \text{☁}$

$16 - 6 = \text{☁}$

$20 - 10 = \text{☁}$

$19 - 9 = \text{☁}$

$20 - 20 = \text{☁}$



1.SINIF ÇIKARMA İŞLEMİ PROBLEMLERİ



@gunes_ogretmenle_etkinlikler

1) 5 elmadan 2 elma yersen kaç elman kalır?

--	--

2) Dalda 8 kuş var. 3 kuş uçup gidiyor. Dalda kaç kuş kalır?

--	--

3) 10 topun var, 4 topunu arkadaşına veriyorsun. Kaç topun kaldı?

--	--

4) 7 kurabiyen var, 3 tanesini yedin. Kaç kurabiyen kaldı?

--	--

5) 9 çiçeğin var, 5 tanesini bir vazoya koyuyorsun. Kaç çiçeğin kaldı?

--	--




@gunes_ogretmenle_etkinlikler





1.SINIF ÇIKARMA İŞLEMİ PROBLEMLERİ



6) 12 çikolatan var, 6 tanesini arkadaşlarıyla paylaşıyorsun. Kaç çikolatan kaldı?

--	--

7) 15 şekerin var, 5 tanesini yiyorsun. Kaç şekerin kaldı?

--	--

8) Ayşe'nin 20 kalemi vardı. 7 kalemını kaybetti. Ayşe'nin şimdi kaç kalemi var?

--	--

9) Bir kafede 18 müşteri vardı. 5 müşteri ayrıldı. Kafede kaç müşteri kaldı?

--	--

10) Burak 12 kitap aldı. 3 kitabını kütüphaneye bağışladı. Burak'ın kaç kitabı kaldı?

--	--

