



## GERÇEK , MECAZ VE TERİM ANLAM

🌀 Aşağıdaki cümlelerde belirtilen kelimenin hangi anlamda kullanıldığına ait yıldızı boyayınız. ( Gerçek-G , Mecaz-M , Terim-T )

G. M. T.

Hakem maçta iki tane penaltı verdi.



Sen kırdığım için çok üzgünüm



Yemek çok acı olduğundan yiyemedim.



Fen bilimleri dersinde mikroskopla soğan hücrelerini inceledik.



Dün altı basamaklı sayıların yazılışını ve okunuşunu öğrendik.



Kitap ince olduğu için bir günde okudum.



Tiyatronun son perdesine çok güldük.



Arabadaki ağır kutuyu babamla birlikte taşıdık.



Ablam bulaşıkları yıkarken bir tane bardak kırdı.



Bu ince davranışından dolayı teşekkür ederim.



Okul müdürü çok yumuşak kalpli bir insandır.



Bu acı olayı anneme kim söyleyecek?



Bitkiler kökleriyle toprağa tutunurlar.



Annem tüm perdeleri ütölemiş.



İnce düşünceleriyle herkese kendini sevdirdi.



Ablam gecikince babam ağır konuştu.



Hastayı narkoz ile uyutarak ameliyat etmişler.





## SÖZCÜKLERİN ANLAMLARINI DEĞİŞTİREN EKLER

🌸 Aşağıdaki sözcüklere uygun ekleri getirerek yeni sözcükler oluşturalım. Oluşturduğumuz sözcükleri cümlede kullanalım.

Sözcüğün sonuna eklenerek anlamını değiştiren, yeni anlamda sözcük türe-ten ekler vardır. "-lı , -lık , -cı , -sız , -daş" bu eklerden bazılarıdır.

süt	sütçü	Bugün sütçü çok geç geldi.
tuz	.....	.....
şeker	.....	.....
yol	.....	.....
balık	.....	.....
kalem	.....	.....
cam	.....	.....
göz	.....	.....
ot	.....	.....
çiçek	.....	.....
kapı	.....	.....
kira	.....	.....
odun	.....	.....



## İSTEK VE İHTİYAÇLARIMIZ

🌸 Aşağıdakilerden temel ihtiyaçlarımızın harflerini sırayla yazarak şifreyi bulalım.

E Kitap

Ç Beslenme

S Tatil

İ Giyinme

L Güvenlik

T Eğlenmek

E Barınma

A Oyun

İ Sinema

K Sağlık

Y Oyuncak

Ö Otomobil

Şifre : ( ) ( ) ( ) ( ) ( )

🌸 Aşağıda verilenlerden ihtiyaç olanların çiçeğini kırmızıya , istek olanların çiçeğini maviye boyayalım.

Su

Ayakkabı

Gofret

Bilgisayar

Ev

Paten

Top

Ekmek

İlaç

Bisiklet

Uyumak

Buzdolabı

Tablet

Kazak

Oyuncak

🌸 Aşağıdaki cümlelerin başına doğruysa "D" , yanlışsa "Y" yazalım.

- ( ..... ) İhtiyaçlarımız isteklerimizden önce karşılanmalıdır.
- ( ..... ) İsteklerimiz karşılanmazsa hayatımız tehlikeye girer.
- ( ..... ) İsteklerimizin karşılanması bizi mutlu eder.
- ( ..... ) İhtiyaç ve isteklerimizi karşılarırken aile bütçemizi düşünmeliyiz.
- ( ..... ) Tatil, eğlenmek ve gezmek temel ihtiyaçlarımızdandır.
- ( ..... ) İhtiyaçlarımızı alırken öncelik sırasına koymalıyız.
- ( ..... ) Eğitim , kitap okuma , sinemaya gitme sosyal ihtiyaçlardandır.
- ( ..... ) Pantolon ihtiyacımız varken onun yerine istediğimiz pateni alabiliriz.
- ( ..... ) İsteklerimizi karşılarırken anne ve babamızı zorlamalıyız.



## AYDINLATMA TEKNOLOJİLERİ

🌞 Aşağıda verilen aydınlatma araçlarının ışık kaynağına ilişkin doğru kelimeyi ( Ateş – Elektrik ) yazınız.

mum

.....

floresan

.....

holojen lamba

.....

gaz lambası

.....

ampul

.....

kandil

.....

meşale

.....

led lamba

.....

🌞 Aşağıda verilen aydınlatma araçlarını geçmişten günümüze doğru sıraya koyalım.

ampul - mum - led lamba  
meşale - floresan  
gaz lambası - holojen lamba

- 1.) ..... 2.) .....  
3.) ..... 4.) .....  
5.) ..... 6.) .....  
7.) .....

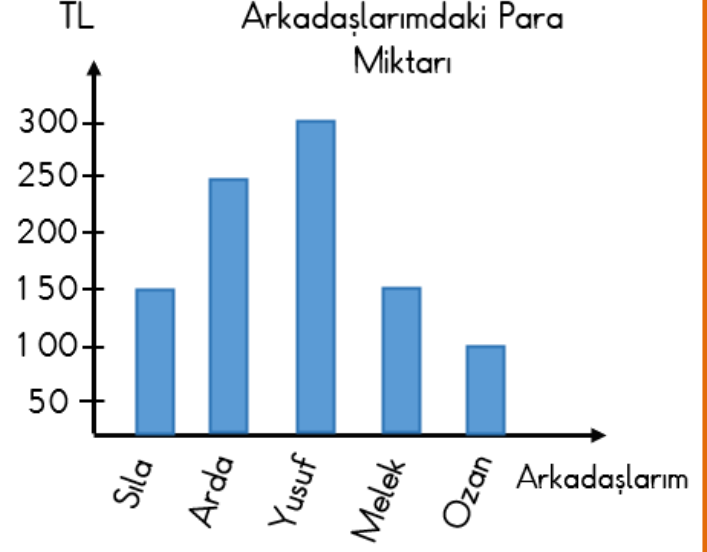
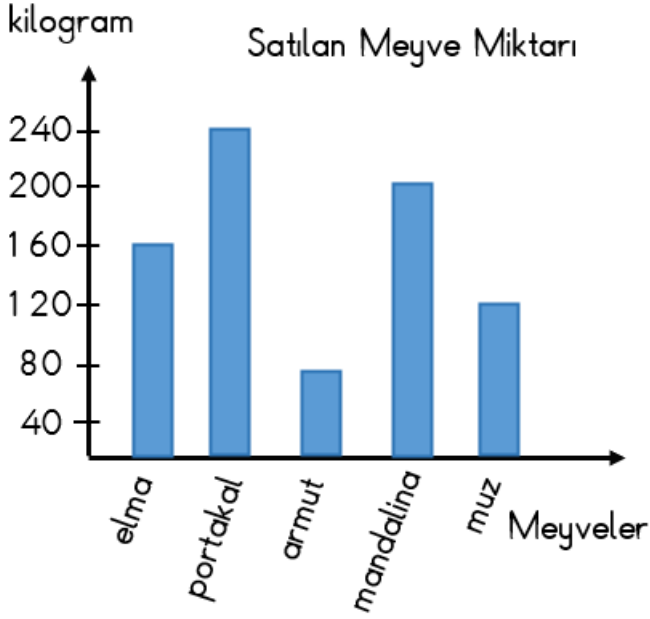
🌞 Aşağıdaki cümlelerin başına doğruysa "D" , yanlışsa "Y" yazalım.

- ( ..... ) Meşale ampulden sonra kullanılan bir aydınlatma aracıdır .
- ( ..... ) Aydınlatma araçlarından çıkan ışık miktarı farklıdır.
- ( ..... ) Güneş en önemli ışık kaynağımızdır.
- ( ..... ) Işık olmadan da görebiliriz.
- ( ..... ) Gaz lambası elektrikle çalışır.
- ( ..... ) Ateş icat edildikten sonra sadece ısınmak amacıyla kullanılmıştır.
- ( ..... ) Teknolojinin gelişimiyle birlikte daha güçlü ışık üreten araçlar yapılmıştır.
- ( ..... ) Günümüzde kullanılan aydınlatma araçları elektrikle çalışmaktadır.
- ( ..... ) Geçmişte kullanılan aydınlatma araçları daha güçlü ışık üretmekteydi.
- ( ..... ) Günümüzde kullanılan aydınlatma araçları uzun ömürlü ve tasarrufludur.



## VERİ TOPLAMA VE DEĞERLENDİRME

🌸 Aşağıdaki soruları grafiklere göre cevaplayalım.



1. En az ve en fazla satılan meyveler hangileridir?

.....

2. 1 kg muz 40 lira olduğuna göre muz satışından kaç lira elde edilmiştir?

.....

3. Mandalina armuttan kaç kg fazla satılmış?

.....

4. 1 kg elma 20 lira olduğuna göre elma satışından kaç lira elde edilmiştir?

.....

5. Elma ve armut toplam kaç kg satılmıştır?

.....

6. Hangi meyve portakalın yarısı kadar satılmış?

.....

1. En az ve en fazla para kimlerde var?

.....

2. Kimlerin paraları eşittir?

.....

3. Fiyatı 175 lira olan test kitabını kimler alabilir?

.....

4. Arda'nın parası Ozan'dan kaç lira fazla?

.....

5. Melek 75 lirasını harcarsa kaç lirası kalır?

.....

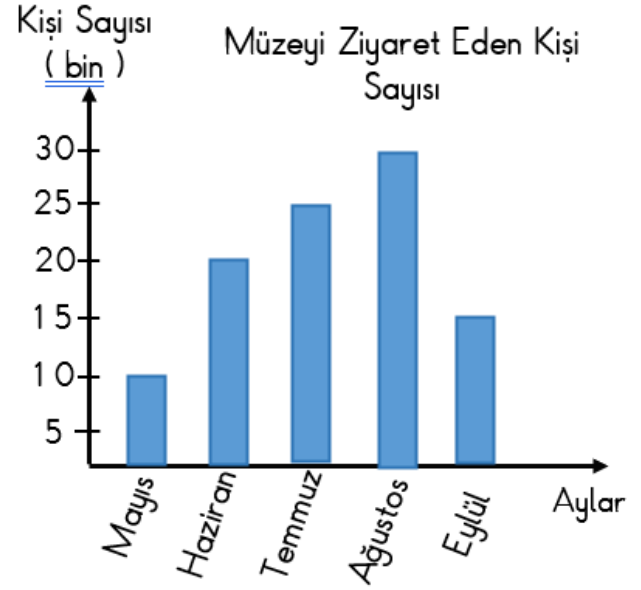
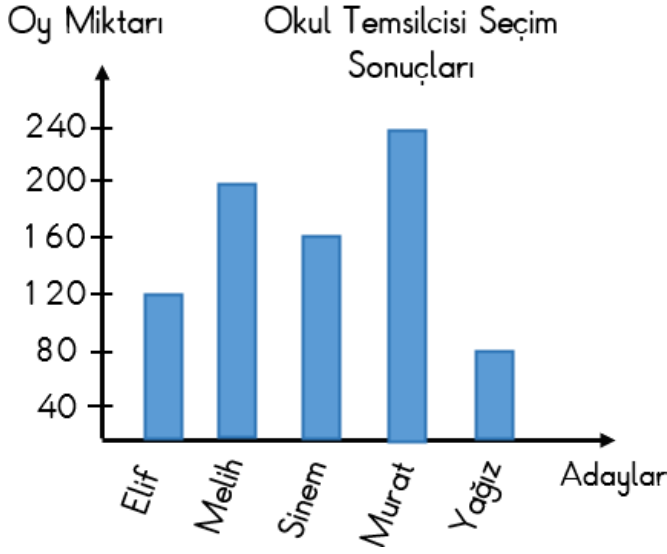
6. Annesi, Ozan'a 100 lira daha verirse kaç lirası olur?

.....



## VERİ TOPLAMA VE DEĞERLENDİRME

🌀 Aşağıdaki soruları grafiklere göre cevaplayalım.



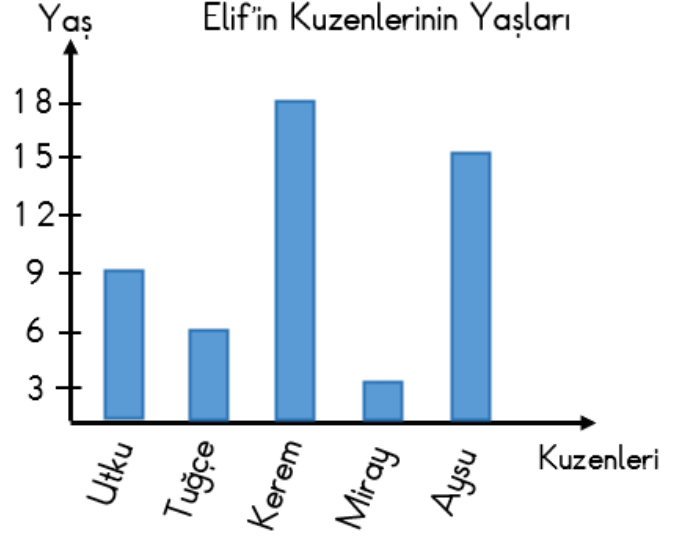
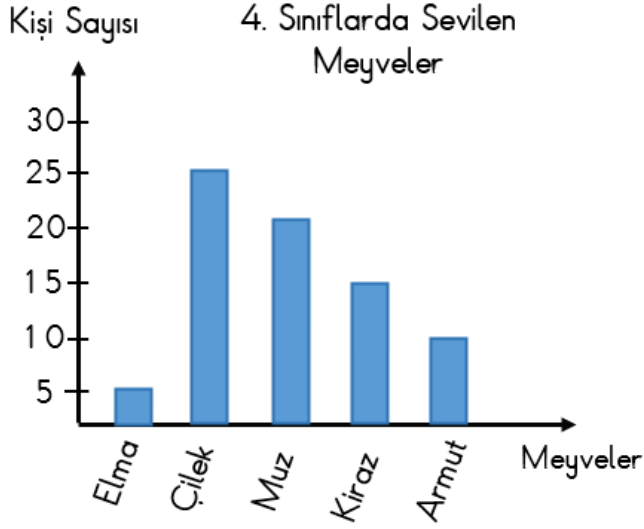
- Okul temsilciliğine kim seçilmiştir?  
.....
- Kız adaylar toplam kaç oy almışlardır?  
.....
- Murat hangi iki adayın oyları toplamı kadar oy almıştır ?  
.....
- Sinem seçimde kaçınıcı olmuştur?  
.....
- Erkek adaylar toplam kaç oy almıştır?  
.....
- Melih Yağiz'dan kaç fazla oy almıştır?  
.....

- En fazla hangi ay ziyaretçi gelmiştir?  
.....
- En az hangi ay ziyaretçi gelmiştir?  
.....
- Ağustos ayındaki ziyaretçi sayısı eylül ayından kaç kişi fazladır?  
.....
- Ağustos ayının ziyaretçi sayısı hangi iki ayın ziyaretçi sayısı toplamı kadardır?  
.....
- Temmuz ayındaki ziyaretçilerin 6765 tanesi çocuk olduğuna göre kaç tanesi yetişkindir?  
.....
- Haziran ve temmuz aylarında toplam kaç kişi ziyaret etmiştir?  
.....



## VERİ TOPLAMA VE DEĞERLENDİRME

🌸 Aşağıdaki grafiklerdeki verileri kullanarak çetele ve sıklık tablosunu oluşturalım.



.....

..... Çetele Tablosu

Meyveler	Kişi Sayısı

.....

..... Çetele Tablosu

Kuzenleri	Yaşları

.....

..... Sıklık Tablosu

Meyveler	Kişi Sayısı

.....

..... Sıklık Tablosu

Kuzenleri	Yaşları



## VERİ TOPLAMA VE DEĞERLENDİRME

🌸 Aşağıdaki verilere göre tabloyu ve sütun grafiğini oluşturup soruları cevaplayınız.

- Bir çiçekçide bir günde 20 papatya, 50 gül, 40 karanfil ve 30 lale satılmış.

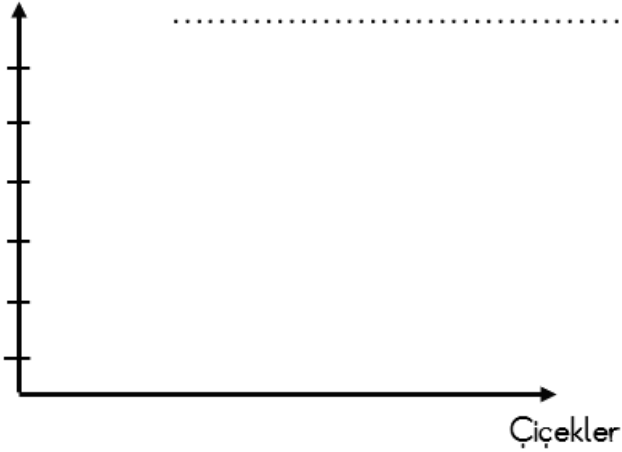
Tablo: .....

.....

Çiçekler	Sayısı

Grafik: .....

Sayısı



1. En çok ve en az satılan çiçekler hangisidir?

.....

2. Gül, laleden kaç tane fazla satılmıştır?

.....

- Bir okulda resim kulübünde 60, müzik kulübünde 80, satranç kulübünde 40, spor kulübünde 100 öğrenci bulunmaktadır.

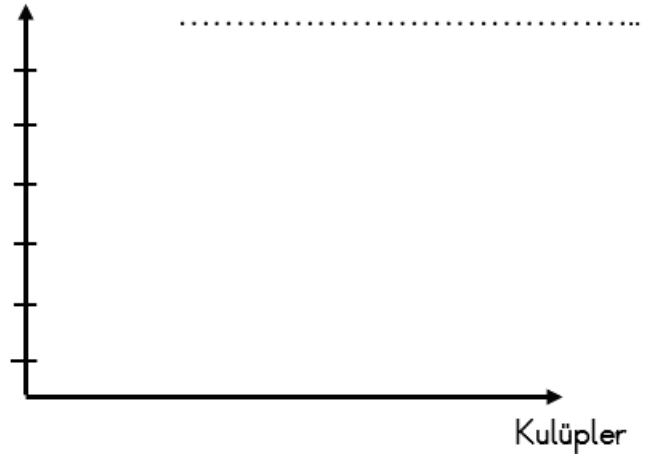
Tablo: .....

.....

Kulüpler	Sayısı

Grafik: .....

Sayısı



1. En fazla öğrenci olan kulüp hangisidir?

.....

2. En az hangi kulüpte öğrenci vardır?

.....





## VERİ TOPLAMA VE DEĞERLENDİRME

☞ Aşağıdaki verilere göre tabloyu ve sütun grafiğini oluşturup soruları cevaplayınız.

- Bir kırtasiyede bir ayda 60 defter, 90 açacak, 180 kalem ve 120 silgi satılmış.

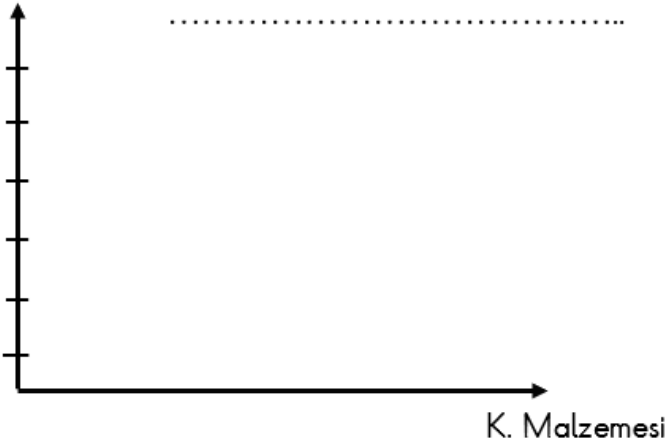
Tablo: .....

.....

Kırtasiye Malzemesi	Sayısı

Grafik: .....

Sayısı



- Bir sinema filmini 1. gün 1500, 2. gün 2500, 3. gün 2000 ve 4. Gün 3000 kişi izlemiş .

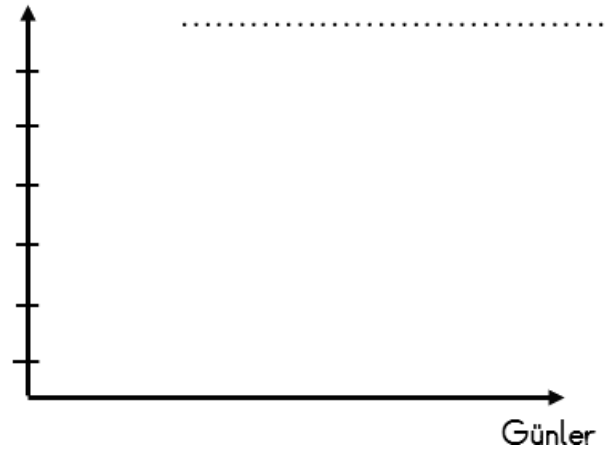
Tablo: .....

.....

Günler	Sayısı

Grafik: .....

Kişi



1. En çok ve en az satılan malzemeler hangisidir?

.....

2. Kalem, açacaktan kaç tane fazla satılmıştır?

.....

1. En fazla seyirci kaçınıcı gün gelmiş?

.....

2. 4. gün seyirci sayısı 1. günden kaç tane fazladır?

.....



## VERİ TOPLAMA VE DEĞERLENDİRME

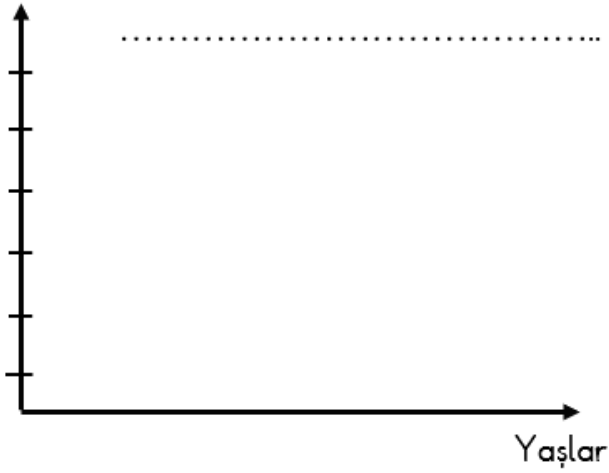
🌀 Aşağıdaki verilere göre tabloyu ve sütun grafiğini oluşturup soruları cevaplayınız.

- Bir okulda 6 yaşında 50, 7 yaşında 100, 8 yaşında 75, 9 yaşında 75, 10 yaşında 25 öğrenci bulunmaktadır.

Tablo: .....

Öğrenci Yaşları	Sayısı

Kişi Grafik: .....



1. En çok ve en az çocuk olan yaş hangisidir?

.....

2. Hangi yaşlarda eşit sayıda çocuk vardır?

.....

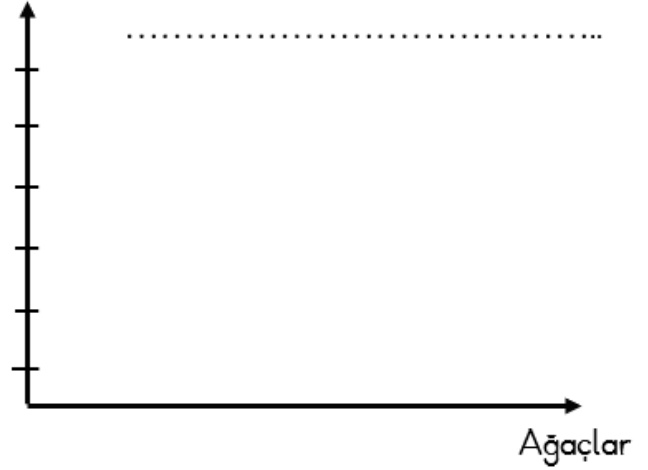
- Bir bağda 60 kayısı, 90 elma, 15 dut ve 30 armut, 45 kiraz ağacı var .

Tablo: .....

.....

Meyve Ağaçları	Sayısı

Sayısı Grafik: .....



1. En çok ve en az hangi ağaçlar vardır?

.....

2. Hangi ağaçların sayısı toplamı elma ağacı kadardır?

.....