

Küçük Arda, mahallesindeki futbol takımına katılmak için çok heyecanlıydı. İlk antrenman gününde, topu sürmekte ve pas vermekte biraz zorlandı. Antrenör, Arda'nın moralini bozmadı ve ona, "Her şey zamanla ve pratikle daha iyi olur," dedi. Arda, antrenmandan sonra eve gidip her gün top sürme ve pas verme alıştırmaları yapmaya karar verdi. Birkaç hafta sonra, Arda'nın becerileri gözle görülür şekilde gelişti. Sonunda, takımın önemli bir maçında gol atarak takımını zafere taşıdı. Arda, sabrın ve azmin ne kadar önemli olduğunu öğrendi.

1) Arda neden mahallesindeki futbol takımına katılmak istiyor?

- a) Antrenörle tanışmak için
- b) Futbol oynamayı çok sevdiği için
- c) Arkadaşları katıldığı için

2) İlk antrenman gününde Arda hangi konularda zorluk yaşadı?

- a) Top sürmek ve pas vermek
- b) Koşmak ve zıplamak
- c) Savunma yapmak ve kalecilik

3) Antrenör, Arda'ya hangi konuda moral verdi?

- a) Her şeyin zamanla ve pratikle daha iyi olacağı
- b) Hemen başarılı olması gerektiği
- c) Başka bir spor dalı denemesi gerektiği

4) Aşağıdaki kelimelerden hangisi tek heceli bir kelime değildir?

- a) Tren
- b) Tilki
- c) Türk

5) Aşağıdaki kelimelerden hangisi satır sonuna yanlış ayrılmıştır?

- a) Ten__
cere
- b) Tence__
re
- c) Tencer__
e

6) Elma, armut , portakaldan bir meyve salatası yaptım. Cümlesi kaç heceden oluşmuştur?

a) 17

b) 18

c) 19

7) Aşağıdakilerden hangisi dini bayramlardan birisidir?

a) Cumhuriyet Bayramı

b) Ramazan Bayramı

c) Zafer Bayramı

8) Ramazan Bayramı'nda hangi geleneği yaparız?

a) Ağaç süsleriz

b) Şeker toplarız

c) Yumurta boyarız

9) İstiklal Marşı kim tarafından yazılmıştır?

a) Atatürk

b) Ali Rıza Bey

c) Mehmet Akif Ersoy

10) Aşağıdakilerden hangisi dini bayramların sonuçlarından biridir?

a) Dayanışma ve yardımlaşma içinde oluruz.

b) Sevdiklerimizle bağlarımız güçlenir.

c) Sınıfımızı bayraklarla süsleriz.


11) Aşağıdakilerden hangisi 23 Nisan günü olmuştur ?

a) Atatürk Samsun'a çıkmıştır.

b) Türkiye Büyük Millet Meclisi açılmıştır.

c) Cumhuriyet ilan edilmiştir.

12) Aşağıdaki kelimelerden hangisi bağımsızlığın sembolüdür?



13) Aşağıdakilerden hangisi dini günlerden biri değildir?

a) Zafer Bayramı

b) Kadir Gecesi

c) Aşure Günü

15) $6 + \square = 10$ ise, boşluğa hangi sayı gelmelidir?

a) 4

b) 5

c) 7

16) ----- \square 7 -----" 7" sayısından önce ve sonra gelen sayıların toplamı kaçtır?

a) 15

b) 13

c) 14

17) Selen'in yaşı 1 onluk 2 birlikten oluşan sayıya eşittir. Ağabeyi, Selen'den 5 yaş büyük olduğuna göre ağabeyi kaç yaşındadır?

a) 17

b) 18

c) 19

18) 18 sayısının 5 eksiği kaçtır?

a) 14

b) 13

c) 12




19) Barış'ın 10 lira parası vardı. Annesi Barış'a bir miktar para verince 18 lirası oldu. Annesi Barış'a kaç lira vermiştir ?

a) 6

b) 7

c) 8

20) Aşağıdaki çıkarma işlemlerinden hangisi $15-5=10$ işlemi göstermektedir?



21) $8+5=$ işleminin zihinden toplama aşaması aşağıdakilerden hangisidir?

a) $8+2=10$

$10+3=13$

b) $8+3=11$

$11+2=13$

c) $8+4=12$

$12+1=13$