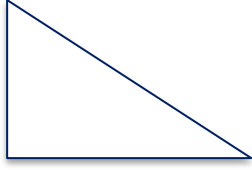

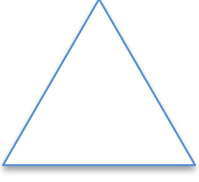


MATEMATİK – FEN BİLİMLERİ – SOSYAL BİLGİLER

Verilen geometrik şekilleri adlandırınız. Sembol ile gösteriniz. Kenarlarını adlandırınız.



Verilenleri altlarına çiziniz.

ABC

DAMÇ Karesi

MDS üçgeni

DMEV dikdörtgeni

Aydınlatma kaynaklarını çizip altlarına isimlerini yazın.

Aşağıdaki boşluğa Maslow'un ihtiyaç piramidini çizin