

Ad:.....  
Soyadı:.....

# MATEMATİK SEVİYE BELİRLEME TESTİ

D:.....  
Y:.....

1.  $8 + 7 = ?$

Yukarıdaki işlemin sonucu aşağıdakilerden hangisidir?

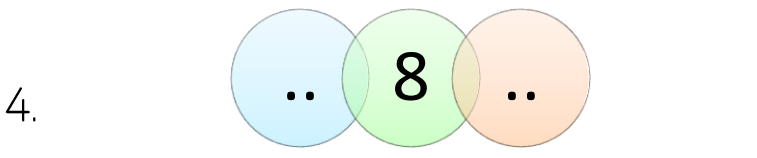
- A. 15 B. 14 C. 16



- A. 7 B. 8 C. 6

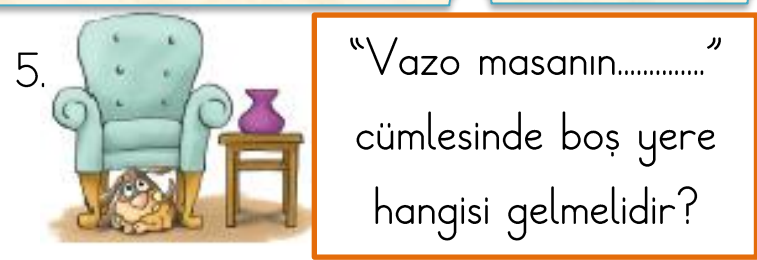


- A. 16 B. 14 C. 15

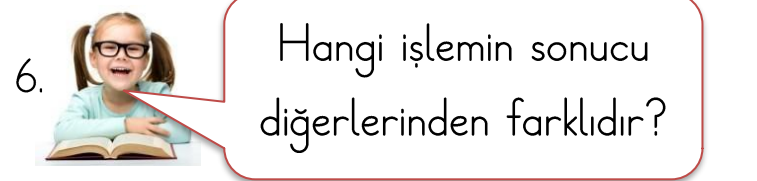


Verilen sayının sağındaki ve solundaki sayıların toplamı kaç olur?

- A. 17 B. 16 C. 15



- A. yanındadır B. üstündedir  
C. altındadır

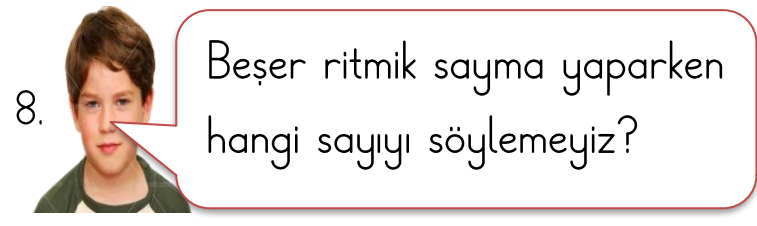


- A.  $\begin{array}{r} 15 \\ - 8 \\ \hline \end{array}$  B.  $\begin{array}{r} 12 \\ - 4 \\ \hline \end{array}$  C.  $\begin{array}{r} 13 \\ - 6 \\ \hline \end{array}$



Hangi çocuk "14 + 5" işleminin sonucunu öylemiştir?

- A. Selim B. Azra C. Merve

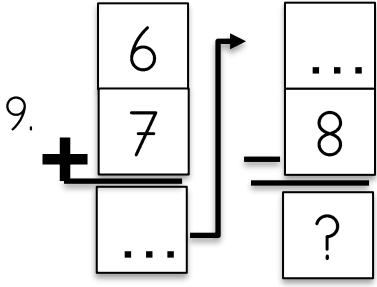


- A. 15 B. 35 C. 62

8. Eksilen: 9   Fark: 5   Çıkan: 4

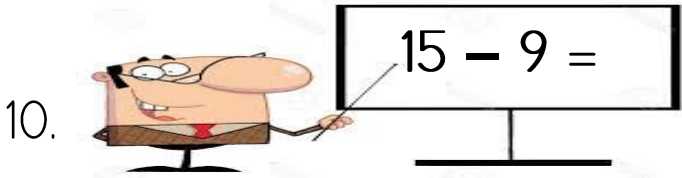
Yukarıda elemanları verilen işlem hangisidir?

- A.  $9 - 5 = 4$       B.  $9 - 4 = 5$   
C.  $5 + 4 = 9$



Yukarıdaki işlemlere göre ? kaç olur?

- A. 5      B. 4      C. 6



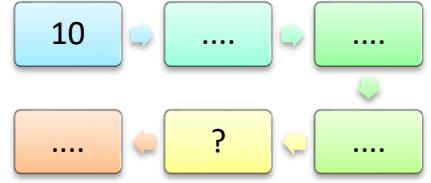
Tahtadaki işlemin sonucu kaçtır?

- A. 6      B. 5      C. 7

$12 - 5 = 7$


11. Verilen işleme göre hangisi doğrudur?

- A. 5 eksilendir.      B. 12 çıkandır  
C. 7 farktır.




Onar ritmik sayma yaptığımızda soru işareti olan yere hangi sayı gelmelidir?

- A. 40      B. 50      C. 60

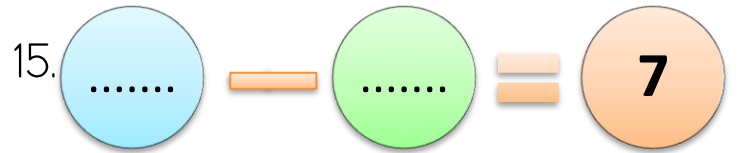
13.  Hangi yapraktaki işlemin sonucu daha küçüktür?

- A.  $\begin{array}{r} 11 \\ -4 \\ \hline \end{array}$       B.  $\begin{array}{r} 16 \\ -9 \\ \hline \end{array}$       C.  $\begin{array}{r} 13 \\ -7 \\ \hline \end{array}$

14.  Akvaryumdaki 15 balıktan 9 tanesi beyaz, diğerleri mavidir.

Akvaryumda kaç mavi balık vardır?

- A. 6      B. 7      C. 5



Yukarıdaki işlem hangisi olamaz?

- A.  $12 - 5$       B.  $14 - 7$       C.  $11 - 5$