
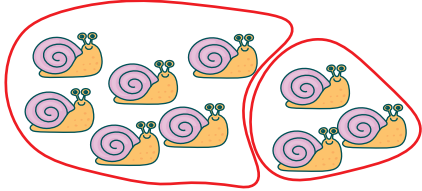





1. SINIF

TOPLAMA İŞLEMİNİN SONUCUNU TAHMİN ETME





Toplama işleminde noktalı yerleri tamamlayalım.	Toplama işleminin sonucunu tahmin edip yazalım.	Toplama işleminin gerçek sonucunu yazalım.	Tahmini sonuç ile gerçek sonuç arasındaki farkı yazalım.
 <p>2 kelebek, 3 kelebek daha kaç kelebek eder?</p>			
 <p>.... kelebek, kelebek daha kaç kelebek eder?</p>			
 <p>.... kelebek, kelebek daha kaç kelebek eder?</p>			
 <p>4'e 3 eklersek kaç eder?</p>			
 <p>....'e eklersek kaç eder?</p>			

TOPLAMA İŞLEMİNİN SONUCUNU TAHMİN ETME

<p>Toplama işleminde noktalı yerleri tamamlayalım.</p>	<p>Toplama işleminin sonucunu tahmin edip yazalım.</p>	<p>Toplama işleminin gerçek sonucunu yazalım.</p>	<p>Tahmini sonuç ile gerçek sonuç arasındaki farkı yazalım.</p>
 <p>3 artı, 3 kaç eşittir?</p>			
 <p>... artı, ... kaç eşittir?</p>			
 <p>3 ile 6'yı toplarsak kaç eder?</p>			
 <p>... ile ...'yi toplarsak kaç eder?</p>			
 <p>... ile ...'i toplarsak kaç eder?</p>			

1. SINIF

TOPLAMA İŞLEMİNİN SONUCUNU TAHMİN ETME

Toplama işleminde noktalı yerleri tamamlayalım.	Toplama işleminin sonucunu tahmin edip yazalım.	Toplama işleminin gerçek sonucunu yazalım.	Tahmini sonuç ile gerçek sonuç arasındaki farkı yazalım.
 <p>6'nın 5 fazlası kaç eder?</p>			
 <p>... 'in ... fazlası kaç eder?</p>			
 <p>... 'nin ... 'yi fazlası kaç eder?</p>			
 <p>... 'in ... fazlası kaç eder?</p>			
 <p>... ile ... 'i toplarsak kaç eder?</p>			