

Adı :
Soyadı:

1. Sınıf
Matematik

Geometrik Şekiller
Yaprak Test-1

1 Aşağıdaki görsellerden hangisinin şekli diğerlerinden farklıdır?



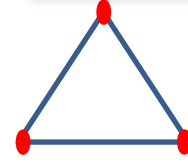


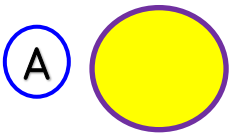
2 Yukarıda verilen şekillerin isimleri hangisinde doğrudur?

A 1-Dikdörtgen 2-Üçgen

B 1-Kare 2-Dikdörtgen

C 1-Üçgen 2-Kare

3 Aşağıdaki şekillerden hangisinin köşesi yoktur?



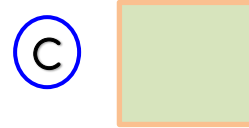
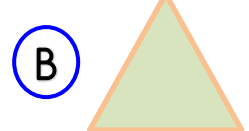
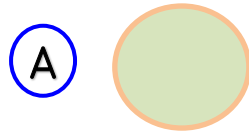
4 Yukarıdaki şekilde kırmızı nokta ile gösterilen yerlere ne denir?

A Kenar

B Köşe

C Uç

5 Aşağıdaki şekillerden hangisinin kenarı en fazladır?



6 Aşağıdaki bilgilerden hangisi yanlıştır?

A Çemberin köşesi yoktur.

B Karenin dört köşesi vardır.

C Üçgenin kenarı yoktur.

Adı :
Soyadı:


1. Sınıf
Matematik

Geometrik Şekiller
Yaprak Test-1



7 Yukarıdaki geometrik şekil için hangi bilgi doğrudur?

- (A) Köşesi ve kenarı yoktur.
- (B) 1 tane kenarı vardır.
- (C) 1 tane kenarı 1 tane köşesi vardır.



8 Yukarıdaki geometrik şekillerin isimleri sırası ile hangisinde doğru yazılmıştır?

- (A) Çember-Üçgen-Dikdörtgen
- (B) Daire-Kare-Dikdörtgen
- (C) Çember-Üçgen-Kare

9 Aşağıdaki şekillerden hangisinin kenarı diğerlerinden fazladır?

- (A)
- (B)
- (C)

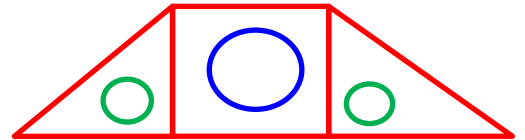


10 Yukarıdaki dikdörtgen için hangi bilgi yanlıştır?

- (A) Köşesi ve kenarı yoktur.
- (B) 4 köşesi ve 4 kenarı vardır.
- (C) Karşılıklı kenarları birbirine eşittir.

11 Aşağıdaki şekillerden hangisi üçgen değildir?

- (A)
- (B)
- (C)



12 Yukarıdaki görsel için hangi bilgi yanlıştır?

- (A) 2 tane çember vardır.
- (B) 2 tane üçgen vardır.
- (C) 1 tane kare vardır.