

Polatlı çevresinde Gordion adlı bir kentin kalıntıları vardır. Bu mitolojik kentle ilgili bir çok efsaneler anlatılır: Frigya Kralı Midas zamanında geçen efsanede kentin yönetici seçimi vardır. O zamanın Gordion kentinin ünlü alimi bir kehanette bulunur. Ülkenin gelecekte kralı olacak kimse gece yarısı saman yüklü bir arabayla kente girecektir. Kâhinin bu kehaneti üzerine bütün kent gece uyumaz, sabaha kadar kente gelecek yeni kralı beklemeye başlarlar. Gordion adındaki çiftçi, samanını kentte satmak için sabah erkenden yola çıkar. Gecenin karanlığında kente gelir. Bu, ünlü Kral Midas'ın babasıdır. Çiftçi Gordion, kente alacakaranlıkta girer. Her yer bomboştur. Bu sırada gecedan beri meydanı gözleyen halk birden meydanı doldurur. İçlerinden en saygın olanlarından yaşlı bir adam: "İşte kehanet gerçekleşti. Kentimizin ve ülkemizin yeni yöneticisi bu adamdır." diyerek köylünün krallığını ilan eder. Köylü Gordion, ne olduğunu anlamadan kendini kral tahtında bulur. Tahta oturunca, bir süre şaşkınlıkla etrafı inceler. Heyecanı geçince de kral olmaktan memnun kalır. Ancak kentin meydanında duran arabasını kenara atmaya gönlü elvermez. Arabasını alıp kentin en büyük tapınağına götürür.

Günün Özdeyişi

Anlamını bilmediğiniz kelimeleri sözlükte bulup yazınız, cümle içinde kullanınız.

:.....

Cümle:.....

:.....

Cümle:.....

Metinle ilgili sorulara cevap verin.

1. Gordion kenti neredeymiş?

.....

2. Kehanete göre kentte ne olacaktı?

.....

3. Gordion, kimin babasıymış?

.....

Metinle ilgili iki soru yazıp cevaplayın.

1.?

.....

2.?

.....

Efsanenin devamını araştırıp bulunuz ve yazınız.

.....

.....

.....

.....

.....

.....

.....

.....

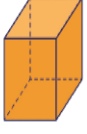
.....

.....

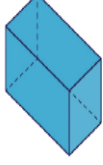
MATEMATİK - FEN BİLİMLERİ - HAYAT BİLGİSİ

Aşağıdaki geometrik cisimleri karşılaştırarak benzer ve farklı yönlerini yazın.

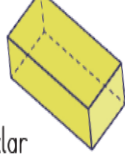
Küp



Kare Prizma



Dikdörtgen Prizma



Benzerlikler

Farklılıklar

.....
.....
.....
.....
.....

.....
.....
.....
.....
.....

Verilen geometrik cisimlerin açılımlarını çizin.



Verilen kelimeleri uygun boşluklara yazınız.

doğal	ormanlarımız	kendiliğinden
değiştirilebilir	göl	okulumuz
park	insan	yapay

- 1.....doğal bir çevredir.
- 2.....yapay bir çevredir.
3. Hayvanat bahçesi.....bir çevredir.
4. Deniz.....bir çevredir.
- 5.Yapay çevre.....yapımıdır.
6. Doğal çevreoluşur.
- 7.Doğal çevre insan tarafından.....
- 8.....bir yapay çevredir.
- 9.....bir doğal çevredir.

Verilen kelimeleri uygun boşluklara yazınız.

Tuz Gölü	Pamukkale	Aspendos
Selimiye	Peribacaları	Ölüdeniz
Sultanahmet	Anıtkabir	Truva atı

- 1.....Cami Edirne'dedir.
- 2.....Cami İstanbul'dadır.
3.Kapadokya'dadır.
- 4.....Denizli'dedir.
5.Konya'dadır.
6.Ankara'dadır.
7.Çanakkale'dedir.
8.Fethiye'dedir.
9.Antalya'dadır.

Günün Sözü: İplerdeki düğümler bir şekilde çözülür, asıl mesele boğazlardakiler. **La Edri**