

1)




Islak elleriyle arızalı elektrik kablosunu tamir etmek isteyen **Ali'yi** elektrik çarptı.

Aşağıdakilerden hangisi üstteki **olaydan** çıkarabileceğimiz ifadelerden **değildir**?

- A) Elektriği güvenli kullanmamız gerekir.
- B) Elektrik tehlikeli bir kaynaktır.
- C) Kuru ellerle kablolar dokunabiliriz.

2)



Üstteki gibi **hasarlı** bir kabloyu evimizde kullanmak neye **sebepe** olabilir?

- A) Bizi elektrik çarpabilir.
- B) Evdeki elektrik tüketimi azalır.
- C) Elektrik faturası fazla gelmez.

3) Elektriğin güvenli kullanımıyla ilgili aşağıdaki ifadelerden hangisi **doğru** **değildir**?

- A) İlk kez kullanılacak olan elektrikli bir aracın kullanım kılavuzu okunmalıdır.
- B) Elektrikli aracın fişini prize takmadan önce açma kapama düğmesinin açık olmasına dikkat etmeliyiz.
- C) Elektrikli aracı kullanmadığımız zaman fişini prizden çıkarmalıyız.

4)

Elektrik iletim hatlarının yakınında oyun oynamamalıyız.	
Elektrikli araçları kullanırken bir büyüğümüzden yardım istemeliyiz.	
Özellikle küçük çocuklar için kapaklı prizler kullanmamalıyız.	
Elektrikli araç ve gereçleri ıslak zeminde kullanmamalıyız.	

Yukarıda bilgilerden **doğru** olana **D**, **yanlış** olana **Y** yazarsak nasıl bir **görüntü** oluşur?

A)	Y	B)	D	C)	Y
	Y		D		D
	D		Y		Y
	Y		D		Y

5)



Yukarıdaki resimlerle alakalı aşağıdaki ifadelerden hangisi **yanlış** **değildir**?

- A) Elektrikli araçları ıslak zeminde kullanmanın sakıncası yoktur.
- B) Sağımızı banyoda kuruturken zeminin ıslak olduğundan emin olmalıyız.
- C) Ellerimiz ıslakken elektrikli araçları açıp kapatmamalıyız.

6) Yerli üretim elektrikli araçları satın alırken araçların damgalı olup olmadığına dikkat etmeliyiz.

Yukarıdaki **noktalı** alana aşağıdakilerden hangisi **gelmelidir**?

- A) TSE
- B) STT
- C) PPE

7)




Efe

Elektrikli araçların içine çatal ve bıçak sokmam.



Arzu

Çoklu prize aynı anda başka çoklu prizler takabilirim.



Uğur

Elektrikli aracın kablosunu açıkta ve dağınık bırakmam.

Güvenli elektrik kullanımıyla alakalı, çocuklardan hangisinin ifadesi yanlıştır?

- A) Arzu B) Efe C) Uğur

8)



Yağmurlu ve fırtınalı havalarda oluşabilecek tehlikelerle alakalı aşağıdaki **ifadelerden** hangisi doğrudur?

- A) Yağmurlu havalarda elektrik direklerine yaklaşabiliriz.
B) Yağmurlu ve fırtınalı havalarda kopan elektrik telleri çok tehlikelidir.
C) Islak ortamlar elektriğin iletimini çok zorlaştırır.

9) Aşağıdaki davranışlardan hangisi **elektrik çarpmasının** sebeplerinden biridir?

- A) Hasarlı elektrik kablolarından uzak durmak
B) Elektrikli araç gereçler bozulduğunda uzmanlardan yardım almak
C) Elektrikli araç çalışırken elimizle onu tamir etmeye çalışmak

10)




Elektrik akımına kapılan bir kişiye nasıl müdahale edersek doğru olur?

- A) Tahta, halat gibi nesnelerle kazazedeyi akımdan kurtarmak
B) Elimizle kazazedenin elinden tutup onu güvenli yere çekmek
C) Kazazedenin üstüne su dökerek onu yanmaktan kurtarmak

11)

Prizlere metal nesneler sokmak	Prizlere güvenlik kapağı takmak
Prize takılı kabloyu ısırarak	Islak elle prize kullanmamak

Yukarıdaki cümlelerden **tehlikeli** davranış içerenlerin kutucuklarını boyarsak ortaya nasıl bir görüntü çıkar?



12)



Elektrik tellerine konan kuşları elektriğin **çarpmamasının** sebebi aşağıdakilerden hangisidir?

- A) Çünkü hiçbir hayvanı elektrik çarpmaz.
B) Başka bir yere temas etmedikleri için kuşların üzerinden akım geçmez.
C) Kuşların ayakları elektriği geçirmez özelliğe sahiptir.