

1) Kaç tane ana yön vardır?

- A) 2 B) 3 C) 4

2) Aşağıdakilerden hangisi ana yönlerden biri değildir?

- A) Kuzey
B) Güneybatı
C) Batı

3) Ana yönler ile ilgili verilen ifadelerden hangisi yanlıştır?

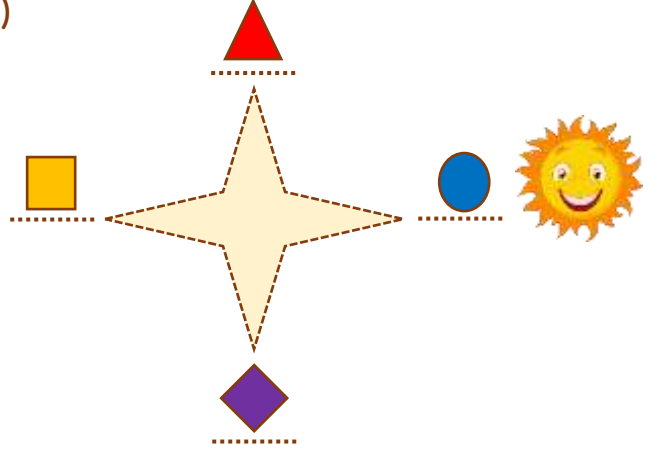
- A) Güneş'in doğduğu yön güneydir.
B) Güneş'in battığı yön batıdır.
C) Güneş'in doğduğu yöne sağ kolumuzu koyduğumuzda önümüz kuzeyi gösterir.

4) Güneş'in doğduğu yöne sağ kolunu koyan İlayda'nın arkası hangi yönü gösterir?






- A) Güney B) Batı C) Kuzey

5)



Yukarıdaki görselde doğmakta olan Güneş'in bulunduğu yere göre hangi eşleştirme doğrudur?

- A)  - Güney
B)  - Batı
C)  - Doğu

6)



Ahmetlerin evinin arkası Güneş'in battığı tarafı göstermektedir.

Buna göre Ahmet evin hangi tarafındadır?

- A) Kuzey B) Güney C) Doğu

- 7) Gün boyu kuzularını otlatan çoban akşama doğru yolunu kaybetmiştir.



Ancak köyünün kuzeyde kaldığını bilmektedir.

Çoban yönünü bulmak için hangisinden yararlanabilir?

- A) Uçan kuşun konumundan
- B) Güneş'in konumundan
- C) Bulutların konumundan

- 8) () Güneş doğudan doğar.
() 3 tane ana yön vardır.
() Önümüz kuzey ise arkamız batı olur.

Yukarıdaki ifadelerden doğru olana "D", yanlış olana "Y" nasıl yazılmalıdır?

- | | | |
|--------|--------|--------|
| A) (D) | B) (D) | C) (Y) |
| (Y) | (D) | (Y) |
| (Y) | (Y) | (D) |



(9-11. soruları görsele göre cevaplayınız.)

- 9) Elifin evinin doğusunda hangisi vardır?
- A) Okul
 - B) Park
 - C) Sağlık Ocağı
- 10) Elif okuldan eve giderken hangi yöne doğru hareket eder?
- A) Batı
 - B) Güney
 - C) Kuzey
- 11) Aşağıdaki ifadelerden hangisi doğrudur?
- A) Elifin evinin güneyinde okul vardır.
 - B) Parkın doğusunda Elifin evi vardır.
 - C) Okulun batısında park vardır.

Cevap Anahtarı

1-C 2-B 3-A 4-A 5-B 6-B 7-C 8-A 9-C 10-C 11-A