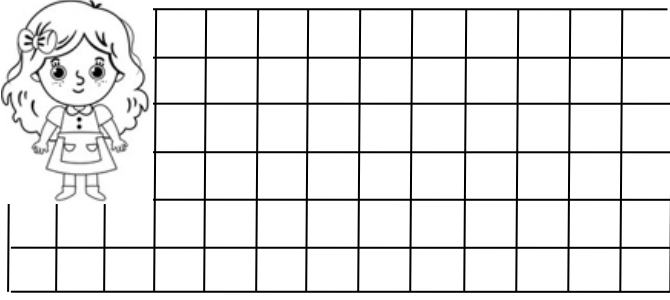



TOPLAMA VE ÇIKARMA İŞLEMİ İLE İLGİLİ PROBLEMLER


1. Semra kitaplığındaki 59 hikaye kitabından 8 tanesini okumuş. Geriye okunacak kaç tane kitap kalmıştır ?




2. Bahçemizde 24 tane elma 35 tane kayısı ağacı var. Bahçemizde toplam kaç tane ağaç vardır?




3. Sinemada filmi 32 kişi seyretti. 46 tane koltuk ise boştu. Sinemada kaç tane koltuk var ?




4. Bahçedeki 28 fidanın 15 tanesini suladım. Geriye sulanacak kaç tane fidan kalmıştır?




5. Aysel'in 67 tane boncuğu vardı. Boncukların 32 tanesini arkadaşına verdi. Geriye kaç tane boncuk kalmıştır?



6. Her gün 43 tane ekmek satan bakkal iki günde toplam kaç tane ekmek satar ?



7. Resim kursuna 27 tane kız, 12 tane erkek öğrenci gitmektedir. Resim kursuna toplam kaç öğrenci gitmektedir?



8. Mert'e 45 liranın 30 lirasına defter ve kalem almış. Mert'in kaç lirası kalmıştır?

