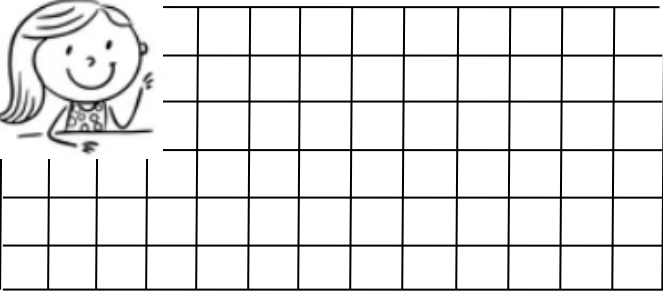



TOPLAMA VE ÇIKARMA İŞLEMİ İLE İLGİLİ PROBLEMLER


1. Babam 42 yaşındadır. Babam 6 yıl sonra kaç yaşında olur ?



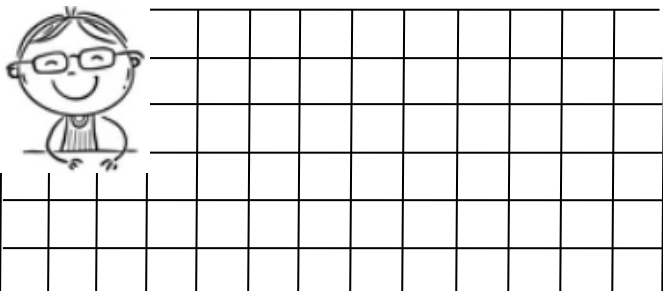
2. Her gün 34 tane problem çözen Ayça iki günde toplam kaç problem çözer ?




3. Tabaktaki 47 tane fıncığın bir kısmını yiyince 13 fıncık kaldı. Buna göre kaç tane fıncık yedik?




4. Sinem , 78 sayfa olan defterinin 35 sayfasını kullanmış. Geriye kaç sayfa kalmıştır?



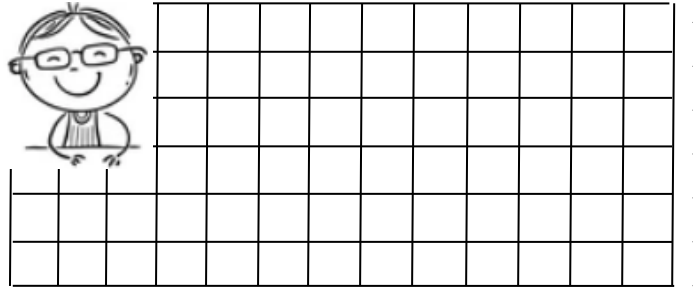
5. Okulumuzda birinci sınıflarda toplam 95 öğrenci vardır. Bugün okula 15 öğrenci gelmediğine göre kaç öğrenci gelmiştir?



6. Otobüste 25 tane yolcu vardı. Otobüse 24 kişi daha bindi. Otobüste kaç kişi olmuştur?



7. Vazodaki 29 tane çiçeğin 6 tanesi kurumuş. Kuruyan çiçekleri alınca vazoda kaç tane çiçek kalır?



8. Kerem parasının 34 lirasını harcadınca geriye 42 lirası kalmış. Harcamadan önce Kerem'in kaç lirası vardı?

