



## YANLIŞ YAZILAN KELİMELER

☼ Aşağıda verilen kelimelerin doğru şeklini yazalım.

tenbel

penguven

kırem

aferim

örenci

ayile

tırafık

hastahane

şemşie

mutvak

perşenbe

mektub

pıçak

pisküvi

iyne

pisiklet

matamatik

şöför

## TÜRKÇE

1. ETKİNLİK : Aşağıdaki cümlelerde boş bırakılan yerlere verilen kelimelerden uygun olanını yazalım.

..... su içti .

İki tane ..... aldım.

Annem bana ..... verir.

Ozan ..... kırdı.

..... elma yedik .

..... bize uzak.

Benim boyum .....

Oğuz ile ..... oyna.

odun	ayva	uzun
oyun	okul	önem
inek	ekşi	



2. ETKİNLİK : Aşağıda karışık olarak verilen kelimelerle anlamlı bir cümle oluşturulm.

1. ( sinemaya - gitmiş - Betül - dün )

2. ( gitti - sizin - Mustafa - eve )

3. ( Hatice - koy - su - kovaya )

4. ( elma - iri - al - abla )


5. ( bu - okudu - Miray - kitabı )

6. ( tatlı - annem - yaptı - sütlü )

3. ETKİNLİK : Bulmacadaki gizli eşya isimleri bulalım.

Ç	E	Ş	T	A	B	A	K	H	E
A	B	K	A	N	T	Z	E	İ	K
T	Y	E	B	S	A	R	B	Ü	A
E	Z	P	S	T	V	E	A	T	Ş
N	E	Ç	A	T	A	L	R	Ç	İ
C	A	E	V	E	Ç	B	D	O	K
E	Z	A	T	S	Ü	R	A	H	İ
R	V	P	Ü	F	N	S	K	E	S
E	S	B	İ	Ç	A	K	S	Ü	A

BARDAK - BIÇAK - TABAK - TENCERE  
KEPÇE - SÜRAHİ - ÇATAL - KAŞIK - TAVA





## AYÇA VE MERT

Ayça ve Mert adında iki kardeş varmış. Ayça , Mert'ten iki yaş büyükmüş. Ayça ödevlerini yaptıktan sonra annesine yardım edermiş. Ama Mert öyle değilmiş. Ödevlerini zamanında yapmaz ve kimseye yardım etmezmiş. En kötü özelliği de yalan söylemekmiş.

Mert o gün parka gitmek için annesinden izin almış. Ama parka gitmemiş. Park yerine üç sokak ötedeki alışveriş merkezine gitmiş. Alışveriş merkezinin üst katında çocuklar için oyun salonu varmış. Mert doğruca oyun salonuna çıkmış. Oyun salonunda eğlenceli çok çeşitli oyuncaklar varmış. Mert orada oynayan çocukları izliyormuş. Kendisi de oyun salonuna girmek istemiş ama parası olmadığı için girememiş.

Annesi, Ayça'dan Mert'i çağırmasını istemiş. Ayça parkta Mert'i bulamamış. Ayça, Mert'i bulamadığı için telaşlanmış. Annesi, Mert'in oyun salonuna gitmiş olabileceğini düşünmüş. Ayça ve annesi alışveriş merkezindeki oyun salonuna gitmişler. Mert'i orada bulmuşlar. Annesi, Mert'e çok kızmış. Bir daha haber vermeden evden uzaklaşmaması gerektiğini söylemiş.

☆ Aşağıdaki soruları metne göre cevaplayalım.

1. Ayça ödevlerini yaptıktan sonra ne yaparmış?

2. Mert'in en kötü özelliği neymiş?

3. Mert annesinden niçin izin almış?


4. Mert park yerine nereye gitmiş?

5. Mert oyun salonuna niçin girememiş?

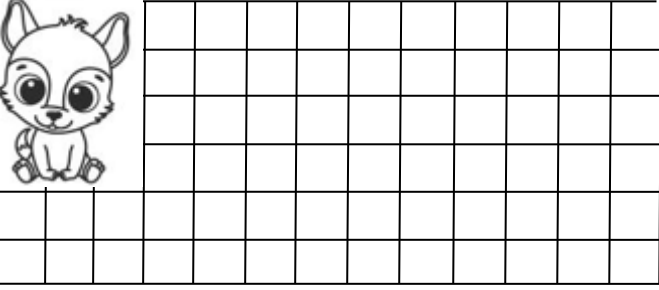
6. Annesi , Ayça'dan ne istemiş?

## TOPLAMA VE ÇIKARMA İŞLEMİ İLE İLGİLİ PROBLEMLER


1. Annem 16 tane yumurtanın 5 tanesini pişirdi. Geriye kaç tane yumurta kaldı?




2. Salih dün 13 sayfa, bugün 6 sayfa kitap okumuş. Salih iki günde toplam kaç sayfa kitap okumuştur?



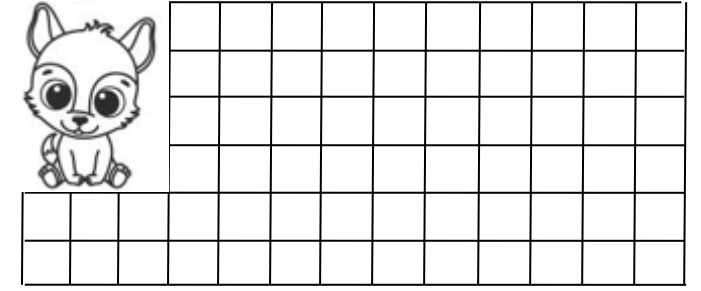
3. Kutuda 25 tane boncuk vardı. Deniz kutuya 12 tane daha boncuk koydu. Kutuda toplam kaç tane boncuk oldu?




4. Betül ve Begüm ikiz kardeşlerdir. Betül 10 yaşında olduğuna göre , ikisinin yaşları toplamı kaçtır?



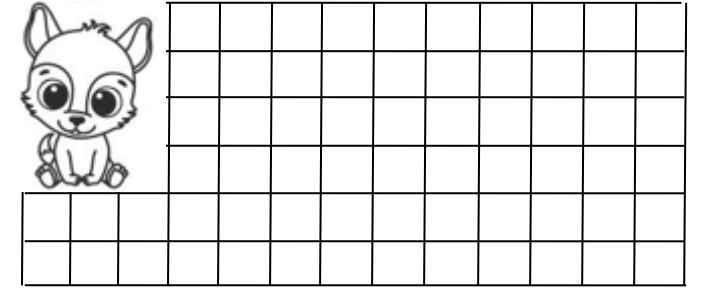
5. Tabakta 14 tane erik vardı. Fatma eriklerin tamamını yedi. Tabakta kaç tane erik kaldı?




6. Hasan 17 yaşındadır. İlke ise Hasan'dan 4 yaş küçüktür. İlke kaç yaşındadır ?



7. Dayımların önce 32 , sonra 5 tane kuzuları doğmuş. Toplam kaç tane kuzu doğmuştur?



8. Kutudaki 48 tane boncuğun 26 tanesi mavi geri kalanı kırmızıdır. Kutuda kaç tane kırmızı boncuk vardır?















## TOPLAMA VE ÇIKARMA İŞLEMİYLE İLGİLİ PROBLEMLER

☆ Aşağıdaki problemleri çözelim . Doğru cevabı boyayalım.

1. Bir baloncu 38 tane balonun 14 tanesini satmış. Geriye kaç tane balon kalmıştır?



14

24

23

2. Taner'in 12 tane bilyesi vardı. 16 tane bilye de arkadaşı verdi. Taner'in kaç bilyesi olmuştur?



28

38

39

3. Ali'nin ablası 13 yaşındadır. 14 yıl sonra ablası kaç yaşında olur?



17

28

27

4. Oya önce 25 sayfa kitap okumuş. Sonra 20 sayfa daha okumuş. Oya toplam kaç sayfa kitap okumuş?



45

35

55

5. Büşra'nın 65 lirası vardı. 23 lirasına kitap aldı. Büşra'nın kaç lirası kalmıştır?



52

44

42

6. Sınıfımızdaki 38 öğrencinin 22 tanesi kızdır. Sınıfımızda kaç tane erkek öğrenci vardır?



16

26

15

7. Babam bahçeye 45 tane domates, 23 tane biber fidesi dikti. Dikilen fidelerin tamamı kaç tanedir?



67

58

68

8. Bir kümesteki 49 tane tavuk ve horoz var. Hayvanların 16 tanesi olduğuna göre kaç tanesi tavuktur?



33

23

34

## TOPLAMA VE ÇIKARMA İŞLEMİYLE İLGİLİ PROBLEMLER

☆ Aşağıdaki problemleri çözelim . Doğru cevabı boyayalım.

1. Utku her gün 24 sayfa kitap okursa iki günde kaç sayfa kitap okumuş olur?



26

49

48

2. Sıla 57 tane problemin 25 tanesini çözmüş. Geriye çözülecek kaç problem kalmıştır?



22

32

33

3. Bir çiftlikteki 89 koyunun 36 tanesi satılmış. Geriye kaç tane koyun kalmıştır ?



43

53

52

4. Otobüste 26 tane yolcu vardı. Otobüse 12 kişi daha bindi. Otobüste kaç yolcu olmuştur?



48

37

38

5. Melih 19 yaşındadır. 7 yıl önce Melih kaç yaşındaydı?



12

13

14

6. Bahçede 63 tane çocuk oyun oynuyordu. Bahçeye 26 çocuk daha geldi. Bahçede kaç çocuk olmuştur?



89

88

79

7. Bakkalın ekmek dolabında 14 tane ekmek vardı. Dolaba 54 tane ekmek kondu. Dolapta kaç tane ekmek olmuştur?



67

58

68

8. Bir manavdaki 76 tane karpuzu 46 tanesi satılmış. Geriye kaç tane karpuz kalmıştır?



40

30

50