



Adı Soyadı : .....

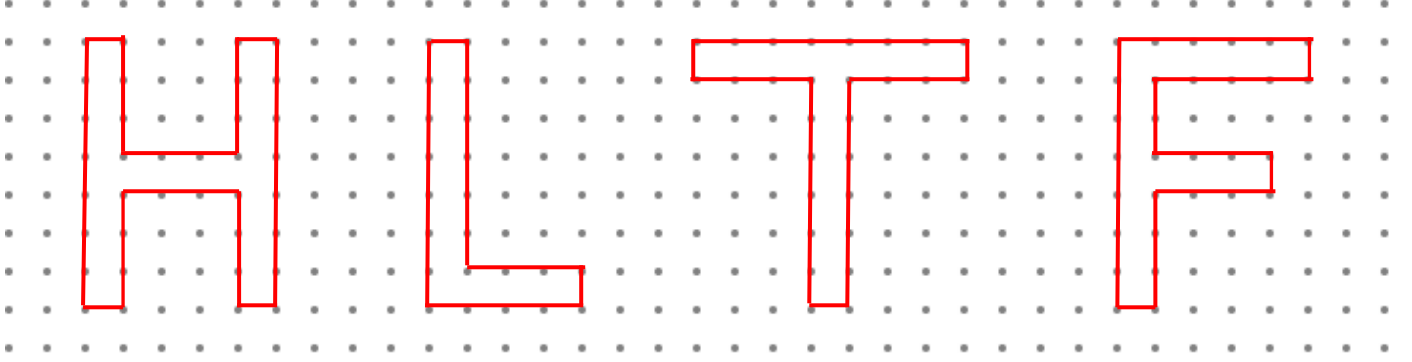
Numarası : .....

Çalışma Kağıdı 1

Konu: Çevre Ölçme Etkinliği 2

Aşağıdaki noktalı kağıtta verilen şekillerin çevre uzunluklarının kaç birim olduğunu bulalım.

( İki nokta arası 1 birimdir)




..... birim


..... birim

..... birim

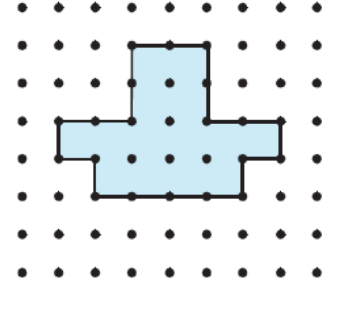
..... birim



..... birim

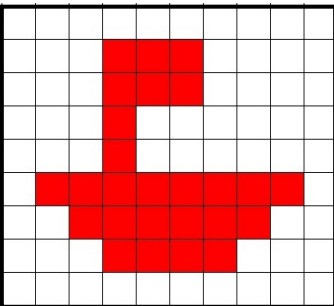


..... birim

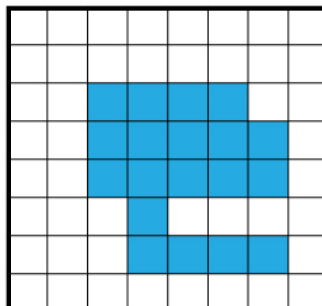


..... birim

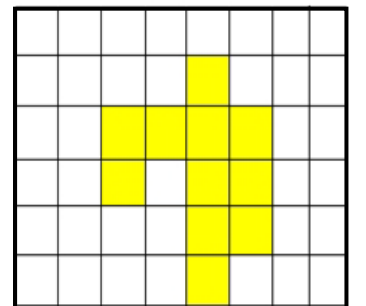
Çevre uzunluklarının kaç birim olduğunu sayıp yazınız.



..... birim



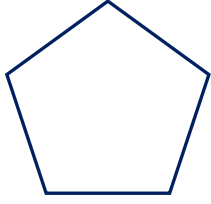
..... birim



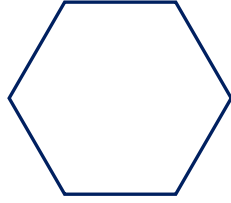
..... birim

Aşağıda kenar uzunlukları verilen şekillerin çevre uzunluklarını hesaplayalım.

1) Aşağıda kenar uzunlukları birbirine eşit olan beşgen ve altıgenin çevre uzunluğunu bulunuz.



6 cm

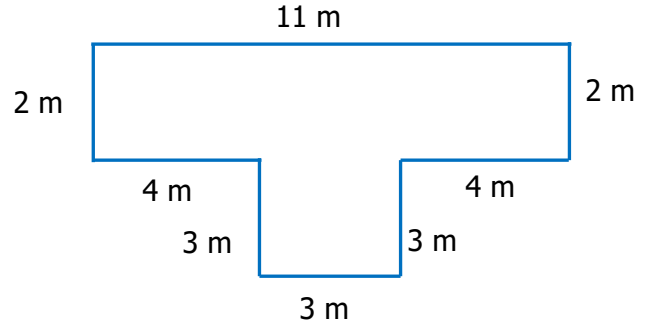


7 cm

Ç= .....

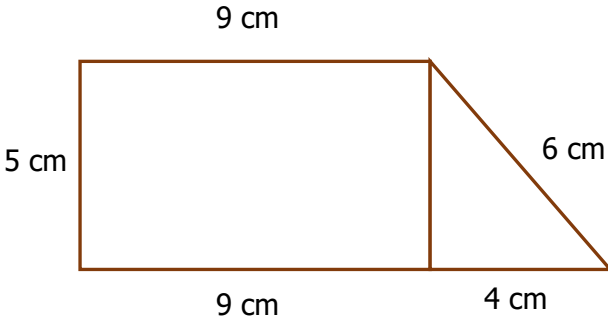
Ç= .....

2) Aşağıdaki şeklin çevre uzunluğunu bulunuz.



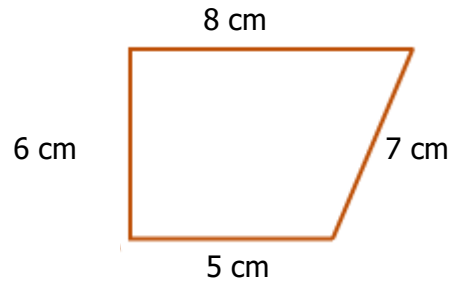
Ç= .....

3) Aşağıdaki şeklin çevre uzunluğunu bulunuz.



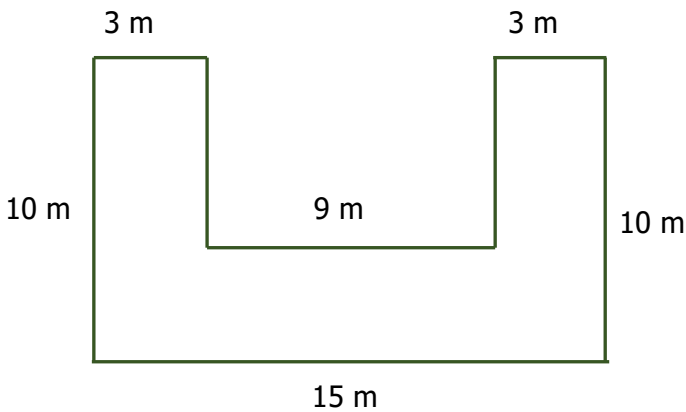
Ç= .....

4) Aşağıdaki şeklin çevre uzunluğunu bulunuz.



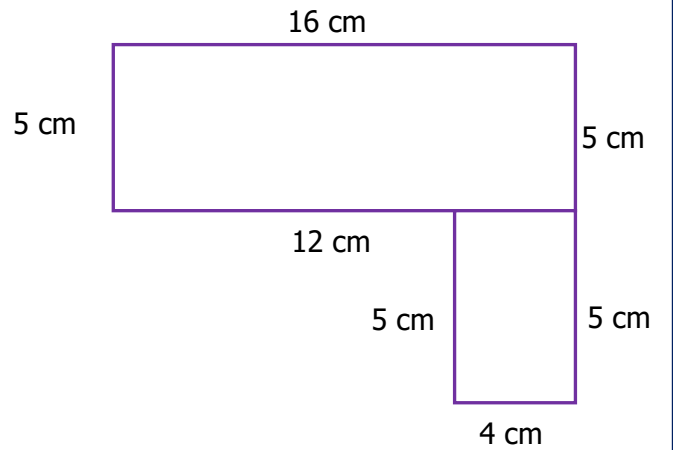
Ç= .....

5) Aşağıdaki şeklin çevre uzunluğunu bulunuz.



Ç= .....

6) Aşağıda çevre uzunluğu verilen şekillerin çevre uzunluğunu bulunuz.



Ç= .....