





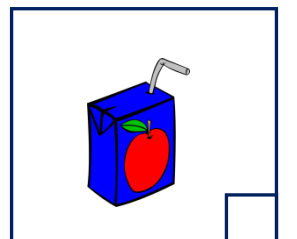
Adı Soyadı :

Numarası :

Çalışma Kağıdı 1

Konu: Sıvı Ölçme

Aşağıdaki maddelerin hangilerinin litre ile ölçüldüğünü işaretleyelim.

Aşağıdaki kaplardan 1 litreden az su alanların kutularını kırmızıya, 1 litreden fazla su alanların kutularını maviye boyayınız.

Aşağıdaki noktalı yerlere uygun ifadeler yazalım.

1 litre yarım litre eder.

4 yarım litre litre eder.

6 yarım litre litre eder.

3 litre yarım litre eder.

10 litre yarım litre eder.

8 yarım litre litre eder.

12 yarım litre litre eder.

10 yarım litre litre eder.

Aşağıda verilen ifadelerden doğru olanların başına "D", yanlış olanların başına "Y" yazınız.

- () Sıvı maddeleri ölçmek için kilogram veya gram birimleri kullanılır.
- () Süt, limonata ve bal gibi maddeleri litre ile ölçülür.
- () Bir şurup şişesi 1 litreden fazladır.
- () Manavdan aldığımız karpuzun miktarını ölçmek için litre kullanılır.
- () Banyoda kullandığımız şampuan sıvı maddelere örnektir.
- () 4 yarım litre + 3 litre, 5 litreye eşittir.
- () Limon, portakal gibi bazı meyvelerden sıvı maddeler elde ederiz.

Aşağıdaki kapların alacağı sıvı miktarını çoktan aza doğru numaralandırınız.



Aşağıdaki kapların alacağı sıvı miktarını azdan çoğa doğru numaralandırınız.

