



Adı Soyadı : .....

Numarası : .....

Çalışma Kağıdı

Konu: Kesirler Etkinliği 1

Aşağıdaki meyveler, eş parçalara ayrılmıştır. Bu parçaların belirttiği ifadeleri noktalı yerlere yazınız.

.....

.....

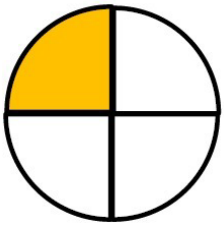
.....

.....

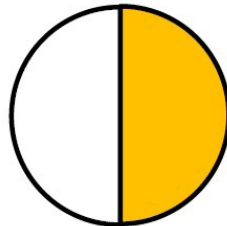
.....

.....


Aşağıda verilen şekillerin boyalı kısımlarına göre "bütün – yarım – çeyrek" ifadelerinden uygun olanlarını yazınız




.....



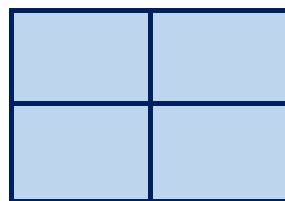
.....




.....



.....

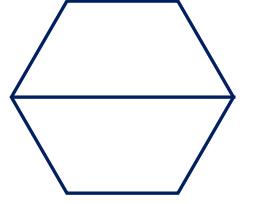
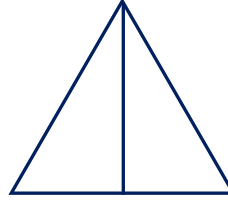
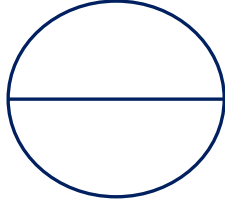


.....





.....

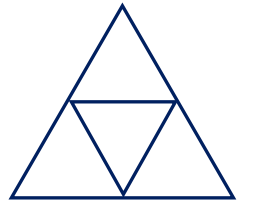
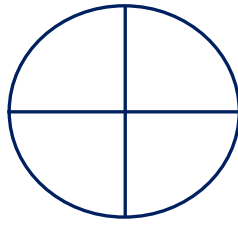
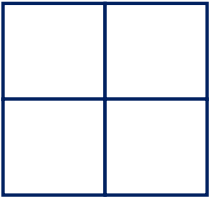
Aşağıda verilen şekillerin yarısını boyayınız.




Aşağıda verilen şekillerin tamamını boyayınız.



Aşağıda verilen şekillerin çeyreğini boyayınız.



Aşağıdaki meyvelerin karşlarına "bütün – yarım – çeyrek" yazınız.



→ .....



→ .....



→ .....



→ .....



→ .....



→ .....



→ .....



→ .....



→ .....

Aşağıdaki noktalı yerleri örnekteki gibi tamamlayalım.

4 yarım **2** bütün eder.

1 bütün ..... çeyrek eder.

1 yarım ..... çeyrek eder.

6 yarım .... bütün eder.

2 bütün ..... çeyrek eder.

2 yarım ..... çeyrek eder.

10 yarım .... bütün eder.

4 bütün ..... çeyrek eder.

3 yarım ..... çeyrek eder.