



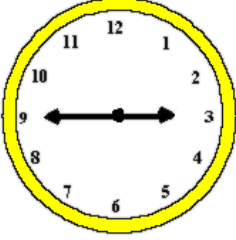
Adı Soyadı :

Numarası :

Çalışma Kağıdı 1

Konu: Zaman Ölçme (Saatler Etkinliği) 2

Aşağıdaki saatlerin okunuşlarını altındaki boşluklara yazınız.




Öğleden Önce : :

Öğleden Sonra : :



Öğleden Önce : :

Öğleden Sonra : :



Öğleden Önce : :

Öğleden Sonra : :



Öğleden Önce : :

Öğleden Sonra : :



Öğleden Önce : :

Öğleden Sonra : :



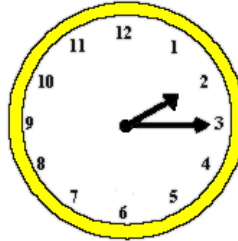
Öğleden Önce : :

Öğleden Sonra : :



Öğleden Önce : :

Öğleden Sonra : :




Öğleden Önce : :

Öğleden Sonra : :



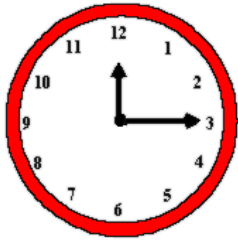
Öğleden Önce : :

Öğleden Sonra : :



Öğleden Önce : :

Öğleden Sonra : :



Öğleden Önce : :


Öğleden Sonra : :




Öğleden Önce : :

Öğleden Sonra : :


Dijital saatlerde verilen zamanlara göre saatlerin üzerlerine akrep ve yelkovan çizelim.




04 : 15



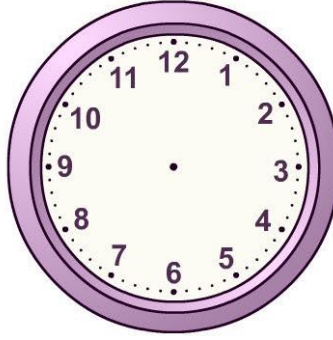
07 : 30




01 : 00




12 : 30




06 : 45




11 : 15




12 : 00




09 : 30



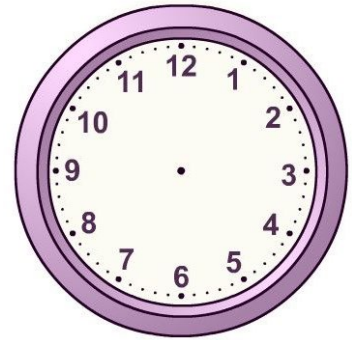
03 : 45



02 : 15



08 : 45



06 : 15

Aşağıda öğleden sonra okunuşları verilen saatlerin akrep ve yelkovanlarını çizelim.



18 : 00



14 : 30



22 : 15



13 : 00



19 : 15



19 : 00



21 : 45



20 : 15

Aşağıdaki analog saatleri dijital saatlerle eşleştiriniz.



15 : 30



22 : 15



20 : 30



16 : 45



13 : 15



24 : 00

Aşağıda verilen saatlerin öncesini ve sonrasını, akrep ve yelkovan çizerek gösteriniz. Okunuşlarını yazınız.



.... :
Yarım saat
önce



.... :
Yarım saat
sonra



.... :
Çeyrek saat
önce



.... :
Çeyrek saat
sonra



.... :
Bir saat
önce



.... :
Bir saat
sonra