

Konu: Paralarımız (Paralarımızı Tanıyalım) Etkinliği 1

Aşağıdaki gruplarda verilen para miktarlarını noktalı yerlere yazınız.



..... TL



..... TL



..... TL




..... TL



..... TL



..... TL



..... TL



..... TL

Aşağıdaki paralarla fiyatı verilen ürünler satın alındı. Geri alınacak para üstlerini yazınız.

  
8 TL

  
Para Üstü ..... TL

  
17 TL


  
Para Üstü ..... TL


  
22 TL


  
Para Üstü ..... TL


  
55 TL


  
Para Üstü ..... TL


  
7 TL

  
17 TL

  
35 TL

  
43 TL

  
10 TL

  
15 TL

Aşağıda verilen paralarla yukarıda fiyatı verilen hangi ürünlerin alabilirsiniz? Yazınız.



.....

.....

.....

.....