




Adı Soyadı :

Numarası :

Çalışma Kağıdı 1

Konu: Paralarımız (Paralarımızı Tanıyalım) Etkinliği 2

Aşağıdaki gruplarda verilen paraları karşılaştırınız. Miktarı fazla olanı işaretleyiniz.



Aşağıdaki ürünleri fiyatları ile eşleştiriniz.



₺ 35



₺ 55





₺ 8



₺ 70



Aşağıda paralarla ilgili verilen işlemleri yapınız.

a  +  = TL

f  -  = kr.

b  -  = TL

g  +  = TL

c  +  = TL

h  -  = kr.

d  -  = TL

l  +  +  = TL

e  +  = TL

m  -  = kr.

Aşağıda verilen ürünleri ve fiyatlarını inceleyiniz. İşlemlerini yapınız.



₺ 12



₺ 10



₺ 45





₺ 52



₺ 2



₺ 17



A)  +  = TL

D)  +  = TL

B)  +  = TL

E)  +  = TL

C)  +  = TL

F)  +  = TL