



Adı Soyadı :


Numarası :

Konu: Standart Ölçü Birimleri (Metre, Santimetre)Etkinliği


Aşağıdaki görsellerde verilen standart uzunluk ölçme araçlarının adlarını yazınız.




.....



.....



.....



.....

Aşağıdaki cetvellerle ölçülmüş kalemlerin ölçüm sonuçlarını noktalı yerlere yazalım.



1)



.....



2)



.....



3)



.....



4)



.....




5)

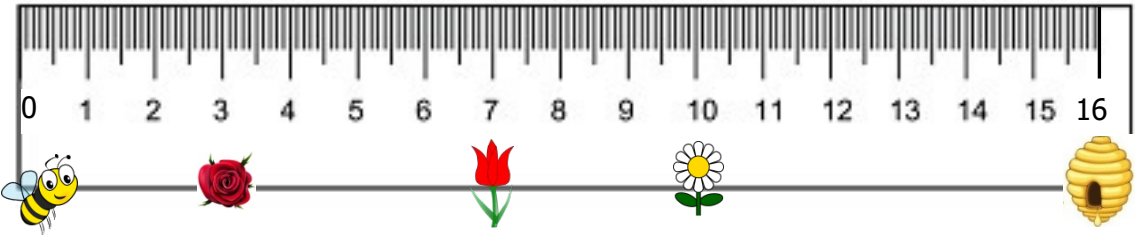


.....

Aşağıdaki görsellerin metre ile ölçülenlerinin kutucuklarını maviye, santimetre ile ölçülenlerini yeşile boyayınız.



Aşağıdaki soruları cetvel üzerindeki varlıklara konumuna göre cevaplayınız.



- Yukarıdaki cetvel kaç santimetre uzunluğundadır?
- Arının boyu kaç santimetredir?
- Arının güle ulaşması için kaç santimetre uçuşması gerekir?
- Arının laleye ulaşması için kaç santimetre uçuşması gerekir?
- Arının papatyaya ulaşması için kaç santimetre uçuşması gerekir?
- Arının kovana ulaşması için kaç santimetre uçuşması gerekir?