




Adı Soyadı :

Numarası :

Konu: Tartma (Nesneleri Tartalım ve Karşılaştıralım) Etkinliği 1




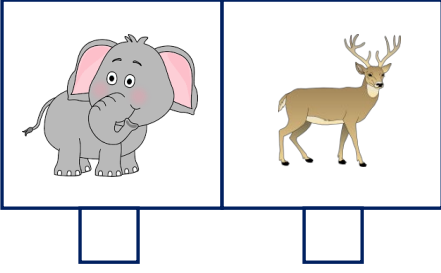
Aşağıdaki ürünlerden tartılarak satın aldıklarımızı işaretleyelim.



Nesneleri tartmada kullandığımız araçları işaretleyiniz.



Aşağıdaki varlıklardan kütlesi ağır olanları işaretleyiniz.



Tartılan ürünlerin kütlelerini karşılaştırarak altlarına yazalım.



Soğan

16 kg



Patates

14 kg



Un

11 kg



Pirinç

13 kg

..... , ten daha ağırdır.

..... , dan daha ağırdır.



Karpuz

7 kg



Kabak

9 kg



Şeftali

23 kg



Soğan

19 kg

..... , tan daha hafiftir.

..... , den daha hafiftir.