




Adı Soyadı :

Numarası :

Konu: Tartma (Nesneleri Tartalım ve Karşılaştıralım) Etkinliği 2

Terazilerdeki meyveleri tartımlarına göre, doğru ifadeleri başına "D", yanlış ifadelerin başına "Y" yazalım.




- () Elmaların kütlesi 1 kilogramdan azdır.
 () Elmaların kütlesi 1 kilogramdan fazladır.
 () Elmaların kütlesi 1 kilogramdır.



- () Portakallar kütlesi 1 kilogramdır.
 () Portakallar kütlesi 1 kilogramdan fazladır.
 () Portakallar kütlesi 1 kilogramdan azdır.

Aşağıdaki soruları tabloya göre cevaplayınız.

 6 kg	 4 kg	 5 kg	 15 kg
---	---	--	--

Kütlesi en az olan hayvan hangisidir?


Kütlesi en fazla olan hayvan hangisidir?

Tavşan, ördek ve kedinin kütlesi, kuzunun kütlesine eşit midir?

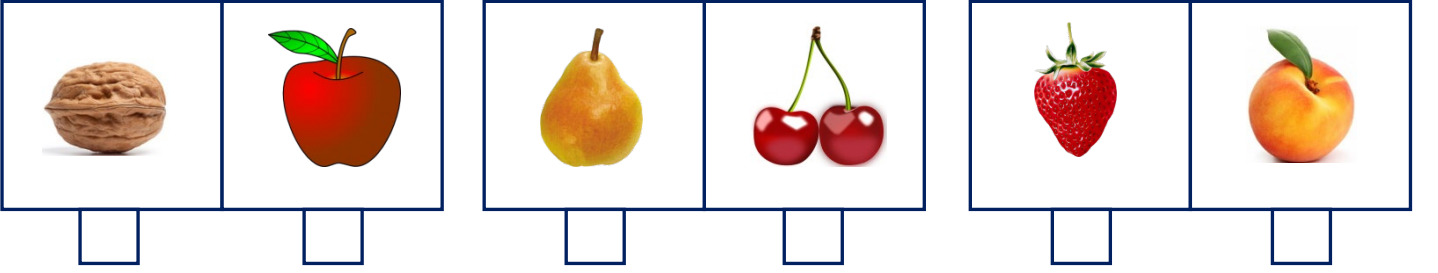
Tavşanın kütlesi, kuzunun kütlesinden ne kadar hafiftir?

Ördek ve kedinin kütlesi, tavşanın kütlesinden ne kadar fazladır?

Aşağıdaki varlıklardan kütlesi hafif olanları işaretleyiniz.



Aşağıdaki varlıklardan kütlesi ağır olanları işaretleyiniz.



Aşağıdaki soruları cevaplayınız.




Ali

36 kilogram



Eylül

30 kilogram



Mustafa

88 kilogram



Funda

28 kilogram



Yaşar

30 kilogram

Yaşar'ın kütlesi, Ali'nin kütlesinden azdır.

Eylül'ün kütlesi, Funda'nın kütlesinden fazladır.

Eylül ve Funda'nın kütlelerinin toplamı 'dir.

Eylül, Funda ve Yaşar'ın kütlelerinin toplamı, Mustafa'nın kütlesinetir.

Ali ve Yaşar'ın kütlelerinin toplamı, Mustafa'nın kütlesinden azdır.

Erkeklerin kütlelerinin toplamı, kızların kütlelerinin toplamından fazladır.

Kütlesi en fazla olan kişi

Kütlesi en az olan kişi

Eylül ve Yaşar'ın kütleleri birbirine