

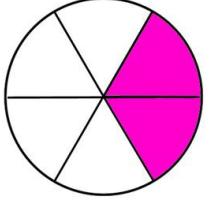


Adı Soyadı :

Numarası :

Konu: Kesirler (Basit, Bileşik ve Tam Sayılı Kesirler) Etkinliği

Aşağıdaki şekillerin boyalı kısımlarını ifade eden kesirleri ve okunuşlarını yazalım.



Kesir

.....

.....

Kesrin okunuşu

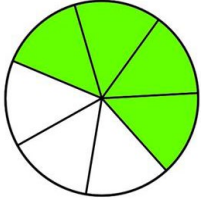
.....

veya

.....

Kesrin Çeşidi

.....



Kesir

.....

.....

Kesrin okunuşu

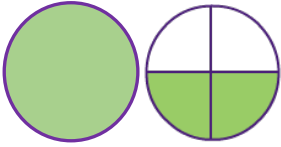
.....

veya

.....

Kesrin Çeşidi

.....



Kesir

.....
.....

.....

Kesrin okunuşu


.....

veya

.....

Kesrin Çeşidi

.....



Kesir

.....
.....

.....

Kesrin okunuşu

.....

veya

.....

Kesrin Çeşidi

.....



Kesir

.....

.....

Kesrin okunuşu

.....

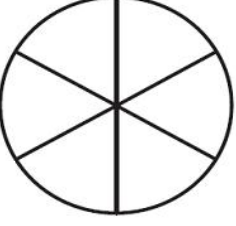
veya

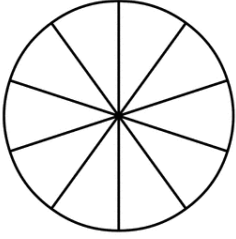
.....

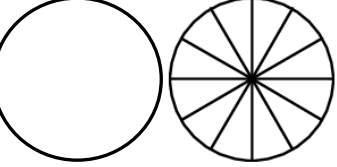
Kesrin Çeşidi

.....

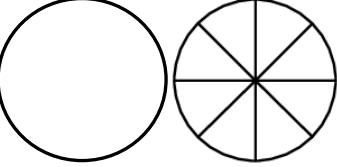
Aşağıda verilen bilgilerden yararlanarak noktalı yerleri doldurunuz. Kesirlere göre şekilleri boyayınız.

	Kesir	Kesrin Okunuşu <u>İki bölü altı</u> veya	Kesrin Çeşidi
--	--------------------------------	--	-------------------------------

	Kesir $\frac{8}{10}$	Kesrin Okunuşu veya	Kesrin Çeşidi
--	--------------------------------	---	-------------------------------

	Kesir $\frac{.....}{.....}$	Kesrin Okunuşu veya <u>on ikide on beş</u>	Kesrin Çeşidi
--	--	--	-------------------------------

	Kesir $1 \frac{2}{5}$	Kesrin Okunuşu veya	Kesrin Çeşidi
--	---------------------------------	---	-------------------------------

	Kesir $\frac{.....}{.....}$	Kesrin Okunuşu <u>Bir tam sekizde dört</u> veya	Kesrin Çeşidi
--	--	---	-------------------------------