



Adı Soyadı : .....

Numarası : .....

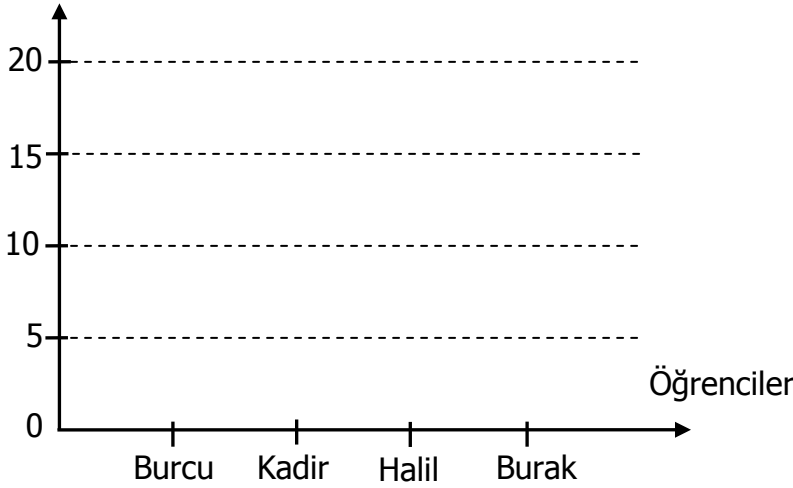
Konu: Verilerin Farklı Gösterimleri Etkinliği 2 (Çetele Tablosu, Sıklık Tablosu, Sütun ve Nesne Grafiği)

Aşağıdaki verilen bilgilere göre çetele tablosu ve sütun grafiği oluşturunuz.

4/C sınıfında yapılan başkanlık seçiminde alınan oylar. Halil 5 oy, Burcu 15 oy, Kadir 20 oy, Burak 10 oy almıştır.

Grafik: .....

Oyların Sayısı



Tablo: Alınan Oyların Çetele Tablosu

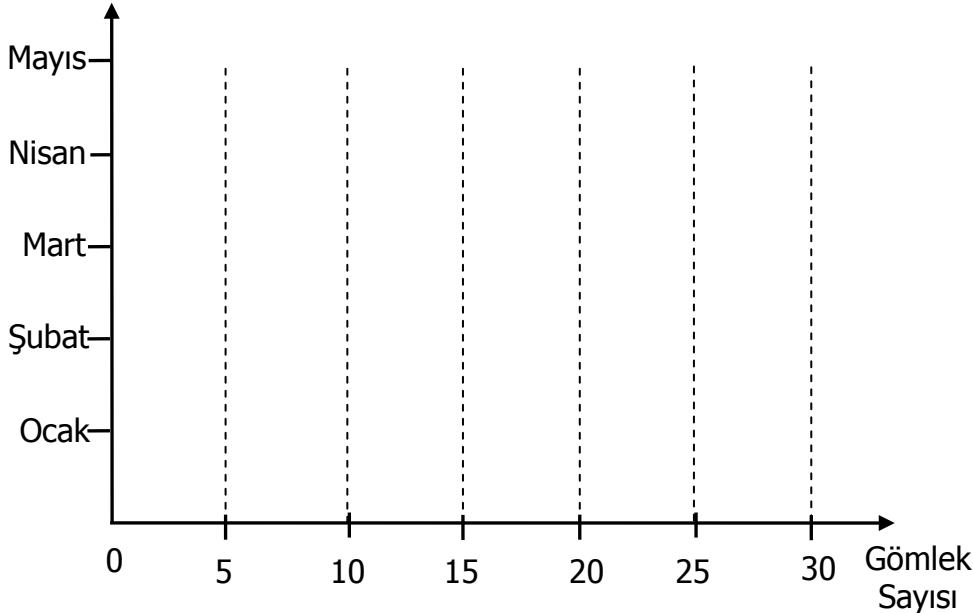
Öğrencinin Adı	Oyların Sayısı

Aşağıdaki verilere göre çetele ve sıklık tablosunu doldurunuz. Sütun grafiği oluşturunuz.

Bir mağazada aylara göre satılan gömlek sayıları: ( Ocak: 10, Şubat 25, Mart 30, Nisan 15, Mayıs 20)

Grafik: .....

Aylar



Tablo: Ayların Çetele Tablosu

Aylar	Gömlek Sayısı

Tablo: Ayların Sıklık Tablosu

Aylar	Gömlek Sayısı

Aşağıda verilen şeki grafiğine çetele ve sıklık tablosunu doldurunuz. Sütun grafiğini oluşturunuz.

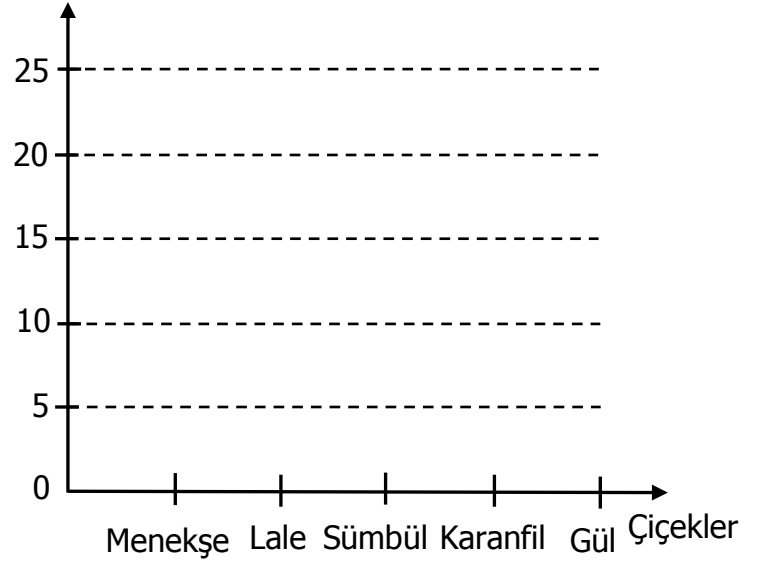
Grafik: .....

Çiçekler	Çiçek Sayısı
Menekşe	▲▲▲
Lale	▲▲▲▲▲
Sümbül	▲▲
Karanfil	▲▲▲
Gül	▲▲▲▲

Her şekil 5 çiçeği göstermektedir.

Grafik: .....

Çiçekler Sayısı



Tablo: .....

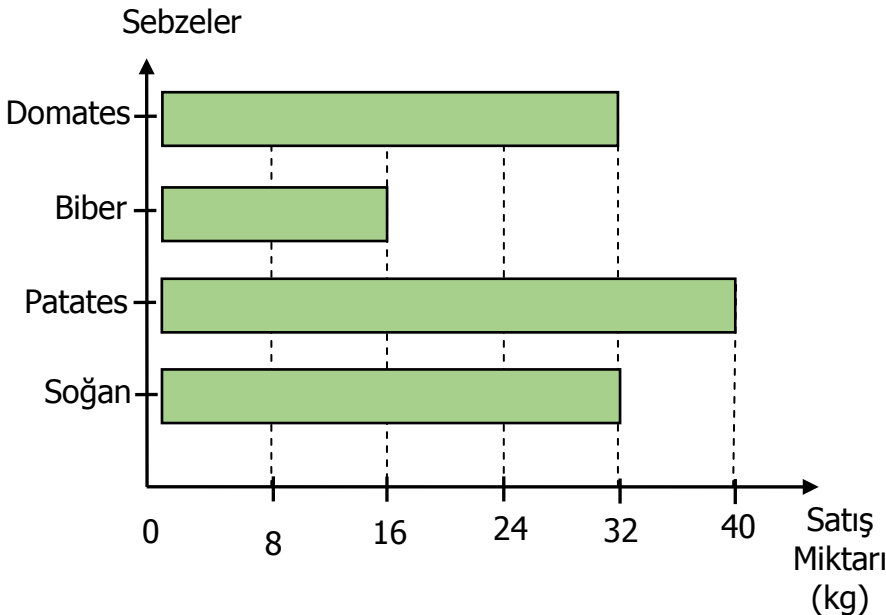
Çiçekler	Çiçek Sayısı

Tablo: .....

Çiçekler	Çiçek Sayısı

Aşağıda verilen sütun grafiğine göre çetele ve sıklık tablosu oluşturunuz.

Grafik: .....



Tablo: Sebzelerin Çetele Tablosu

Sebzeler	Satış Miktarı

Tablo: Sebzelerin Sıklık Tablosu

Sebzeler	Satış Miktarı