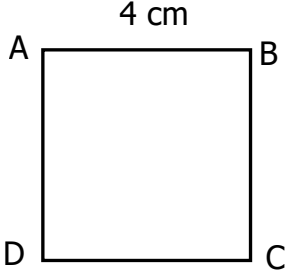




Adı Soyadı :

Numarası :

Konu: Kare ve Dikdörtgenin Kenar Özellikleri

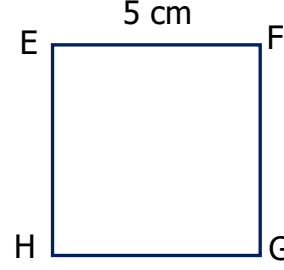
Aşağıdaki karelerin kenar uzunluklarını örnekteki gibi yazınız.

$|AB| = 4 \text{ cm}$

$|BC| = 4 \text{ cm}$

$|CD| = 4 \text{ cm}$

$|DA| = 4 \text{ cm}$

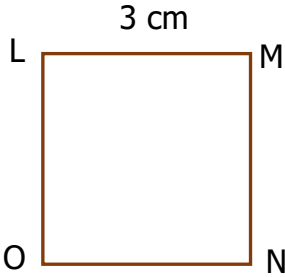


$|.....| = \text{ cm}$

$|.....| = \text{ cm}$

$|.....| = \text{ cm}$

$|.....| = \text{ cm}$

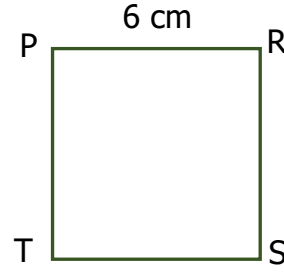


$|.....| = \text{ cm}$

$|.....| = \text{ cm}$

$|.....| = \text{ cm}$

$|.....| = \text{ cm}$

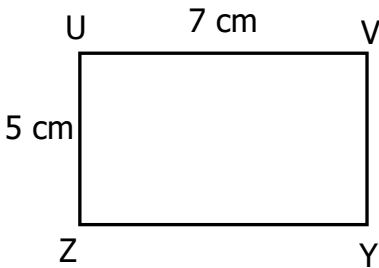


$|.....| = \text{ cm}$

$|.....| = \text{ cm}$

$|.....| = \text{ cm}$

$|.....| = \text{ cm}$

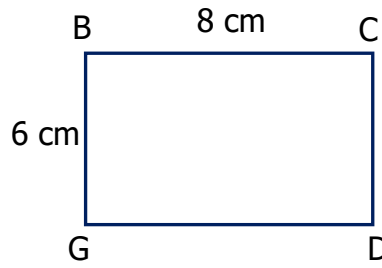
Aşağıdaki dikdörtgenlerin kenar uzunluklarını örnekteki gibi yazınız.

$|UV| = 7 \text{ cm}$

$|VY| = 5 \text{ cm}$

$|YZ| = 7 \text{ cm}$

$|ZU| = 5 \text{ cm}$

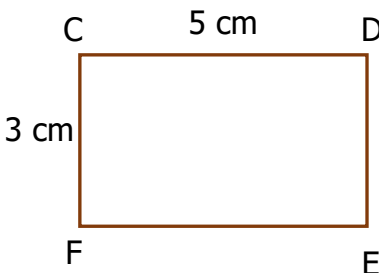


$|.....| = \text{ cm}$

$|.....| = \text{ cm}$

$|.....| = \text{ cm}$

$|.....| = \text{ cm}$

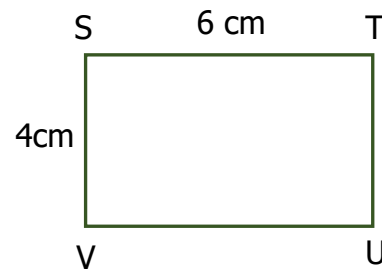


$|.....| = \text{ cm}$

$|.....| = \text{ cm}$

$|.....| = \text{ cm}$

$|.....| = \text{ cm}$



$|.....| = \text{ cm}$

$|.....| = \text{ cm}$

$|.....| = \text{ cm}$

$|.....| = \text{ cm}$

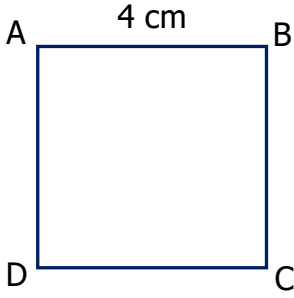
Aşağıdaki noktalı yerlere karenin özelliklerini yazınız.

- Karenin köşesi vardır.
- Karenin kenarı vardır.
- Karenin bütün kenarları birbirine

Aşağıdaki noktalı yerlere dikdörtgenin özelliklerini yazınız.

- Dikdörtgenin köşesi vardır.
- Dikdörtgenin kenarı vardır.
- Dikdörtgenin sadece karşılıklı kenarları birbirine

Aşağıdaki kare ve dikdörtgeni göre istenilenleri yazınız.



İsimleri

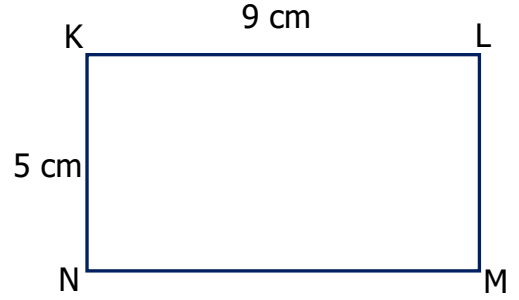
- karesi
- karesi
- karesi
- karesi

Kenarları

- $|AB| = \dots \text{ cm}$
- $|BC| = \dots \text{ cm}$
- $|CD| = \dots \text{ cm}$
- $|DA| = \dots \text{ cm}$

Köşeleri

- köşesi
- köşesi
- köşesi
- köşesi



İsimleri

- dikdörtgeni
- dikdörtgeni
- dikdörtgeni
- dikdörtgeni

Kenarları

- $|KL| = \dots \text{ cm}$
- $|LM| = \dots \text{ cm}$
- $|MN| = \dots \text{ cm}$
- $|NK| = \dots \text{ cm}$

Köşeleri

- köşesi
- köşesi
- köşesi
- köşesi