



Adı Soyadı :

Numarası :

Konu: Uzunlukları Ölçme (Milimetrenin Kullanım Alanları)

Uzunluğu "milimetre" ile belirtilen varlıkları işaretleyelim.


























Aşağıdaki uzunluklardan milimetre ile ölçülebilecekleri işaretleyiniz.

 Erzurum – Ağrı arasındaki uzaklık

 Kalemin ucunun kalınlığı

 Yüzüğün kalınlığı

 Yemek masasının yüksekliği

 Evin yüksekliği

 Çivinin kalınlığı

 Pirincin boyu

 Telefonun boyu

 Sıranın uzunluğu

 Düğmenin kalınlığı

 Otomobilin uzunluğu

 Bir adımın uzunluğu

 Tırnağımızın genişliği

 Kapının boyu

 Camın kalınlığı

 Kalemin kalınlığı

 Buzdolabının yüksekliği

 Kitabın eni

Aşağıdaki uzunlukları istenilen birimlere çevirelim

1 cm = mm

30 mm = cm

2 cm = mm

50 mm = cm

4 cm = mm

60 mm = cm

7 cm = mm

80 mm = cm

10 cm = mm

90 mm = cm

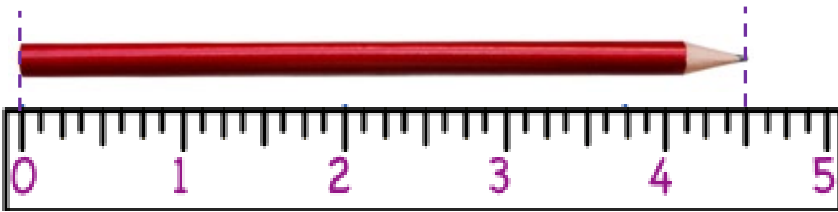
15 cm = mm

100 mm = cm

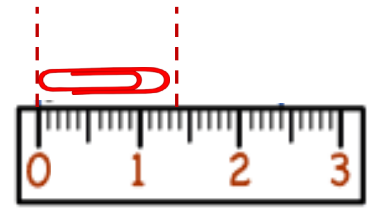
20 cm = mm

300 mm = cm

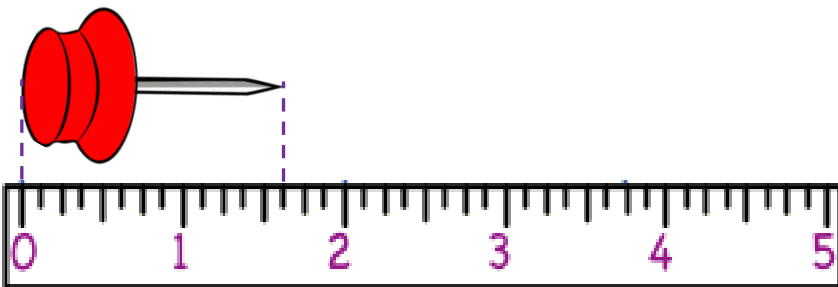
Aşağıdaki varlıkların boylarının uzunluklarını altlarındaki noktali yerlere yazınız.



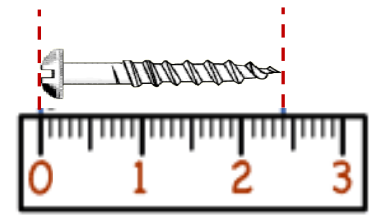
..... cm mm



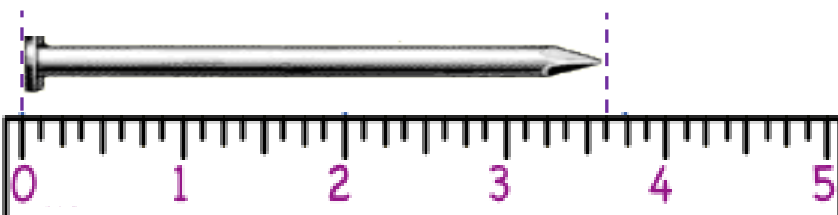
..... cm..... mm



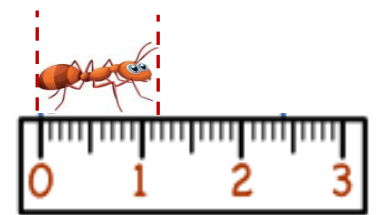
..... cm mm



..... cm mm



..... cm mm



..... cm mm