




Adı Soyadı :

Numarası :


Konu: Tartma ile İlgili Problemleri

Aşağıdaki problemleri dikkatlice okuyalım ve cevaplayalım.


1) Bir teneke zeytin 17 kilogram 500 gramdır. Tenekenin kütlesi 750 gram olduğuna göre zeytinin kütlesi kaç gramdır?




5) Baharatçı aldığı 16 kg karabiberi 200 g'lık poşetlere dolduruyor. Her bir poşeti 3 TL'ye satıyor. Baharatçı karabiberlerden kaç lira kar elde etmiştir?




2) Teyzem yaptığı her tepsi keke 150 g kuru üzüm koyuyor. Teyzem aldığı 3 kg kuru üzümle kaç tepsi kek yapabilir?




6) 4 aylık kardeşimin kütlesi 5 kg 850 gramdır. Kardeşim doğduğunda 3 kg 650 gr olduğuna göre, kardeşimin kütlesi kaç gr artmıştır?




3) 2 ton şekerin 1 t 250 kg'ı satılıyor. Geri kalanı 25 kg'lık çuvalara dolduruluyor. Bu iş için kaç çuval kullanılmıştır?



7) Hastalanan Yusuf günde 2 tane 200 mg ilaç tüketiyor. Yusuf 10 günde kaç gram ilaç tüketmiş olur?



4) Ceyda'nın kütlesi Burcu'nun kütlesinden 2700 g fazla, Yunus'un kütlesinden 7 kg 500 g azdır. Burcu 24 kg olduğuna göre, Yunus'un kütlesi ne kadardır?



8) Bir kamyon, kavun ve karpuz yüklü iken 17 t geliyor. Kamyonda 11 t 568 kg karpuz, 2890 kg kavun olduğuna göre, boş kamyonun kütlesi kaç kilogramdır?

