




Adı Soyadı :

Numarası :

Konu: "Bir Çokluğun Belirtilen Bir Kesir Kadarını Bulma" Etkinliği

Aşağıdaki nesnelerin birim kesir kadarını örnekteki gibi bulalım.

18 tane papatyanın $\frac{1}{6}$ 'i kaç eder?


$$18 \div 6 = 3$$

20 tane fındığın $\frac{1}{5}$ 'i kaç eder?


$$\dots \div \dots = \dots$$

24 tane boncuğun $\frac{1}{8}$ 'i kaç eder?

$$\dots \div \dots = \dots$$

28 tane gülün $\frac{1}{7}$ 'i kaç eder?

$$\dots \div \dots = \dots$$

18 tane şekerin $\frac{1}{9}$ 'i kaç eder?

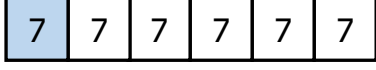
$$\dots \div \dots = \dots$$

36 tane nazar boncuğunun $\frac{1}{4}$ 'i kaç eder?

$$\dots \div \dots = \dots$$

Aşağıda basit kesir kadarı verilen çoklukların tamamını şekil çizerek örnekteki gibi bulunuz.

42'nin $\frac{1}{6}$ 'i kaçtır?



$$42 \div 6 = 7$$

48'in $\frac{1}{4}$ 'i kaçtır?

$$\dots \div \dots = \dots$$

64'ün $\frac{1}{8}$ 'i kaçtır?

$$\dots \div \dots = \dots$$

80'nin $\frac{1}{10}$ 'i kaçtır?

$$\dots \div \dots = \dots$$

Mert 48 TL'nin $\frac{1}{6}$ 'ini harcadı.
Buna göre Mert kaç TL harcamıştır?

$$\dots \div \dots = \dots$$

Bir kolideki 15 yumurtaların $\frac{1}{3}$ 'ü kırılıyor.
Buna göre kolideki kaç yumurta kırılmıştır?

$$\dots \div \dots = \dots$$

Bir otobüste 35 yolcu vardır. Yolcuların $\frac{1}{5}$ 'i bayan olduğuna göre, otobüste kaç bayan yolcu vardır?

$$\dots \div \dots = \dots$$

Manavdaki 54 tane kavunun $\frac{1}{9}$ 'ü satıldı.
Manavda kaç tane kavun satılmıştır?

$$\dots \div \dots = \dots$$