








Adı Soyadı :

Numarası :

Konu: Tartma (Ton ve Miligram)

Aşağıdaki görsellerden ton ile ölçülenlere "t" miligramla ölçülenlere "mg" yazınız.



Aşağıdaki işlemleri yapınız.

$$1 \text{ ton} + 750 \text{ kg} = \dots\dots\dots \text{ kg}$$

$$765 \text{ kg} + 500 \text{ kg} = \dots\dots\dots \text{ t} \dots\dots\dots \text{ kg}$$

$$2 \text{ ton} + 525 \text{ kg} = \dots\dots\dots \text{ kg}$$

$$850 \text{ kg} + 275 \text{ kg} = \dots\dots\dots \text{ t} \dots\dots\dots \text{ kg}$$

$$4 \text{ ton} + 100 \text{ kg} = \dots\dots\dots \text{ kg}$$

$$320 \text{ kg} + 784 \text{ kg} = \dots\dots\dots \text{ t} \dots\dots\dots \text{ kg}$$

$$5 \text{ ton} + 900 \text{ kg} = \dots\dots\dots \text{ kg}$$

$$1500 \text{ kg} + 500 \text{ kg} = \dots\dots\dots \text{ t}$$

$$7 \text{ ton} + 762 \text{ kg} = \dots\dots\dots \text{ kg}$$

$$2350 \text{ kg} + 1650 \text{ kg} = \dots\dots\dots \text{ t}$$

Aşağıdaki kütlelerden miktarı fazla olanları işaretleyiniz.

1) 150 mg
 150 g

2) 2 t
 1980 kg

3) 880 g
 1 kg

4) 5 t
 90 mg

5) 100 mg
 5 kg

6) 900 kg
 2 t

Aşağıdaki varlıkların kütlelerini ölçmek için kullandığımız ölçme birimlerini işaretleyiniz.

Varlıklar	Miligram	Ton	Varlıklar	Miligram	Ton
Kömür			Elmas		
Yüzük			Çiçek tohumu		
Fil			Odun		
Altın			Tren		
Kamyon			Gümüş		
Ataş			Zürafa		

Aşağıdaki dönüşümleri yapınız.

1 g = mg

300 mg = g

1 g 150 mg = g

2 g = mg

400 mg = g

2 g 320 mg = g

6 g = mg

700 mg = g

8 g 650 mg = g

11 g = mg

1000 mg = g

2550 mg = g mg

15 g = mg

25 000 mg = g

4342 mg = g mg