



Adı Soyadı :

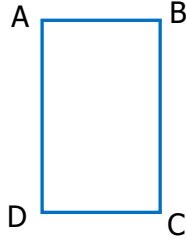
Numarası :

Konu: 5. Ünitenin Değerlendirmesi

ÜNİTE DEĞERLENDİRMESİ

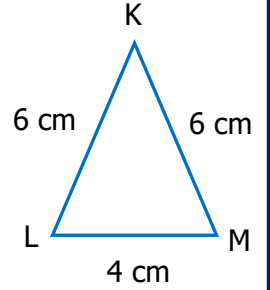
1) Yandaki dikdörtgen isimlendirilirken aşağıdaki ifadelerden hangisi kullanılmaz?

- A) ABCD dikdörtgeni
B) BCDG dikdörtgeni
C) ACDB dikdörtgeni
D) DABC dikdörtgeni

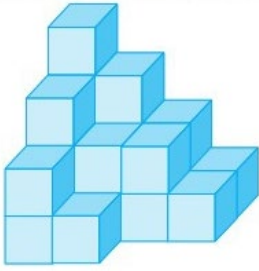


2) KLM üçgeni kenarlarına göre çeşidi aşağıdakilerden hangisidir?

- A) Eşkenar üçgen
B) İkizkenar üçgen
C) Çeşitkenar üçgen
D) Dik üçgen



3) Yandaki yapı kaç birim küpten oluşmuştur?



..... birim küp

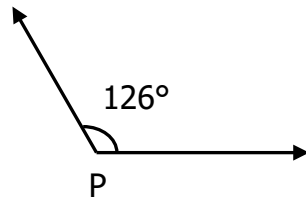
4) Aşağıdakilerden hangisi düzlem modelidir?

- A) B) C) D)

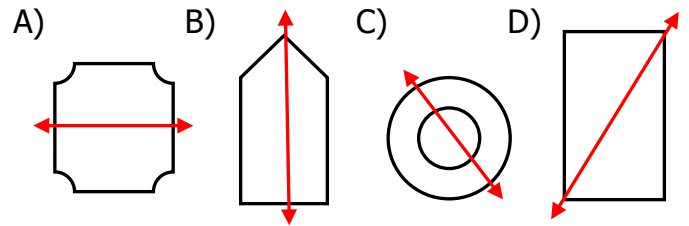


5) Yandaki açının çeşidi aşağıdakilerden hangisidir?

- A) Dar açı
B) Dik açı
C) Geniş açı
D) Doğru açı



6) Aşağıdaki şekillerden hangisinin üzerindeki doğru, o şekle ait bir simetri doğrusu olamaz?



7) Mert'in boyu 1 m 56 cm, Emre'nin boyu 1 m 65 cm'dir. Buna göre Emre'nin boyu Mert'in boyundan kaç mm daha uzundur?

Çözüm:

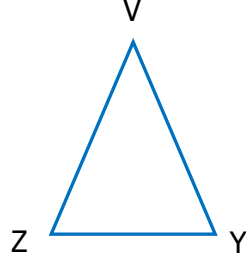
- I. Bütün açıları dik açıdır.
II. Karşılıklı kenar uzunlukları birbirine eşittir.
III. Bütün kenar uzunlukları birbirine eşittir.

8) Yukarıdaki ifadelerden hangileri kare ve dikdörtgenin ortak özelliklerinden değildir?

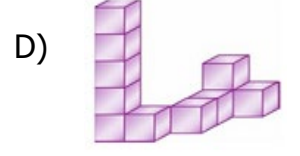
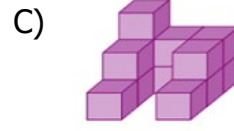
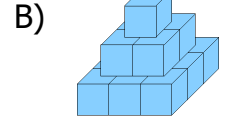
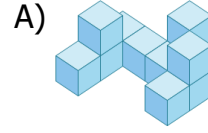
- A) II ve III B) I ve II C) Yalnız I D) I ve III

9) Aşağıdakilerden hangisi VYZ üçgeninin kenarlarından biri değildir?

- A) IVYI
B) IYLI
C) IZVI
D) IYZI

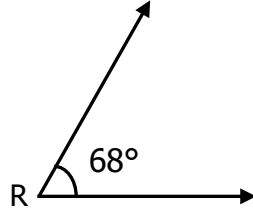


10) Aşağıdaki eş küplerden hangisinin sayısı diğerlerinden fazladır?

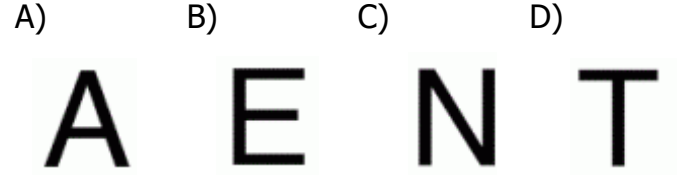


11) Yandaki \hat{R} açısının ölçüsü dik açının ölçüsünden kaç derece eksiktir?

- A) 22 B) 12
C) 21 D) 18



12) Aşağıdaki harflerden hangisinin simetri doğrusu çizilemez?



13) Aşağıdaki uzunluk dönüşümlerini yaparak noktalı yerlere yazalım.

80 mm = cm

700 cm = m

564 cm = m cm

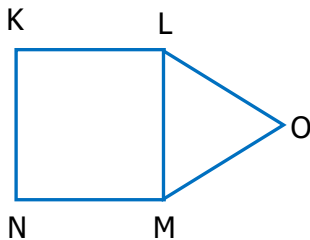
15 640 km = km m

14) Aşağıdakilerden hangisi düzlem modeli değildir?

- A) Bilgisayarın ekranı
B) Trafik işaret levhalarının yüzeyi
C) Ekmeğin Yüzeyi
D) Sıranın yüzeyi

15) Aşağıdaki şekilde verilen KLMN karesi ve LOM üçgeninin ortak kenarı aşağıdakilerden hangisidir?

- E) IKLI
F) ILMİ
G) IOMI
H) IMNI



16) Bir atlet üç günde toplam 10 km koşuyor. 1.gün 3450 metre, 2.gün 3149 metre koştuğuna göre 3.gün kaç metre koşmuştur?

Çözüm: