

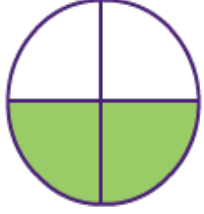


Adı Soyadı :

Numarası :

Konu: Parça Bütün İlişkisi ve Birim Kesirler 2

Şekillerin boyalı kısımlarını ifade eden kesirleri ve bu kesirlerin okunuşunu ve birim kesrini yazınız.



Kesir

.....

.....

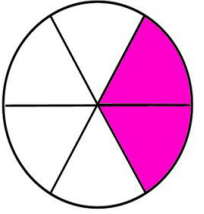
Kesrin okunuşu

.....

Birim Kesir

.....

.....



Kesir

.....

.....

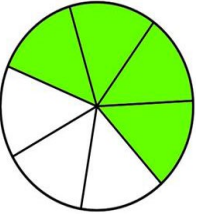
Kesrin okunuşu

.....

Birim Kesir

.....

.....



Kesir

.....

.....

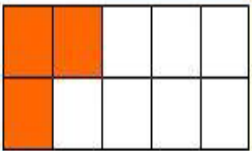
Kesrin okunuşu

.....

Birim Kesir

.....

.....



Kesir

.....

.....


Kesrin okunuşu

.....

Birim Kesir

.....

.....



Kesir

.....

.....

Kesrin okunuşu

.....

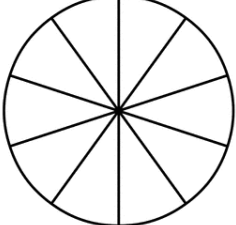
Birim Kesir

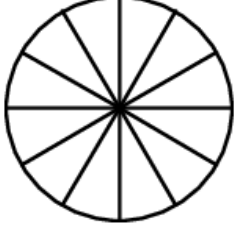
.....

.....

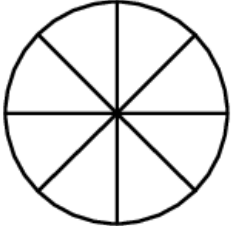
Aşağıda verilen bilgilerden yararlanarak noktalı yerleri doldurunuz. Kesirlere göre şekilleri boyayınız.

	Kesir $\frac{2}{6}$	Kesrin Okunuşu	Birim Kesir $\frac{....}{....}$
----------------------------------------------------------------------------------	-------------------------------	--------------------------------	-------------------------------------------

	Kesir $\frac{8}{10}$	Kesrin Okunuşu	Birim Kesir $\frac{....}{....}$
----------------------------------------------------------------------------------	--------------------------------	--------------------------------	-------------------------------------------

	Kesir $\frac{7}{12}$	Kesrin Okunuşu	Birim Kesir $\frac{....}{....}$
------------------------------------------------------------------------------------	--------------------------------	--------------------------------	-------------------------------------------

	Kesir $\frac{2}{5}$	Kesrin Okunuşu	Birim Kesir $\frac{....}{....}$
------------------------------------------------------------------------------------	-------------------------------	--------------------------------	-------------------------------------------

	Kesir $\frac{4}{8}$	Kesrin Okunuşu	Birim Kesir $\frac{....}{....}$
------------------------------------------------------------------------------------	-------------------------------	--------------------------------	-------------------------------------------