




Adı Soyadı :

Numarası :

Konu: Geometrik Şekiller 2


Aşağıdaki geometrik şekillerin isimlerini yazınız.



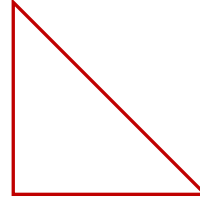
→



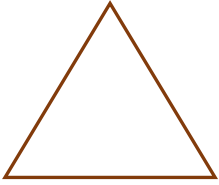
→




→



→



→



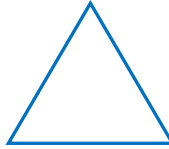
→

Aşağıda verilen geometrik şekilleri özelliklerine göre eşleştirelim.

4 köşem ve 4 kenarım
var. Bütün kenar
uzunluklarım eşittir.




3 kenarım ve 3 köşem
var.



Köşem ve kenarım
yoktur.



4 köşem ve 4 kenarım
var. Karşılıklı kenar
uzunluklarım birbirine
eşittir.



Aşağıdaki görselde geometrik şekillerin kaçar tane olduklarını yazınız. Görseldeki şekilleri istenilen renklere boyayınız.

Kareleri: **Kırmızı**

Dikdörtgenleri: **Mavi**

Çemberleri: **Yeşil**

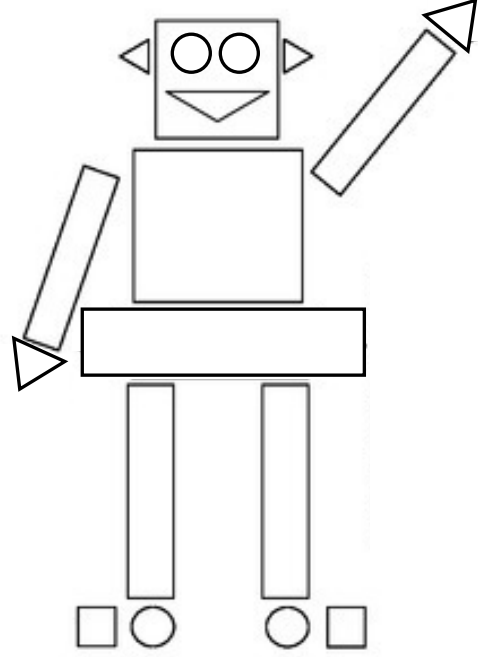
Üçgenleri: **Mor**

Kare: tane

Dikdörtgen:tane

Üçgen: tane

Çember: tane



Aşağıdaki şekillerin kenar ve köşelerini sayınız. Şekillerin kaçar tane olduklarını yazınız. Kenar ve köşe sayılarına göre verilen renklere boyayınız.

- 4 köşesi ve 4 eşit kenarı olanları maviye boyayınız.
- 3 kenarı 3 köşesi olanları kırmızıya boyayınız.
- 4 köşesi, 2 uzun ve 2 kısa kenarı olanları yeşile boyayınız.
- Kenarı ve köşesi olmayı kahverengine boyayınız.

