








Adı Soyadı :

Numarası :

Konu: Veri Toplama ve Değerlendirme

Aşağıdaki tabloyu inceleyelim. Soruları cevaplayalım.

Çiftlikteki Hayvanların Tablosu	
Hayvanlar	Sayısı
	8
	7
	3
	7
	5

1) İneklerle keçilerin toplamı kaçtır?

.....

2) Koyunlar tavuklardan kaç fazladır?

.....

3) Hangi hayvanların sayıları birbirine eşittir?

.....

4) Atların ve tavukların toplam sayısı hangi hayvan sayısına eşittir?

.....

Aşağıdaki aralık ayı hava olayları tablosuna göre soruları cevaplayınız.

1) Aralık ayında hava kaç gün kar yağışlıdır?

.....

2) Aralık ayında hava kaç gün yağmurludur?

.....

3) Aralık ayında hava kaç gün güneşlidir?

.....

4) Aralık ayında hava kaç gün bulutludur?

.....

Aralık Ayı Hava Olayları	
Hava Olayı	Gün Sayısı
	4
	7
	11
	9

Aşağıda Mustafa'nın günlük beslenme tablosu verilmiştir. Bu tabloyu inceleyerek soruları cevaplayınız.

Mustafa'nın Haftalık Beslenme Tablosu	
Günler	Yiyecek ve İçecekler
Pazartesi	Peynir, zeytin, reçel, süt
Salı	Yumurtalı ekmek, zeytin, meyve suyu
Çarşamba	Süt, ballı ekmek, kuruyemiş
Perşembe	Tereyağlı ekmek, süt, bal
Cuma	Börek, ayran, elma

1) Mustafa, pazartesi günü hangi yiyecek ve içecekleri okula getirecek?

.....

2) Mustafa, hangi günler süt içmektedir?

.....

3) Tereyağlı ekmek, süt ve bal getirilen gün hangisidir?

.....

4) Mustafa, cuma günü hangi yiyecek ve içecekleri okula getirecek?

.....

5) Mustafa, hangi gün okula kuruyemiş getirecek?

.....

6) Mustafa, hangi gün meyve suyu içmektedir?

.....