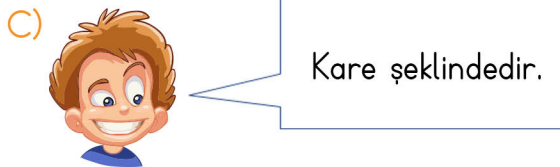
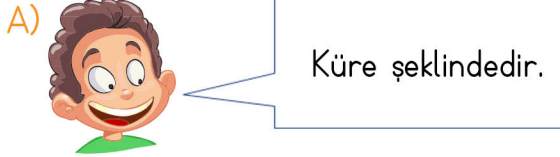


1.Ünite: Gezegenimizi Tanıyalım

1. Aşağıdaki ifadelerden hangisi yanlıştır?

- A) Eğer Dünya düz olsaydı sahile yaklaşan geminin önce bayrağı, yaklaştıkça direği ve sonradan da direği görülmezdi.
- B) Dünya yüzeyinin büyük bir kısmı denizlerle kaplıdır.
- C) Ateş küre ve ağır küre gözlemlenebilir katmanlardır.

2. Aşağıdaki öğrencilerden hangisinin Dünya'nın şekli ile ilgili söylediği doğrudur?

3. Aşağıdaki ifadelerden hangisi yanlıştır?

- A) Dünya'mız su küre, taş küre, ateş küre ve ağır küre olmak üzere dört katmandan oluşur.
- B) Ateş küre, magma adı verilen sıcak ve akışkan bir maddeden oluşur.
- C) Ağır küre, Dünya'nın en sıcak katmanıdır.

4.

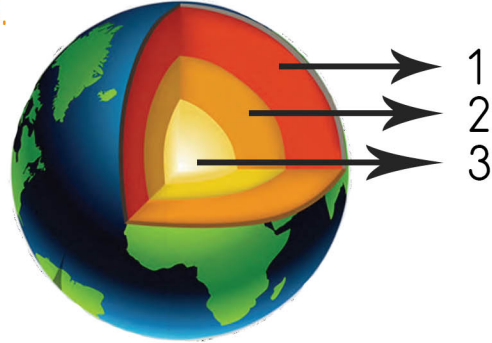


Bir yerden yolculuğa başlayan kişinin hep aynı yöne gitmesi hâlinde başladığı yere varacağını söylemiştir ve İspanya'dan Dünya turuna çıkmıştır.

Yukarıda bahsi geçen bilim adamı kimdir?

- A) Galileo B) Pisagor
- C) Macellan

5.



Dünya'mızın katman modelinde rakamlara karşılık gelen doğru katman isimleri hangileridir?

- A) 1. Yer kabuğu 2. Magma 3. Çekirdek
- B) 1. Magma 2. Dış Çekirdek 3. İç Çekirdek
- C) 1. Yer kabuğu 2. Dış Çekirdek 3. İç Çekirdek

1.Ünite: Gezegenimizi Tanıyalım

6. I. Taş küre hayvanların ve insanların yaşama alanıdır.
II. Taş küre engebeli bir yapıya sahiptir.
III. Taş küre hava katmanı olarak da bilinir.

Yukarıdaki taş küre ile verilen bilgilerden hangileri doğrudur?

- A) I ve II B) Hepsi
C) I ve III

7.



Bahçede oynayan çocuklar Dünya'nın hangi katmanı üzerindedir?

- A) Hava katmanı B) Kara katmanı
C) Su katmanı

8. Yağmur, kar, dolu gibi yağış şekilleri ve rüzgâr oluşumunun gerçekleştiği katman

Yukarıda cümleyi tamamlayan en uygun sözcük grubu hangisidir?

- A) taş küredir. B) hava küredir.
C) su küredir.

9.



Dünya görseline baktığımızda aşağıdaki bilgilerden hangisine ulaşamayız?

- A) Dünya'mızın yüzeyinde karalar ve sular yer alır.
B) Dünya yüzeyinin büyük bir kısmı sularla kaplıdır.
C) Dünya yüzeyinin büyük bir kısmı karalarla kaplıdır.

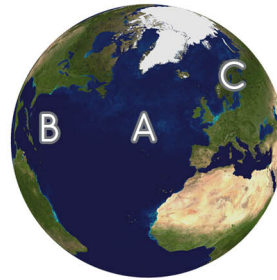
10.



Yerden uzaya doğru fırlatılan bir roket hangi katmandan geçmek durumundadır?

- A) Hava küre B) Taş küre
C) Su küre

11.



Dünya yüzeyinde A noktasından hareket eden bir kişi sürekli kuzeye giderse hangi noktaya ulaşır?

- A) B noktasına ulaşır.
B) Yine A noktasına ulaşır.
C) C noktasına ulaşır.

1.Ünite: Gezegenimizi Tanıyalım

- 1) C
- 2) A
- 3) A
- 4) C
- 5) B
- 6) A
- 7) B
- 8) B
- 9) C
- 10) A
- 11) B