



Adı Soyadı :

Numarası :


Konu: Uzunluk Ölçme 1


Aşağıdaki varlıklardan uzun olanları işaretleyiniz.


























Aşağıdaki varlıklardan kısa olanları işaretleyiniz.

















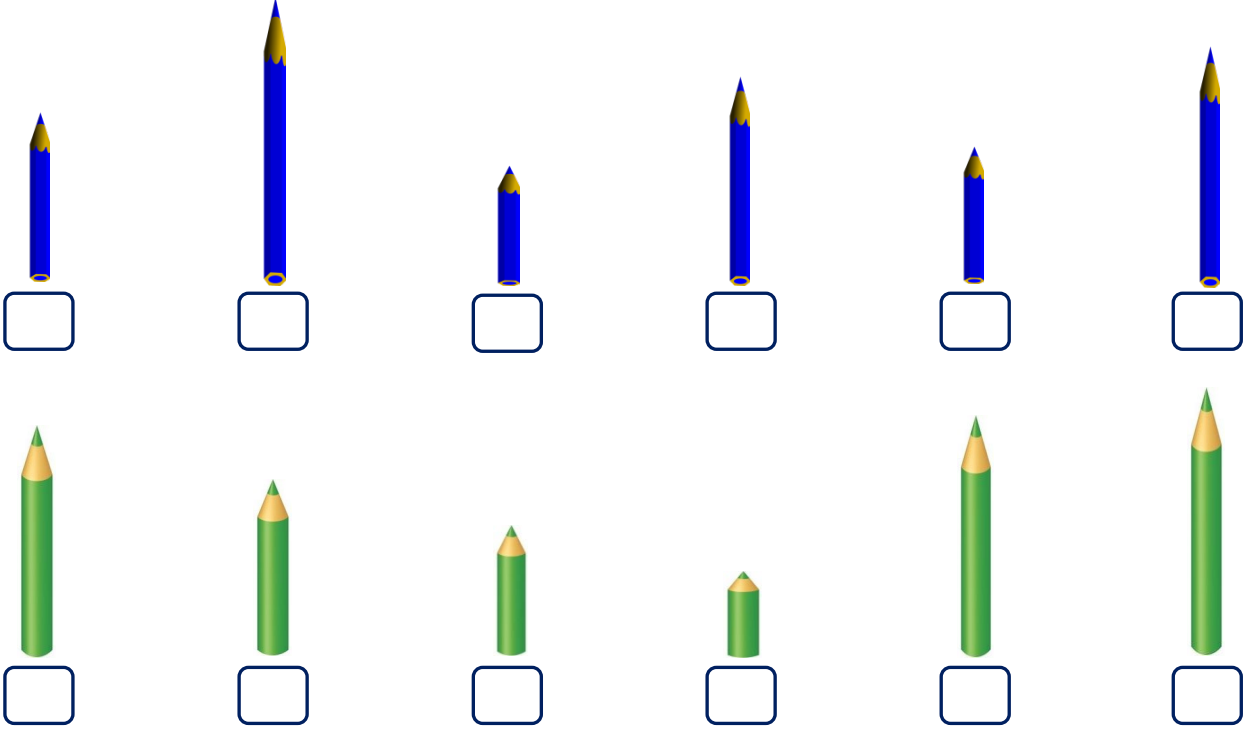








Aşağıdaki kalemleri uzundan kısaya doğru sıralayınız. Resimlerin altına kaçınıcı sırada olduklarını sıra sayılarını kullanarak yazınız.



Baştaki kalem hangi sırada olmalıdır? Uygun yeri okla işaretleyelim.

