




Adı Soyadı :

Numarası :

Konu: Sıvı Ölçme

Aşağıdaki görsellerde verilen sıvı maddeleri işaretleyelim.



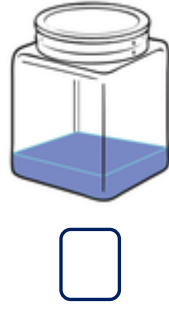
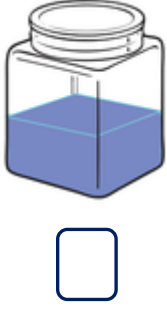
Sıvıları ölçmek için kullandığımız araçların altındaki kutucukları işaretleyelim.



Şişelerdeki sıvı miktarlarını çoktan aza doğru sıralayınız.
Kaçıncı sırada olduklarını şişelerin altındaki kutucuklara yazınız.



Kavanozlardaki sıvı miktarlarını azdan çoğa doğru sıralayınız.
Kaçıncı sırada olduklarını kavanozların altındaki kutucuklara yazınız.



Aşağıdaki bardaklardan eşit miktarda dolu olanlarını işaretleyiniz.



Aşağıdaki bardakları yarısına kadar dolu olacak şekilde boyayınız.



1) Yandaki kovayı hangisini kullanarak daha çabuk doldururuz?



a)



b)



c)



2) Aşağıdaki kaplardan hangisi daha az su alır?

a)



b)

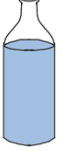


c)



3) Aşağıdaki şişelerden hangisinin yarısı doludur?

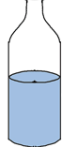
a)



b)



c)



4) Aşağıdaki kaplardan hangisini kullanarak tencereyi en geç doldururuz?



a)



b)



c)



5) Aşağıdakilerden hangisi sıvıdır?

a)



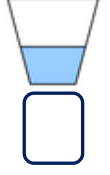
b)



c)



1) Aşağıdaki kapların sıvı miktarlarını azdan çoğa doğru sıralayınız.




2) Yukarıdaki kavanoz 5 bardak meyve suyu ile yarısına kadar doldurulmuştur. Kabin tamamı kaç bardak meyve suyu ile doldurulur?

a) 8

b) 10

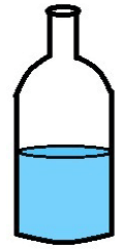
c) 12



1



2



3

3) Yukarıdaki kaplarda verilen sıvı miktarlarına göre hangi ifade yanlıştır?

a) Birinci kaptaki sıvı miktarı, üçüncü kaptan daha azdır.

b) İkinci kaptaki sıvı miktarı birinci kaptan fazladır.

c) Üçüncü kaptaki sıvı miktarı, ikinci kaptan fazladır.